

DERS ADI	SORU SAYISI	TOPLAM SORU SAYISI	SINAV SÜRESİ (DAKİKA)
TÜRKÇE	10	50	90
MATEMATİK	10		
FEN BİLİMLERİ	10		
SOSYAL BİLGİLER	10		
İNGİLİZCE	5		
DİN KÜLT. VE AHL. BİL.	5		

SORU KİTAPÇIK NUMARASI


0 2 0 2 2 4 0 3

T.C. KİMLİK NUMARASI	
ADI VE SOYADI	
SINIFI / ŞUBESİ	
ÖĞRENCİ NUMARASI	

ÖĞRENCİLERİN DİKKATİNE!

SINAV BAŞLAMADAN ÖNCE AŞAĞIDAKİ UYARILARI MUTLAKA OKUYUNUZ.

- Öğrenci yoklama listesinde belirtilen sınıfta ve sıra numarasında oturunuz.
- Cevap kağıdındaki kimlik bilgilerinin doğruluğunu kontrol ediniz.
- Kitapçık türünü cevap kağıdındaki ilgili alana kodlayınız.
- Cevap kağıdı üzerindeki kodlamaları kurşun kalemle yapınız.



TÜRKÇE

Bu testte 10 soru vardır.

A

1.



Görseledeki nesnenin adında bulunan harflerle aşağıdakilerden hangisi yazılabilir?

A)



B)



C)



D)



2.



Mevlana'nın "İnsan dostunun huyunu alır." sözü aşağıdaki atasözlerinden hangisiyle aynı anlamı ifade **etmez**?

- A) Dost ile ye, iç alışveriş etme.
- B) Bana arkadaşını söyle, sana kim olduğunu söyleyeyim.
- C) Üzüm üzüme baka baka kararır.
- D) Kır atın yanında duran, ya huyundan ya suyundan.

3. Aşağıdaki sözcükler harflerle eşleştirilmiştir.

I.

Ben ve annem pazardan iki bağ roka aldık.

II.

Ak akçe kara gün içindir.

III.

Elektrikler olmadığı için klima çalışmıyor.

Numaralandırılmış ifadelerle ilgili aşağıdakilerden hangisi **yanlıştır**?

- A) III numaralı cümlede birden fazla yazım yanlışı yapılmıştır.
- B) II numaralı cümlede birbirinin eş anlamlısı kelimeler vardır.
- C) I numaralı cümlede birden fazla sestek kelime vardır.
- D) II numaralı cümle atasözüdür.

4.

A	K	C	İ	M	R	İ
Y	O	G	E	Z	M	E
A	T	A	B	İ	P	A
Ş	S	İ	Y	A	H	T
H	E	M	Ş	İ	R	E

Aşağıdaki kelimelerden hangisinin eş anlamlısı bulmacada **verilmemiştir**?

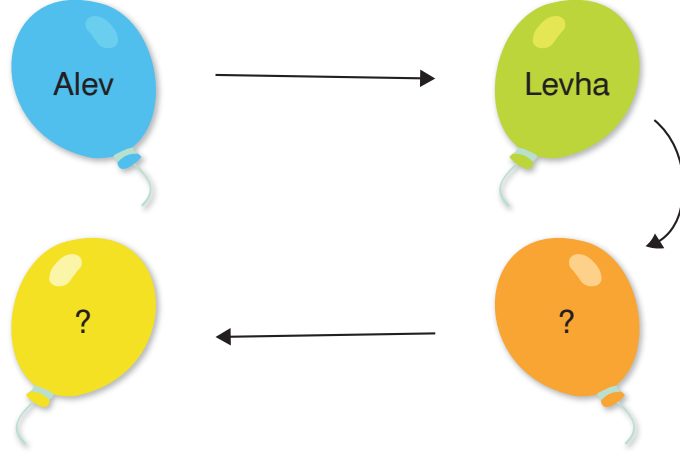
- A) Doktor
- B) Beyaz
- C) Cömert
- D) Islak



TÜRKÇE

A

5.



Balonlar üzerinde yazan sözcükler ok yönünde sıralanmıştır.

Sözcükler kendinden önceki sözcüğün son hecesi ile başladığına göre turuncu ve sarı balona yazılabilecek sözcükler hangisi olabilir?



- A) Hantal Altın
B) Hasta Tabak
C) Hakem Kemik
D) Hanımeli Limon

6.

Vatan için toprağa, —————→	I
Uzanmış yatıyorsun, —————→	II
Ay yıldızlı bayrak için, Canından geçiyorsun.	
Alper SARI —————→	III

Romen rakamlarıyla gösterilen kavramların isimleri hangi seçenekte verilmiştir?

	<u>I</u>	<u>II</u>	<u>III</u>
A)	Mısra	Satır	Şair
B)	Dize	Kıta	Ozan
C)	Dize	Dörtlük	Yazar
D)	Kıta	Dize	Ozan



TÜRKÇE

A

7.



Trabzon

kertenkele

kestane

Çanakkale

elektrik

karpuz

itfaiye

sporcu

boyacı

Yukarıda verilen sözcükler hece sayılarına göre çuvalara konulacaktır.

Buna göre çuvalarda biriken sözcük sayıları hangi seçenekte doğru verilmiştir?



8.

Sözcük	Tekil	Çoğul	Topluluk
Evler		×	
	×		
			×
		×	

Sembollerle gösterilen sözcükler tekil, çoğul ve topluluk durumuna göre işaretlenmiştir.

Tabloya göre sembollere karşılık gelen sözcükler aşağıdakilerden hangisidir?


- A) Kuşlar Orman Kaşık
- B) Sürü Deste Kiler
- C) Masa Çocuklar Ordu
- D) Güler Takım Balonlar



TÜRKÇE

A

9.




Birbirinin eş anlamlısı olan sözcüklerin yazılı olduğu balonlar patlatılırsa geriye hangi renk balon kalır?


A)




B)



C)



D)



10.

Eyvah () yemeği yere döktüm ()
Annem gelmeden temizlemeliyim ()
Acaba annem gelmeden evi temizleyebilir miyim ()


Yukarıda verilen ayraçların içine sırasıyla hangi noktalama işaretleri getirilmelidir?

A) (!) (.) (.) (.)

B) (,) (.) (!) (?)

C) (') (!) (.) (?)

D) (,) (!) (.) (?)




MATEMATİK

Bu testte 10 soru vardır.

A

1. Semra Hanım aşağıda fiyatları verilen ürünlerden birer tane alacaktır.



Semra Hanım, mağazaya giderken yanına ürün fiyatlarının en yakın onluklarının toplamı kadar para almıştır.

Buna göre aşağıdakilerden hangisi doğrudur?

- A) 2 TL parası artar.
- B) 2 TL eksik parası vardır.
- C) Hiç parası artmamıştır.
- D) 1 TL parası artar.


2.



6 yıl önce 4 yaşındaydım.

Elisa

2 yıl sonra Elisa'nın şimdiki yaşında olacağım.

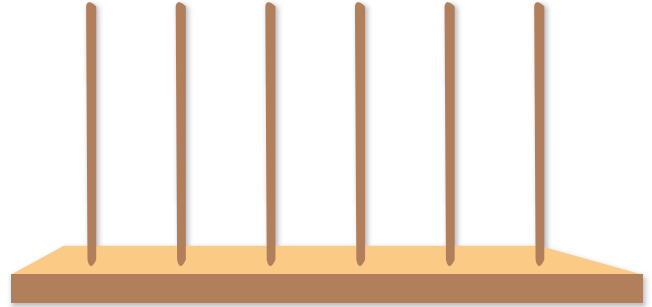


Defne

Buna göre Elisa ve Defne'nin 7 yıl sonraki yaşları toplamı kaç olur?

- A) 25
- B) 28
- C) 30
- D) 32

3.



Ahmet, 3 düzine sayı pulunun tamamını kullanarak abaküste aşağıdaki sayılardan hangisini oluşturabilir?

- A) 589 662
- B) 609 973
- C) 721 874
- D) 964 765



7.



Tahtada yazan çift sayılardan en büyük olanının rakamları toplamı kaçtır?

- A) 42 B) 23 C) 22 D) 19

8.

“Üç yüz yetmiş sekiz bin altı yüz otuz beş”

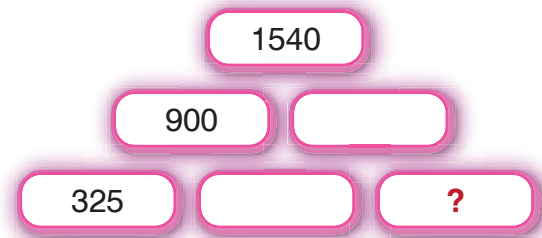
Yukarıda okunuşu verilen sayı ile ilgili verilenlerden hangisi **yanlıştır**?

- A) En büyük rakam onbinler basamağındadır.
B) Tekrar eden rakamın basamak değerleri toplamı 300 300'dür.
C) Birler bölümündeki rakamların toplamı 14'tür.
D) Binler bölümündeki sayı kendinden sonraki onluğa yuvarlanır.

9. 4325 sayısının en yakın onluğu ile en yakın yüzlüğünün toplamı kaçtır?


- A) 8610 B) 8620
C) 8630 D) 8720

10. Aşağıdaki toplama piramitinde yan yana olan iki kutudaki sayının toplamı bir üstteki kutucuğa yazılacaktır.



Buna göre soru işareti olan yere aşağıdaki sayılardan hangisi yazılmalıdır?

- A) 85 B) 75 C) 70 D) 65



FEN BİLİMLERİ

Bu testte 10 soru vardır.

A

1.

GİRİŞ

Su ve mineraller bütün besinlerde bulunur.

D

Y

Yağlar vücudumuzda deri altına yerleşerek vücudumuzu darbelere karşı korur.

Proteinler vücudumuzda düzenleyici olarak görev yapar.
Mikroplara karşı dayanıklılığımızı artırır.

D

Y

ÇIKIŞ

D

Y

1. Çıkış

2. Çıkış

3. Çıkış

4. Çıkış

Girişten başlayarak ifadeler doğru ise D, yanlış ise Y oku takip edilirse hangi çıkışa ulaşırlır?

A) 1. Çıkış

B) 2. Çıkış

C) 3. Çıkış

D) 4. Çıkış

2.

Solunumla ilgili organların yapısını bozar.

Bilinç kaybına neden olabilir.

Ağız kokusu yapmaz.

Tat alma duygusunu zayıflatır.

Aile ekonomisine zararı vardır.

Sigara ile verilen ifadelerden kaç tanesi doğrudur?

A) 2

B) 3

C) 4

D) 5

3.



Verilen modellemeye göre aşağıdaki bilgilerden hangisi **yanlıştır**?

A) A noktasında hava aydınlıktır.

B) B noktasında gece yaşanmaktadır.

C) C noktasında gün ışığından yararlanılmaktadır.

D) D noktasında sokak lambaları yanmaktadır.



FEN BİLİMLERİ

A

4.



Kutay'ın alışveriş listesindeki besin çeşitlerinden kaç adet alındığı yanlarındaki "✓" işareti ile gösterilmiştir.

Buna göre Kutay'ın alışveriş listesi aşağıdakilerden hangisi olabilir?

A)

zeytin yağ, armut,
nar, balık, domates,
ekmek

B)

un, sucuk, patlıcan,
yoğurt, margarin,
peynir

C)

et, yumurta, simit,
elma, tereyağ,
makarna

D)

lahana, pırasa, tavuk,
patates, pamuk yağı,
karpuz

5.

Fosillerle ilgili çalışma yapan bilim insanı.



● Mineral

Fosilleri inceleyen bilim dalı.



● Paleontolog

Doğal yollarla oluşan kristal yapıli sert maddelerdir.



● Paleontoloji

Yukarıdaki eşleştirme hangi seçenekte doğru verilmiştir?

A)



B)



C)



D)





FEN BİLİMLERİ

A

6.



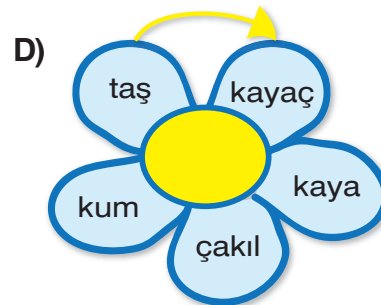
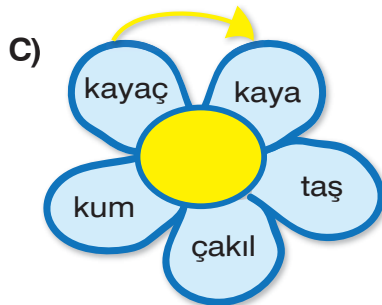
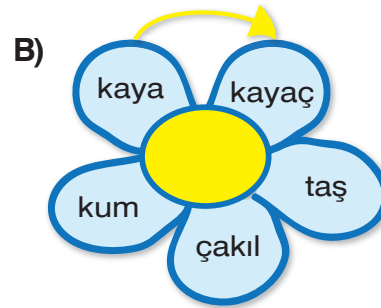
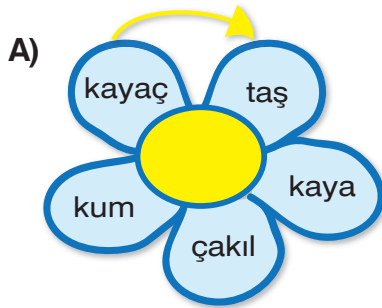
Dünyamızın hareketleri kavram haritasında sembolle gösterilen yerlere aşağıdakilerden hangileri yazılabilir?

- A)** Ay'ın etrafında dönme hareketi
B) Güneş etrafında dolanma hareketi
C) Dünya'nın etrafında dolanma hareketi
D) Güneş'in etrafında dönme hareketi

- 1 yıl oluşur.
Gece gündüz oluşur.
24 saat oluşur.
12 ay oluşur.

7. Kayaçların parçalanma aşamaları çiçeklerin yapraklarına ok yönünde sıralanmıştır.

Buna göre kayaçların parçalanma aşamaları hangi seçenekte doğru sıralanmıştır?



















FEN BİLİMLERİ

A

8.

-  Bitkilerin kalıntıları da fosil oluşturabilir.
-  Fosiller nesli tükenen canlılar hakkında bilgi verir.
-  Fosiller canlıların yumuşak kısmından oluşur.
-  Fosiller zamanla petrol, doğalgaz ve kömüre dönüşebilir.





Fosillerle ilgili verilen bilgilerden hangileri doğrudur?


- A)  ve 
- B)  ve 
- C) ,  ve 
- D) ,  ve 

9. Aşağıda verilen madenler ve kullanım alanları ile ilgili bilgilerden hangisi **yanlıştır**?

- A) Altın - Süs eşyası ve yatırım aracı olarak kullanılmaktadır.
- B) Kömür - Elektrik üretiminde kullanılmaktadır.
- C) Demir - Sanayi sektöründe kullanılmaktadır.
- D) Mermer - Elektronik alet yapımında kullanılmaktadır.

10. Aşağıdaki çocuklardan hangisi öğle yemeğinde yeterli ve dengeli beslenmektedir?

- A)  Çorba - Salata - Köfte
- B)  Hamburger - Cips - Kola
- C)  Mısır - Gazoz - Pizza
- D)  Kumpir - Şeker - Limonata



SOSYAL BİLGİLER

Bu testte 10 soru vardır.

A

1. Aşağıdaki ifadelerden doğru olanlar için **mavi**, yanlış olanlar için **kırmızı** ok takip edilecektir.

Doğu Cephesi komutanı Kâzım Karabekir'dir.

Atatürk, Nusret Mayın Gemi-si'ne binerek İstanbul'dan Samsun'a gitmiştir.

1. çıkış

2. çıkış

Ali Saip Bey Güney Cephe-si'nde müca-dele vermiştir.

3. çıkış

4. çıkış

İfadelerin doğruluk yanlışlık durumuna göre oklar takip edildiğinde kaçınıcı çıkışa ulaşılır?

- A) 4. B) 3. C) 2. D) 1.

2. **Gülten:** Yüzümde doğum lekeleri var.
İbrahim: Açık sözlü biriyim.

Yukarıdaki çocuklar sırasıyla hangi özelliklerinden bahsetmiştir?

- A) Fiziksel özellik - Kişisel özellik
B) Duygusal özellik - Kişisel özellik
C) Fiziksel özellik - Duygusal özellik
D) Bedensel özellik - Zihinsel özellik

3. Aşağıdaki atasözlerinden hangisi bireysel farklılıklarla ilgili **değildir**?


- A) Siyah inekten beyaz süt sağılır.
B) Beş parmak bir olmaz.
C) Taze bardağın suyu soğuk olur.
D) İğneyi kendine çuvaldızı başkasına batır.

4.

Köprüler	Sazlıklar
Denizler	Dağlar
Tarlalar	Çocuk parkları

Tablodaki beşeri unsurlar kırmızıya boyanırsa tablonun görünümü nasıl olur?


A)




B)



C)



D)



5.



Çocuklar bugünkü serbest etkinlik dersinde ne yapalım?

Resim yapalım.



Sudoku çözelim.



Film izleyelim.



Öğretmenin sorduğu soruya öğrencilerin farklı cevaplar vermesinin nedeni aşağıdakilerden hangisidir?

- A) Cinsiyetlerinin farklı olması
B) İlgi alanlarının farklı olması
C) Yeteneklerinin farklı olması
D) Zeka seviyelerinin farklı olması



SOSYAL BİLGİLER

A

6.



Güneşin battığı yöne doğru sağ elimi uzattım.

Buna göre Hasan'ın sırtı hangi yönü gösterir?

- A) Kuzey B) Güney
C) Doğu D) Batı

7.



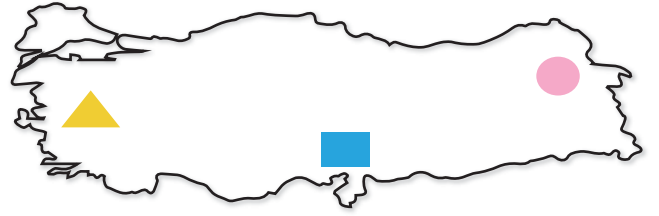
Mustafa Kemal Atatürk'ün kimliğine bakarak,

- I. 1938 yılında öldüğü
II. Soyadının Kemal olduğu
III. Selânik'te doğduğu
IV. Babasının adının Ali Rıza Efendi olduğu
V. Kazandığı savaşlar

bilgilerinden hangileri söylenebilir?

- A) I, II ve III. B) II ve IV.
C) III ve IV. D) III, IV ve V.

8.



Milli Mücadele Dönemi'nde haritada sembollerle gösterilen yerlerde mücadele edilen milletler hangi seçenekte doğru olarak verilmiştir?

- A) Yunanlılar Fransızlar Ermeniler
B) Ermeniler Fransızlar Yunanlılar
C) Yunanlılar Ermeniler Fransızlar
D) Fransızlar Yunanlılar Ermeniler

9.

Babaannesi ile sözlü tarih çalışması yapan Melisa, aşağıdaki sorulardan hangisini babaannesine sormasına gerek **yoktur**?

- A) Çocukken hangi oyunları oynadın?
B) Dedem ile ne zaman evlendiniz?
C) Çocukluğun nerede geçti?
D) Önümüzdeki yıllarda neler yapmayı planlıyorsun?


10.

Merve, hayatındaki belli başlı olayları harflerle eşleştirmiştir.

- i 2016 yılında anaokuluna başladım.
T 2014 yılında kardeşim Mert doğdu.
K 2011 yılında Mersin'de doğdum.
P 2017 yılında 1. sınıfa başladım.
A 2012 yılında yürümeye başladım.

Buna göre Merve'nin hayatındaki olaylar kronolojik olarak sıralanırsa hangi sözcük oluşur?

- A) KİTAP B) PATİK
C) TAKİP D) KATİP



DİN KÜLTÜRÜ VE AHLAK BİLGİSİ

Bu testte 5 soru vardır.

A

1. Namaz, günde beş vakit yerine getirilen bir ibadettir. Akıllı ve sorumluluk yaşına girmiş her Müslümanın namaz kılması gerektiği “...*Namazı dosdoğru kılın; çünkü namaz müminler üzerine vakitleri belli bir farzdır.*” (Nisâ suresi, 103. ayet) ayetiyle belirtilmiştir. Namaz kılan bir kimse Allah’ı anar, O’na şükreder ve O’ndan yardım ister. Rabbini andığı için kalbi huzurla dolar, kendisini daha mutlu hisseder. Allah’a secde ederek O’na daha çok yakınlaşır. Namaz insanı güzel davranışlara yönlendirir ve kötü duygulardan arındırır. Bu konuyla ilgili Kur’an-ı Kerim’de “...*Namaz, insanı her türlü kötülükten ve hayasızlıktan alıkoyar...*” (Ankebut suresi, 45. ayet) buyrulurak samimiyetle kılınan namazın insanı kötü duygu ve düşüncelerden arındıracağı ifade edilmiştir.

Bu bilgilere göre namaz ile ilgili;

- I. İnsanları kötülüklerden ve ahlaki olmayan davranışlardan uzaklaştırdığı,
- II. Yerine getirilmesinin İslam’ın diğer şartlarından daha önemli olduğu,
- III. İnsanlara belirli bir yaşta sonra farz olduğu

çıkarımlarından hangileri yapılabilir?

- A) Yalnız I. B) Yalnız II. C) I ve III. D) II ve III.

2. Selam; barış, esenlik, huzur, emniyet ve güven gibi anlamlara gelir. “Selam” ile “İslam” aynı kökten türeyen iki kelimedir. İslam dini, insanların birbirine güvenmesini ve barış içinde yaşamasını ister. İnsanların birbirlerine selam vermesine selamlaşma denir. Selamlaşma, insanlar arasında sevgi ve dostluğun artmasını sağlar. Selamlaşma ile insanların birbirine güvenmesinin temeli atılır, sevgi ve saygıya dayalı ilişki gelişir. İnsanların birbirine güvenmesinin ilk basamağı selamlaşmaktır. Birbirine selam veren insanlar “Bana güvenebilirsin, benden sana zarar gelmez.” mesajı vermiş olurlar.

Bu bilgilere göre selamlaşmanın toplumda aşağıdakilerden hangisinin artmasını sağlamaz?

- A) Birlik ve beraberliğin B) Kardeşliğin C) Barışın D) Önyargının

3. **Sübhaneye Duası’nın Anlamı**
“Allah’ım! Sen tüm eksikliklerden uzaksın. Seni daima överim. Senin adın kutludur. Senin şanın her şeyden üstündür. Senden başka ilah yoktur.”

Anlamı verilen Sübhaneye Duası ile ilgili;

- I. Tekbir ile namaza başlarken ilk olarak bu dua okunur.
- II. Sadece Cuma namazlarının başında okunmaz.
- III. Hayatın her anında Allah’a olan saygıyı ve övgüyü ifade etmenin güzel bir yoludur.

ifadelerinden hangileri doğrudur?

- A) Yalnız II. B) I ve II.
C) I ve III. D) I, II ve III.

4. ----- (?) ----- ; Allah’ın emriyle çeşitli görevleri yerine getiren, nurdan yaratılmış ve gözle görülmeyen varlıkların varlığına iman etmektir. Bu varlıklar yağmurun yağması, bitkilerin büyümesi gibi pek çok olayda görevlidir.

Bu bilgede boş bırakılan yere aşağıdakilerden hangisi getirilebilir?


- A) Allah’a iman B) Meleklerle iman
C) Peygamberlere iman D) Kitaplara iman

5.



Görseli verilen aile Allah’ın kendisine verdiği nimetler karşısında O’na şükretmek için ifadelerden hangisini kullanamaz?

- A) “Estağfurullah” B) “Hamdolsun”
C) “Elhamdülillah” D) “Şükürler olsun”

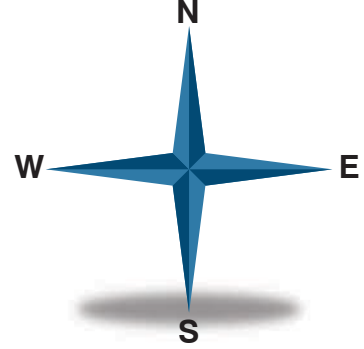
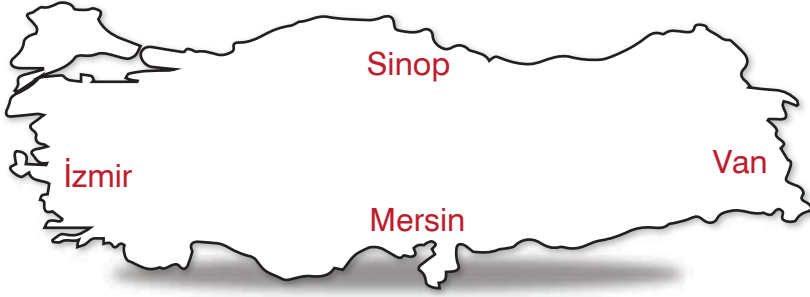


İNGİLİZCE

Bu testte 5 soru vardır.

A

1.



..... is in the South.

Verilen harita ve pusulaya göre yukarıdaki noktalı yere aşağıdakilerden hangisi yazılmalıdır?

- A) İzmir B) Sinop C) Van D) Mersin

2.



This is guitar.



I play guitar. I like music.

Yukarıdaki boşluklara sırasıyla hangi sözcükler yazılmalıdır?

- A) my / like B) his / can't
C) my / can D) her / don't like

3.

fifty	thirty - five
twenty - three	sixty - nine
seventy - six	eighty - eight

Tablodaki sayılardan tek sayı olanlar sarıya boyanırsa tablonun görünümü nasıl olur?

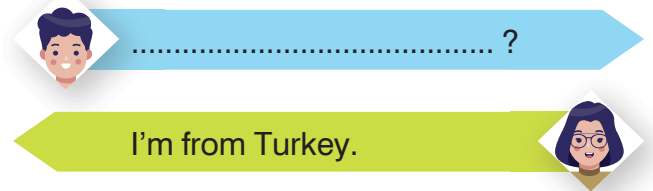
- A)

 B)

- C)

 D)

4.



Verilen konuşmada boş bırakılan yere aşağıdakilerden hangisi yazılmalıdır?

- A) May I sit here?
B) Where are you from?
C) What is your name?
D) How are you?

5.

Derse geç kalan Can, sınıfa girmek için izin istemektedir.

Buna göre Can'ın cümlesi aşağıdakilerden hangisi olabilir?

- A) May I come in?
B) May I clean the board?
C) May I take the ruler?
D) Thank you.