



ADI:

SOYADI:

SINIFI:

NUMARASI:

OKULU:

www.ilkokulevim.com

**4.SINIF
KAZANIM DEĞERLENDİRME
SINAVI**



Bu test 10 sorudan oluşmaktadır.

1- Aşağıdaki cümlelerde verilen altı çizili kelimelerden hangisindeki ünlülerin hepsi kalın ünlüdür?

- A. Telefonum bozulduğu için seni arayamadım.
 B. İhlamur ağacı güzel kokuyordu.
 C. Sırrımı sakın kimseye söyleme.
 D. Yangın ormanın tamamını kaplamıştı.

■ Orçun

✓ Osman

▲ Orhun

● Orhan

2- Yukarıdaki tabelada yazan kelimeler sözlük sırasına göre dizilirse birinci ve sonuncu şekiller hangisi olur?

A. ▲-■

B. ✓-●

C. ■-✓

D. ●-■

tatil - tünel - takip - turşu
tespih

3- Yukarıdaki sözcükler kaç tanesi sözlükte "tel" kelimesinden sonra gelir?

A. 5

B. 4

C. 3

D. 2

4-

lh-
lamurHanım-
eliMayda-
nozMa-
rul

Yukarıdaki kelimelerden hangisi yanlış ayrılmıştır?

- A. ihlamur
 B. hanımeli
 C. maydanoz
 D. marul

Gece yarısı köye yakın ormanlıkta alanda çıkan yangın tüm araziyi kaplamıştı. Köylüler, köyü boşalttılar.

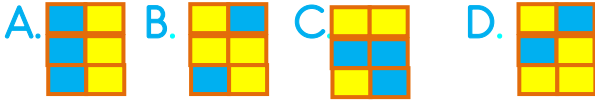
5- Yukarıdaki metinde hangi sorunun cevabı yoktur?

- A. Ne zaman?
 B. Kim?
 C. Nerede?
 D. Niçin?



sözlük	evler
boyacı	yolcu
insanlar	tuzluk

6- Yukarıda verilen kelimeler aldığı ekler bakımından benzer olanlar aynı renge boyansa nasıl bir modelleme ortaya çıkar?



Alilerin yaşadığı şehrin adı birleşik bir sözcüktür.

7- Yukarıdaki bilgiye göre Aliler hangi şehirde oturabilir?

- A. Denizli
- B. Konya
- C. Çanakkale
- D. Trabzon

8- Aşağıdaki cümlelerde kullanılan "soğuk" kelimesi hangi cümlede farklı anlamda kullanılmıştır?

- A. Dün hava çok soğuktu.
- B. Ayşe bana soğuk davrandı.
- C. Çayım soğudu.
- D. Soğuk yemek yiyemem.

9- Aşağıdaki deyimlerden hangisi "çok sevinmek" anlamında kullanılır?

- A. Etekleri zil çalmak
- B. Ödü kopmak
- C. Paçaları sıvamak
- D. Etekleri tutuşmak

10- Aşağıdaki cümlelerden hangisinde zıt anlamlı kelimeler aynı cümle içerisinde kullanılmıştır?

- A. Islak çamaşırları toplamadım.
- B. Çorba sıcak olduğu için dili yandı.
- C. Yalan yanlış ifadeler kullanmamalısın.
- D. Yaşlı adamın genç torunu markete geldi.



Bu test 10 sorudan oluşmaktadır.

1."otuz bin dört yüz kırk"

Sayısının yazılışı aşağıdakilerden hangisidir?

- A. 300044
- B. 30440
- C. 300440
- D. 3440

2.



Türkan Hanım'ın banka hesabında 1750 lira bulunmaktadır. Türkan Hanım, her ay 1000 lira olmak üzere 7 ay düzenli olarak hesabına para yatıracaktır.

Buna göre 7 ay sonunda Türkan Hanım'ın kaç lirası olur?

- A. 6750
- B. 7650
- C. 8750
- D. 7850

3.

$$7-9-3-2$$

Yukarıdaki sayılarla yazabileceğimiz en büyük dört basamaklı sayının 500 eksiği kaçtır?

- A. 9232
- B. 9732
- C. 9123
- D. 8232



I



II



III



IV

4. Kaç numaralı görsel düzleme örnektir?

- A. I
- B. II
- C. III
- D. IV



Konya'dan Ankara'ya giden bir yolcu treni, gardan 552 yolcu ile hareket etti. Trene birinci istasyonda yolcuların yarısı indi ve 120 yolcu daha bindi.

5. Buna göre trende kaç yolcu vardır?

- A. 276
- B. 396
- C. 432
- D. 370

6. Bir şarküteri 23 kilogramlık peynir tenekelerinden 14 teneke satmıştır.

Peynirin kilogramını 15 liradan sattığına göre kaç lira kazanmıştır?

- A. 3588
- B. 4796
- C. 4830
- D. 3875

7. Bir terzi , 8 m 5 cm kumaşın 4 m 85 cm'si ile elbise dikmiştir. Geriye kaç cm kumaş kalmıştır?

- A. 285
- B. 320
- C. 365
- D. 420

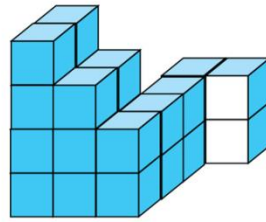
8. 250 kişilik tiyatro salonunda koltukların $\frac{7}{10}$ kadarı dolmuştur. Boş kalan koltuk sayısı kaçtır?

- A. 175
- B. 125
- C. 75
- D. 25

9. Doktor Gizem Hanım, 25 Nisan 2020'de muayene ettiği hastasına 10 gün sonrasına kontrol için randevu vermiştir.

Buna göre hasta hangi tarihte kontrole gitmelidir?

- A. 5 Mayıs 2020
- B. 6 Mayıs 2020
- C. 7 Mayıs 2020
- D. 8 Mayıs 2020



10. Yukarıdaki yapıda kaç adet küp vardır?

- A. 16
- B. 20
- C. 24
- D. 28



İnsanlar ilk önce sesin teller yoluyla iletimini sağlayan aracı icat etti

Sonraki yıllarda sesi kaydeden ve tekrar dinlenilmesini sağlayan aracı icat etti

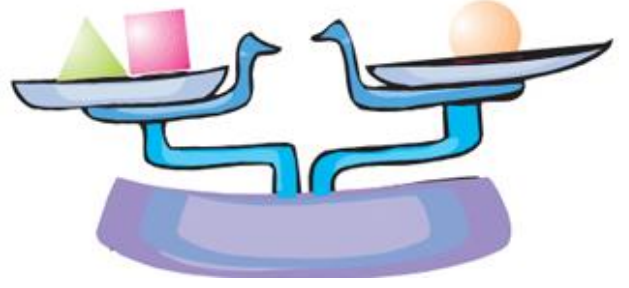
1- Yukarıda özellikleri belirtilen iki araç aşağıdakilerden hangisidir?

- A. telefon fonograf
- B. kaset çalar televizyon
- C. kamera bilgisayar
- D. radyo gramofon

Bazı deniz hayvanlarının yavrulama alışkanlıkları ışık kirliliği yüzünden tehlikededir.

2- Buna göre aşağıdaki deniz hayvanlarından hangisi diğerlerine göre ışık kirliliğinden daha fazla etkilenir?

- A. Deniz anaları
- B. Balinalar
- C. Deniz kaplumbağaları
- D. Deniz atı



● =30 gr ■ =15 gr ▲ =20

3- Yukarıdaki terazinin dengede olabilmesi için

- I-Sağdaki kefeye 10 gr konulmalıdır.
- II- Soldaki kefedeki ■ çıkartıp 10 gr koyarız.
- III-Sağdaki kefeye ▲ ekleyip , 15 gr eksiltiriz.

verilenlerden hangisi veya hangileri yapılırsa denge sağlanmış olur?

- A. Yalnız I
- B. II - III
- C. Yalnız II
- D. I - II - III

4- Maddelerin sıcaklığını aşağıdakilerden hangisi ile ölçeriz?

- A. Milimetre
- B. Santimetre
- C. Termometre
- D. Barometre

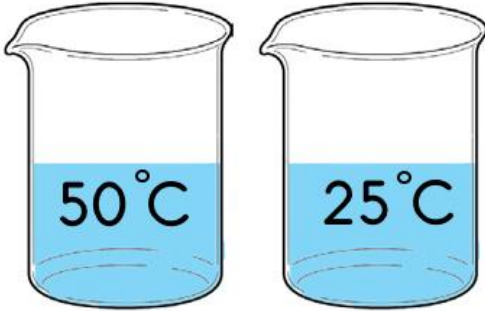




Kırmızı mercimek + su

5- Yukarıdaki karışımı ayırmak için hangi öğrencinin kullanacağı teknik doğru olur?

- A.  süzme
- B.  yüzdürme
- C.  buharlaştırma
- D.  mıknatısla ayırma

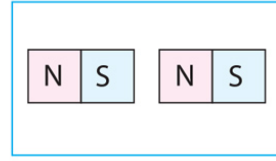


1.Madde

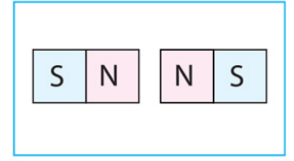
2.Madde

6- Yukarıdaki iki madde karıştırıldığında hangisi gerçekleşmez?

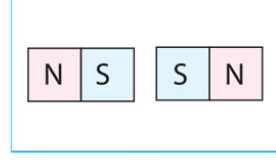
- A. 1. Madde ısı kaybeder.
- B. 2. madde ısı alır.
- C. Maddelerin sıcaklıkları değişmez.
- D. Maddelerin sıcaklıkları değişir.



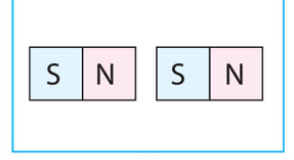
I



II




III



IV

7- Yukarıda verilen durumların hangilerinde mıknatıslar itme kuvveti uygularlar?

- A. I-II
- B. II-III
- C. III-IV
- D. II-IV



8- Yukarıdakilerden hangisi besin içeriği bakımından diğerlerinden farklıdır?

- A. I
- B. II
- C. III
- D. IV



Oyun parkında zıplayan çocuklardan

Atakan → 75 cm

Gizem → 85 cm

Batuhan → 95 cm zıplayabilmişlerdir.

9- Buna göre tramboline uygulanan kuvvetin küçükten büyüğe doğru sıralanışı nasıl olmalıdır?

- A. Gizem > Atakan > Batuhan
- B. Batuhan > Atakan > Gizem
- C. Atakan > Batuhan > Gizem
- D. Batuhan > Gizem > Atakan



10- Güneşle ilgili verilen bilgilerden hangisi yanlıştır?

- A. Güneş dünyamıza en uzak yıldızdır.
- B. Güneş kendi etrafında döner.
- C. Güneş Dünya'ya ışık verir.
- D. Güneş yanmakta olan gazlardan oluşan bir ateş topudur.



Bu test 10 sorudan oluşmaktadır.

1-Caner,'in markette yaptıklarının hangisi bilinçli bir tüketiciden beklenmeyen bir davranıştır?

- A. TSE damgasını kontrol etmesi.
- B. Kasada sıra beklemeden başka müşterilerin hakkını ihlal etmesi.
- C. Aldığı ürünlerin son tüketim tarihlerini kontrol etmesi.
- D. Ürünün bandrolünün olup olmadığını kontrol etmesi.

2- Çok zor ve önemli bir iş yaptığının farkındayız. Bizim sağlık ihtiyacımızı karşılamaktadırlar. Maske ve eldivenle saatlerce insan hayatını kurtarmak, ameliyatlara girmek hiç de kolay değildir.

Yukarıda sözü edilen mesleğin aşağıdakilerden hangisi olduğu söylenebilir?

- A. İtfaiyeci
- B. Manav
- C. Doktor
- D. Veteriner

3-Aşağıdaki atasözlerinden hangisi tasarrufun önemini vurgular?

- A. Güvenme varlığa, düşersin darlığa.
- B. Ağaç yaş iken eğilir.
- C. Güneş girmeyen eve doktor girer.
- D. Sağlıktan büyük zenginlik yoktur?

4-

- Yiyeceklerimizin çabuk bozulmamasını sağlar.
- Elektrik ile çalışır.

Aşağıdakilerden hangisi özellikleri verilen teknolojik araçtır?

- A. Ütü
- B. Fırın
- C. Televizyon
- D. Buzdolabı

5-



Görselde, Türk kültür öğelerinden hangisi verilmiştir?

- A. İbrik
- B. Bakır sahan
- C. Yayık
- D. Dibek



6- Aşağıdakilerden hangisi ülkemizdeki doğal güzelliklerden değildir?

- A. Pamukkale
- B. İnsuyu Mağarası
- C. Peri Bacaları
- D. Mevlana Türbesi

7- Cansu, yüzünü Güneş'in doğduğu tarafa dönüp kollarını açmıştır. Buna göre Cansu'nun sol kolu hangi yönü gösterir?

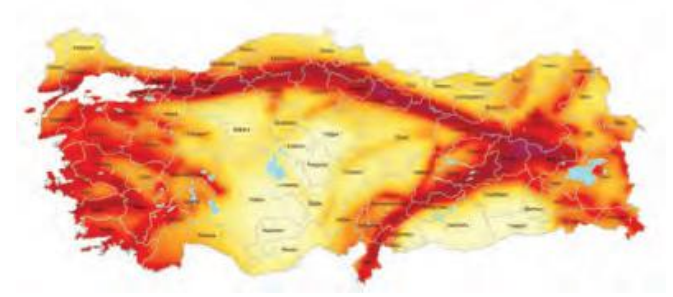
- A. Kuzey
- B. Güney
- C. Batı
- D. Doğu

8-Kurtuluş Savaşı, Mustafa Kemal'in önderliğinde kadını, erkeği, genci, yaşlısıyla kazanılmıştır bir zaferdir. Bu mücadele kadınlarımız önemli işler başarmışlardır.

Aşağıdakilerden hangisi Kurtuluş Savaşı'nda mücadele eden kadınlarımızdan değildir?

- A. Halime Çavuş
- B. Şerife Bacı
- C. Asker Saime
- D. Afife Jale

9- Aşağıda Türkiye deprem haritası verilmiştir.



Haritaya göre hangi illerin deprem riski daha azdır?

- A. İzmir
- B. Ankara
- C. İstanbul
- D. Manisa

10- Mevlana, hayatı boyunca başkalarının fikirlerine saygı duymuştur.

Bu ifade ile Mevlana'nın hangi özelliğine vurgu yapılmıştır?

- A. Sabırlı olması
- B. Ahlaklı olması
- C. Hoşgörülü olması
- D. Akıllı olması



Bu test 5 sorudan oluşmaktadır.



I lunch at 12 o'clock.

1-Boşluğa gelmesi gereken kelime nedir?

- A. wash
- B. have
- C. wake up
- D. see



She can.....

3- Boşluğa gelmesi gereken kelime nedir?

- A. do
- B. play
- C. read
- D. cook



Where is she from?

She is from.....

3- Boşluğa gelmesi gereken kelime nedir?

- A. Spain
- B. Russia
- C. Egypt
- D. Italy



My favourite hobby is.....

2- Boşluğa gelmesi gereken kelime nedir?

- A. playing chess
- B. learning Turkish
- C. reading book
- D. clouring books

$$6 \times 9 = ?$$

5-İşlemin sonucu kaçtır?

- A. Fifty four
- B. Five four
- C. Four fifty
- D. Fifty seven

Sevgili ÖĞRETMEN ve VELİLERİMİZ;
Deneme Sınavına Teşekkür Mahiyetinde
Sosyal Medya Sayfamızı Beğenirseniz
Çok Mutlu Oluruz.

Aşağıdaki Linklerden Bizlere Ulaşabilirsiniz.

www.ilkokulevim.com

www.instagram.com/ilkokulevim

www.facebook.com/ilkokulevim

www.facebook.com/groups/272489210266407/

t.me/ilkokulevim

CEVAP ANAHTARI

TÜRKÇE	MATEMATİK	FEN BİLİMLERİ	SOSYAL BİLGİLER	İNGİLİZCE
1-D	1-B	1-A	1-B	1-B
2-C	2-C	2-C	2-C	2-D
3-C	3-A	3-C	3-A	3-D
4-B	4-B	4-C	4-D	4-D
5-D	5-B	5-A	5-B	5-A
6-B	6-C	6-C	6-D	
7-C	7-B	7-B	7-A	
8-B	8-C	8-C	8-D	
9-A	9-B	9-D	9-B	
10-D	10-C	10-A	10-C	