

Sevgi, öyle bir hazinedir ki onu harcadıkça çoğaltırsınız. Siz çoğalttıkça o yüreğinizi doldurur. Unutmayalım ki küçük şeyleri sevmeyenler büyükleri de sevmezler. Kuşları, çiçekleri, bir kediyi sevmeyen insanların yakınlarını gerçekten sevebileceğini düşünmem. Böyle biri zamanla yaptığı işi, kendini de sevmeyecek, her şeyden nefret edecektir.



1 ve 2. soruları yukarıdaki paragrafa göre cevaplayınız.

1. Paragrafın konusu aşağıdakilerden hangisidir?

- A) Akrabalık ilişkileri
- B) Bitkilerin ve hayvanların faydaları
- C) Mesleklerin önemi
- D) Hayatımızda sevginin önemi

2. Yukarıdaki paragraftan aşağıdakilerden hangisi çıkarılamaz?

- A) Başkalarına iyi davranan bir kişinin çevresi tarafından sevileceği
- B) Hayvanları sevmeyen birinin yakınlarını da sevmeyeceği
- C) Sevginin paylaştıkça çoğalacağı
- D) İnsanın sevmeye küçük şeylerden başlaması gerektiği

Nehir, Miraç, Duygu, Melis, Kaan ve Batuhan iki gruba ayrılıp proje ödevi hazırlayacaklardır.

Projeye ait bilgiler şöyledir:

- Gruplarda eşit sayıda öğrenci olacaktır.
- Nehir ile Batuhan aynı grupta olacaktır.
- Melis ve Kaan farklı gruplarda bulunacaktır.

3. Verilenlere göre, aşağıdakilerden hangisi kesinlikle yanlıştır?

- A) Miraç ile Melis aynı grupta olabilir.
- B) Duygu ile Batuhan aynı grupta yer alır.
- C) Nehir ile Kaan aynı grupta yer alabilir.
- D) Miraç ile Duygu aynı grupta yer alır.

Maçta arkadaşım bana: " Bu penaltıyı yersek yandık." diye bağırdı.

4. Yukarıdaki cümlede altı çizili sözcük, hangi anlamda kullanılmıştır?
- A) Somut anlam  
B) Terim anlam  
C) Mecaz anlam  
D) Gerçek anlam



Ahmet ileri geri dolaşıp duruyordu.



Gece gündüz ders çalıştım.



Enes, sessiz ve sakin görünümünü devam ettiriyordu.



Merdivenin başından sonuna kadar koşu yarışı yaptık.

5. Yandaki öğrencilerin söyledikleri cümlelerden hangisinde, zıt anlamlı sözcükler birlikte kullanılmamıştır?

- A) Bilge  
B) Gökalp  
C) Deniz  
D) Serhat

6. "Oyuna gelmek" söz grubu aşağıdaki cümlelerin hangisinde, "aldatılmak" anlamında kullanılmıştır?

- A) Ahmet de bahçede oynadığımız oyuna geldi.  
B) Yine Neşe'nin oyununa geldim.  
C) Öğretmenim, akşam tiyatrodaki oyunumuza geldi.  
D) Bütün akrabalarım, yıl sonu sergilediğimiz oyuna geldiler.



Dünya'nın .....

7. Seda'nın cümlesi, aşağıdakilerden hangisi ile devam ettirilirse öznel yargılı bir ifade olur?

- A) en iyi öğretmeni, benim öğretmenimdir.
- B) en uzun nehri, Nil Nehri'dir.
- C) en kalabalık ülkesi, Çin'dir.
- D) en kalabalık şehri, Tokyo'dur.



Benim adım Zafer. ilkokul 4. sınıfta okuyorum. Boş zamanlarımda kitap okumaktan ve bilgisayarda oyun oynamaktan hoşlanırım. Derslerimde ben de çok başarılıyım. Özellikle matematik dersinde...



Benim adım Ece. ilkokul 4. sınıfta okuyorum. Boş zamanlarımda müzik dinlemekten ve kitap okumaktan hoşlanırım. Derslerimde çok başarılıyım. Özellikle de matematik dersinde...

8. Yukarıda iki öğrenci kendilerini kısaca tanıtmışlar. Verilenlere göre, iki öğrenciyi karşılaştırdığımızda aşağıdaki bilgilerden hangisi yanlıştır?

- A) Ece gibi Zafer de kitap okumaktan hoşlanmaktadır.
- B) Zafer; Ece'den farklı olarak boş zamanlarında bilgisayar oynamaktan hoşlanıyor.
- C) Ece gibi Zafer de dördüncü sınıfta okumaktadır.
- D) Ece, matematik dersinde; Zafer ise Türkçe dersinde çok başarılıdır.

Ormanlık bir bölgede bulunan bir su birikintisinde yaşamakta olan kurbağacık, hiç arkadaşı olmadığından yakınıyordu. Bu kurbağacık su birikintisinde yüzerek eğlenmeye çalışıyordu. Sudan çıkıp, çimenlerin üstünde zıplayarak geziniyordu. Ama yalnız olduğu için yaptığı hiçbir şeyden zevk almıyordu.

9. Bu parçada, aşağıdakilerden hangisi yoktur?

- A) Yer                      B) Olay                      C) Zaman                      D) Kahraman

1- karşı

2- davranışlarımızda

3- olmalıyız

4- arkadaşlarımıza

5- nazik

10. Yukarıdaki sözcüklerle anlamlı ve kurallı cümle yapmak istersek doğru sıralama nasıl olmalıdır?

- A) 4-1-5-2-3                      B) 5-3-4-1-2  
C) 2-4-1-3-5                      D) 4-1-2-5-3

11. Yukarıdaki paragrafta verilen cümlelerin hangisinde, bütün ünlü harfler bir arada kullanılmıştır?

- A) Okulumuzda bugün şenlik vardı.  
B) Öğrenciler bütün hazırlıklarını tamamlamıştı.  
C) İnsanlar okulun önünde toplanmaya başladı.  
D) Fakat beklenmedik bir şey oldu.

I. Bu çarşamba günü sinemaya gideceğiz.

II. Sınavdaki bazı soruları yanlış yaptım.

III. Annem bana bir sürpriz hazırlamış.

IV. 23 nisan 1920'de TBMM açılmıştır.

12. Yukarıdaki cümlelerin hangisinde yazım yanlışı vardır?

- A) IV                      B) III                      C) II                      D) I



Yandaki kasanın şifresi on binler basamağında 5 ve yüzler basamağında 8 rakamı bulunan, altı basamaklı ve rakamları farklı en büyük çift doğal sayıdır.

I. Buna göre, kasanın şifresi aşağıdaki doğal sayılardan hangisidir?

A) 957 864

C) 959 989

B) 975 684

D) 959 892

$$4A 835 < 46 835$$

2. Yukarıdaki karşılaştırmada A yerine yazılabilecek rakamların toplamı kaçtır?

A) 13

B) 14

C) 15

D) 16

Üç toplananlı bir toplama işleminde toplananlarla ilgili şu bilgiler bilinmektedir:

I. Birinci toplanan rakamları farklı dört basamaklı en büyük tek sayı,

II. İkinci toplanan en yakın yüzlüğü 2300 olan en büyük sayı,

III. Üçüncü toplanan rakamları farklı en küçük dört basamaklı çift sayı

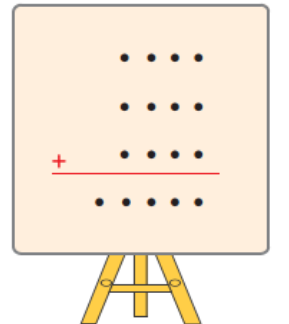
3. Verilenlere göre, toplam aşağıdakilerden hangisidir?

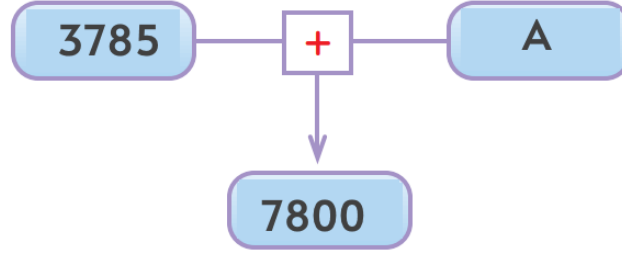
A) 12 228

B) 13 248

C) 13 308

D) 13 338





4. Yukarıdaki işlemde "A" yerine hangi seçenekte verilen sayı yazılmalıdır?

- A) 5915                      B) 5015                      C) 4915                      D) 4015

Bir çıkarma işleminde fark 27'dir. Bu çıkarma işleminde eksilen sayı 8 artırılıp çıkan sayı 5 azaltılıyor.

5. Yeni fark için aşağıdakilerden hangisi doğru olur?


- A) 13 artar.                      B) 13 azalır.                      C) 3 artar.                      D) 8 azalır.

14	13	▲
3	11	19
●	9	8

Yanda verilen tablodaki sayılar soldan sağa, yukarıdan - aşağıya ve köşeden köşeye toplandığında toplamaları eşittir.

6. Buna göre, ● - ▲ işleminin sonucu kaçtır?

- A) 10                      B) 8                      C) 6                      D) 4



7. Yandaki tahtada verilen çarpma işleminde çarpımın en büyük değeri için A ve B ile belirtilen yerlere hangi rakamlar yazılmalıdır?

- A) A = 5                      B) A = 4                      C) A = 6                      D) A = 4  
B = 3                      B = 7                      B = 3                      B = 2

Özel bir şirkette bilgisayar mühendisi olarak çalışan Hatice Hanım bilgisayarında bulunan 9 254 adet dosyanın 5 348'ini virüs sebebiyle kaybetmiştir. Daha sonra özel bir program sayesinde kaybettiği dosyaların bir kısmını geri yüklenmiştir.



8. Geri yüklediği dosyalarla beraber bilgisayarında 7 200 adet dosyası olan Hatice Hanım'ın geri yüklediği dosya sayısı kaçtır?

A) 2 294

B) 3 194

C) 3 284

D) 3 294



Çarpma işleminde çarpanların yeri değişse de çarpım değişmez.



Bir doğal sayıyı 1 ile çarptığımızda çarpım 1'e eşit olur.



Bir sayının 0 (sıfır) ile çarpımından elde edilen çarpım 0 (sıfır)'dır.




Bir sayıyı 1 000 ile kısa yoldan çarparken sayının sağına 3 sıfır yazılır.

Bazı öğrencilerin çarpma işlemi ile ilgili olarak ifadeleri yukarıdaki gibidir.

9. Buna göre, hangi öğrencinin ifadesi yanlıştır?







Bir köprüye aynı anda girerek, birbirine doğru hareket etmekte olan iki araçtan biri, 1 373 m yol aldığı anda, diğer araçla karşılaşmalarına 1250 m yol kalmıştır.

10. Köprü'nün uzunluğu 3 850 m olduğuna göre, diğer araç kaç metre yol almıştır?

A) 1 227

B) 1 230

C) 2 243

D) 2 260



Yukarıda A şehrinden ve B şehrinden aynı anda birbirine doğru hareket eden iki araç verilmiştir. Araçların bir saatte aldıkları yol üstlerine yazılmıştır.

11. Bu iki şehir arası 800 km olduğuna göre, bu araçların hareketinden 4 saat sonra aralarındaki mesafe kaç km olur?

A) 120

B) 240

C) 280

D) 320

Bir çiftlikte 175 kuzu, kuzulardan 225 fazla koyun ve koyunlardan 100 fazla da inek vardır.

12. Buna göre, çiftlikte toplam kaç hayvan vardır?

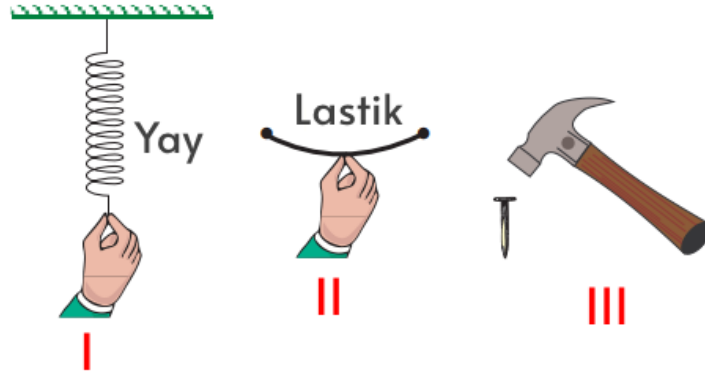
A) 825

B) 975

C) 1025

D) 1075






1. Yukarıdakilerden hangilerinde veya hangisinde esneme söz konusudur?

- A) I ve II      B) Yalnız III      C) Yalnız I      D) I ve III

2. Aşağıda verilenlerden hangisi kendiliğinden hareket edemez?




3. Yanda verilen beslenme piramidinde 1,2,3 numaralı yerlere sırası ile aşağıdaki besinlerden hangileri yazılmalıdır?

- A) Et – Meyve – Süt  
B) Tahıl – Meyve – Süt  
C) Tahıl – Et – Yağ  
D) Yağ – Meyve – Et







4. Aşağıda verilen besin çiftlerinden hangilerinin enerji verici özelliği diğerlerinden fazladır?



Mısır	Süt	Peynir
Et	Buğday	Patates

Miraç, yukarıda verilen karton üzerinde karbonhidrat içeren besinleri boyuyor.

5. Buna göre, boyamadan sonra tablonun görünümü nasıl olur?



- ( ) Hareket halindeki cisimlere, hareket yönüne zıt bir kuvvet uygulanırsa cisimler hızlanır.
- ( ) Bisikletin gidonuna istediğimiz yönde bir kuvvet uygulayarak bisikletin yönünü değiştirebiliriz.
- ( ) Oyun hamuruna kuvvet uyguladığımızda hamura istediğimiz şekli verebiliriz.
- ( ) Esnek cisimlere kuvvet uygulandığında şekil değiştirir. Bu cisimlere uygulanan kuvvet ortadan kaldırıldığında ise eski haline dönmeyebilir.

6. Yukarıdaki ifadelerden doğru olanlara (D), yanlış olanlara (Y) yazılırsa “doğru-yanlış” sıralaması nasıl olur?

- A) Y-D-D-Y    B) D-Y-D-Y    C) D-D-Y-Y    D) Y-Y-D-D

- Cipslerde, ketçaplarda, boyalı şekerlerde katkı maddesi bulunur.
- Satın aldığımız maddelerin son kullanma tarihine dikkat etmeliyiz.
- Teknolojinin gelişmesi tükettiğimiz besin çeşitliliğini de arttırmıştır.
- Tüketeceğimiz meyve ve sebzeleri iyice yıkamalıyız.


7. Besinlerle ilgili yukarıda verilen ifadelerden kaç tanesi doğrudur?

- A) 1    B) 2    C) 3    D) 4




Vitamince zengin besinler tüketmeliymişim.

8. Doktorunun tavsiyesine uymak isteyen Selin, aşağıda verilen besinlerden hangisini tüketmelidir?



9. Fosiller ile ilgili aşağıdaki ifadelerden hangisi yanlıştır?

- A) Sadece kayalar içine bulunurlar.  
B) Geçmiş dönemler hakkında bilgi verebilirler.  
C) Bitki ve hayvan kalıntılarından oluşurlar.  
D) Parçası olduğu canlı hakkında bilgi verirler.



10. Yukarıda bahçede bulunan çocuğun gölgesinin büyüklüğünün en fazla ve en az olduğu noktalar hangileridir?

- |    | <u>En fazla</u> | <u>En az</u> |
|----|-----------------|--------------|
| A) | I               | IV           |
| B) | II              | IV           |
| C) | I               | III          |
| D) | II              | III          |

1. Değişim hayatın her alanında devam etmektedir. Aşağıdaki eşleştirmelerden hangisi yanlış verilmiştir?



2. Aşağıdakilerden hangisi millî kültürümüzü yansıtan geleneklerimizden biri değildir?

- A) Askere uğurlama törenlerinin yapılması
- B) Düğün öncesinde geline ve damada kına yakılması
- C) Bayramlarda büyüklerin ellerinin öpülmesi
- D) Doğum günü kutlamalarının yapılması

3. Aşağıda verilen çocuk oyunları ile ilgili bilgilerden hangisi yanlıştır?

- A) Çocuk oyunları zamanla değişiklik gösterebilir.
- B) Çocuk oyunları evrenseldir. Her yerde aynı şekilde oynanır.
- C) Çocukların oyun tercihleri teknolojinin gelişmesi ile birlikte değişime uğramıştır.
- D) Çocuğun oyun oynama süresi küçükken fazla iken büyüdükçe bu süre azalır.

4. Mustafa Kemal Atatürk, tarihimizin ve milli kültürümüzün araştırılması ve geliştirilmesi amacıyla 12 Nisan 1931 tarihinde hangi kurumun kurulmasında öncülük yapmıştır?

- A) Türk Tarih Kurumu
- B) Türk Hava Kurumu
- C) Kültür Bakanlığı
- D) Türk Dil Kurumu

- I. Sivas Kongresi
- II. Sakarya Savaşı
- III. Amasya Genelgesi
- IV. Ankara'nın başkent oluşu

5. Yukarıda verilenlerden kaç tanesi TBMM'nin açılmasından önce gerçekleşmiştir?

- A) 1                      B) 2                      C) 3                      D) 4



Sosyal bilgiler öğretmenimiz sözlü tarih çalışması ödevi verdi. Ben de ailemizin tarihini öğrenmek amacıyla çalışmalarına başladım.

**Kayra**

6. Buna göre, Kayra aile tarihini araştırırken aşağıdaki kaynaklardan hangisinden faydalanamaz?

- A) Eski aile fotoğraflarından  
B) Ailesinin nüfus kayıtlarından  
C) Kütüphanelerdeki sözlüklerden  
D) Dedesinden kalan eşyalardan

7. Aşağıdakilerden hangisini Kurtuluş Savaşı'nın yapılmasının sebepleri arasında sayamayız?

- A) Ülkemiz topraklarının işgal edilmeye başlanması.  
B) Ülkemiz topraklarını genişletme isteğimiz.  
C) Bağımsızlığımızın tehlikeye düşmesi.  
D) Bağımsız yaşama isteğimiz.

8. Aşağıdaki etkinliklerin hangisinde bireysel yeteneğin bulunması diğerleri kadar gerekli değildir?



Belirli nesne, olay veya bireylerin insanın iç dünyasında uyandırdığı izlenime **duygu** denir.

9. Buna göre, aşağıdakilerden hangisi bir duygu ifadesi olamaz?

- A) Amcamların gelmesine çok sevindim.
- B) Arkadaşlarımdan ayrılmak beni çok üzdü.
- C) Trafik kazalarının temel nedeni insan hatalarıdır.
- D) Sınav sonuçları okunurken çok heyecanlanıyorum.

Kış mevsiminde dışarıda kalan hayvanların aç kaldığını düşünerek üzülürüz. Onların karınlarını doyurmaları için doğaya farklı yerlere yiyecek bırakarak karınlarını doyurmalarını sağlarız.

10. Yukarıdaki durum, aşağıdakilerden hangisini göstermektedir?

- A) İnsanların olaylara karşı hep aynı duyguları hissettiklerini
- B) Bütün insanların aynı yeteneklere sahip olduğunu
- C) Her duygu ve düşüncelerin olumlu davranışlara dönüştüğünü
- D) Duygu ve düşüncelerin davranışlarımızı etkilediğini



1. Is he strong ?

- A) No, he is not.
- B) He is weak.
- C) Yes, he is.
- D) No, it is not.



2. "?" yerine gelmesi gereken sayının yazılışı hangi seçenekte verilmiştir?

- A) fifty
- B) forty-two
- C) forty
- D) thirty-five



Arda is from.....

He is .....

3. Cümlelerdeki boşluklara sırayla gelmesi gereken kelimeler hangi seçenekte doğru verilmiştir?

- A) Turkey / Turkish
- B) Russia / Russian
- C) Spain / Spanish
- D) the USA / American

Hello! My name ..... Beren. I'm 10 years old. I'm .....Turkey. I'm Turkish. I live .....Tokat. Raul is my friend. He is 11 years ..... She's from Spain. She's Spanish. She lives in Madrid.

4. Yukarıdaki paragrafta boş bırakılan noktalı yerlere sırayla gelmesi gereken kelimeler hangi seçenekte verilmiştir?

- A) is, old, from, age
- B) is, from, in, old
- C) are, nationality, in, age
- D) is, from, age, nationality





5. Yukarıdaki görseli anlatan ifade aşağıdakilerden hangisidir?

- A) Sit down.
- B) Open the book.
- C) Be quiet.
- D) Came here.



6. Yukarıdaki görseli anlatan ifade aşağıdakilerden hangisidir?

- A) play tennis
- B) play chess
- C) sing a song
- D) drive car