

4.SINIF

TARAMA

**Bu tarama etkinliđi hazırlanırken
11 Eylül-22 Aralık tarihleri arasındaki
kazanımlar baz alınarak hazırlanmıřtır.**

www.ilkokulevim.com



ADI:.....

SOYADI:.....



TÜRKÇE TESTİ

Yapılan hiçbir iş güzel ya da çirkin değildir. Şiir yazmak, bir hikâyeyi okumak, gezmek, şarkı söylemek... Bu yapılanların hiçbiri kendiliğinden güzel olamaz. Yapılanların güzel ya da çirkin olarak değerlendirilmesi sonuca göre belirlenmez. Güzellik ya da çirkinlik işin yapılışındadır. İşler doğru dürüst yapılırsa güzel olur; yoksa çirkindir.

1- Bu parçanın ana fikri aşağıdakilerden hangisidir?

- A) İnsanları rahatsız edecek kadar yüksek sesle şarkı söylemek çirkin bir davranıştır.
- B) Doğru malzemeyi kullanan kişiler ortaya güzel bir ürün çıkarır.
- C) Ne yapacağını bilmeyen birinden güzel bir iş yapması beklenmez.
- D) Bir işin güzel ya da çirkin olması yapılma anında harcanan emeğe göre belirlenir.

2- “Soğuk” sözcüğü hangi cümlede farklı bir anlamda kullanılmıştır?

- A) Bugün hava soğuk, dışarı çıkmayın.
- B) Niçin bana soğuk su vermedin?
- C) Dışarı çok soğuk, içerde oynayın.
- D) Aramız, bir anda soğudu.

3- Aşağıdaki cümlelerin hangisinde terim anlamı bir sözcük kullanılmıştır?

- A) Bu dünyada herkese iyilik yapmalıyız.
- B) Müzik dersinde notaları öğrendik.
- C) Okuldaki çalışmalara ben de katılacağım.
- D) Ümit ediyorum ki tatilimiz iyi geçer.

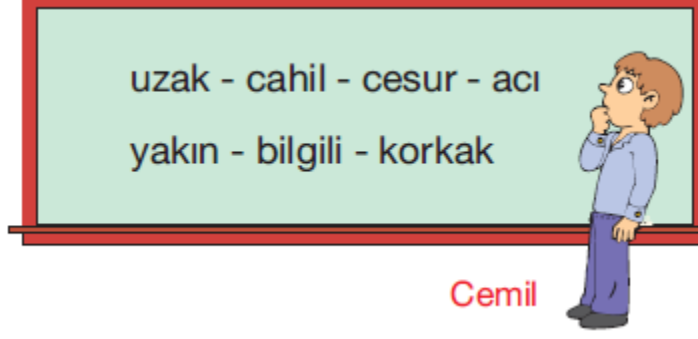
Esra, Nehir, Sevgi, Hande ve Zeynep okullarındaki voleybol takımında oynamaktadırlar. Maç sırasında 2, 3, 5, 8 ve 10 numaralı formaları giymektedirler.

- 5 ve 8 numaralı formaları Nehir ve Hande giymektedir.
- Hande'nin giydiği formanın numarası, Nehir'in giydiği forma numarasından büyüktür.
- Zeynep en büyük numaralı formayı giymektedir.

4- Yukarıda verilenlere göre, aşağıdakilerden hangisi yanlıştır?

- A) Zeynep 10 numaralı formayı giymektedir.
- B) Nehir 5 numaralı formayı giymektedir.
- C) Esra 2 numaralı formayı giyiyorsa, Sevgi 3 numaralı formayı giyebilir.
- D) Sevgi 8 numaralı formayı giymektedir.

TÜRKÇE TESTİ



Cemil

Cemil, tahtaya yazılı sözcükleri zıt anlamlılarıyla eşleştiriyor.

5- Buna göre, Cemil zıt anlamlısı verilmeyen sözcüğün karşısına hangi sözcüğü yazmalıdır?

- A) ekşi B) yakın C) tatlı D) bilgisiz



6- Yukarıda numaralandırılmış sözcüklerden hangisinin eş anlamlısı yanlış verilmiştir?

- A) I B) II C) III D) IV

İnsanlara en az faydası dokunan kişiler, en fazla kabuğuna çekilenlerdir.

7- Bu cümlede altı çizili sözün cümleye kattığı anlam aşağıdakilerden hangisinde vardır?

- A) Amcam, yüreğini yalnızca kendine çeviren bir adamdı.
B) Şoför, arabayı çok dikkatli kullanıyordu.
C) Topu patlatan çocuk, birden kaçmaya başladı.
D) Karşılaştığım zorluklar, beni hiçbir zaman yıldırmadı.

I. yaşayamaz II. yerde III. insan IV. çiçeklerin V. olmadığı

8- Yukarıdaki numaralanmış sözlerden kurallı ve anlamlı bir cümle oluşturmak için sıralama nasıl olmalıdır?

- A) II - I - III - V - IV
B) III - V - II - IV - I
C) IV - V - II - III - I
D) V - IV - II - I - III

TÜRKÇE TESTİ

9- “Dr () Ahmet Bey, Lala Apartmanı () nin 4 () katında 2 nolu dairede oturuyor ()” cümlesinde parantez içlerine sırasıyla hangi noktalama işaretleri konulmalıdır?

- A) (,) (') (!) (?) B) (,) (') (.) (!) C) (.) (') (?) (.) D) (.) (') (.) (.)

Örnekler:

- Kitaplar, hiç solmayacak bitkilerdir.
 - Bu yıl, 4. sınıfa gidiyorum.
 - Elif'le saat 12.30'da buluşacağız.
 - Dr. Ahmet Bey'den randevu aldım.
- Yukarıda noktanın kullanıldığı yerler ve örnekler verilmiştir.

10- Buna göre, seçeneklerin hangisinde yukarıdaki kullanımlara ait bir örnek yoktur?

- A) Tarihlerin yazımı
B) Sıra bildiren sayılar
C) Kısaltmalar
D) Saat ve dakikayı gösteren sayılar

- Kısaltmalardan sonra kullanılır.
- Sayılardan sonra sıra bildirmek için kullanılır.
- Tarihlerin yazımında gün, ay ve yılı ayırmak için kullanılır.
- Saat ve dakika gösteren sayıları birbirinden ayırmak için kullanılır.
- Bitmiş cümlelerin sonuna konur.

“İyilik, küçük de olsa unutulmaz. Belki maddi bir değer taşımayabilir, ama yine de iyiliği yapana bir gönül borcu duyarız. Yardım edenler, dostluk gösterenler her zaman anılır.”

11- Yukarıda açıklaması yapılan atasözü aşağıdakilerden hangisidir?

- A) Dost kara günde belli olur.
B) Düşenin dostu olmaz.
C) Dünya malı dünyada kalır.
D) Bir fincan kahvenin kırk yıl hatırı vardır.

Aşağıdaki seçeneklerde deyimler ve anlamları eşleştirilmiştir.

12- Bu eşleştirmelerden hangisi yanlıştır?

- A) Canı sıkılmak → Bir olaya üzülüp neşesi kaçmak.
B) Kulak misafiri olmak → Konuşanların sözünü kesmek.
C) Dil dökmek → Kandırmak, inandırmak ya da yararlanmak için tatlı sözler söylemek.
D) Küplere binmek → Çok fazla öfkelenmek, kızmak.

MATEMATİK TESTİ

1- 209 804 sayısı için aşağıdaki verilenlerden hangisi yanlıştır?

- A) 2 yüz binlik + 9 binlik + 8 yüzlük + 4 birlik şeklinde çözümlenir.
- B) Yüzler basamağındaki rakamın basamak değeri 800'dür.
- C) Binler bölüğü 209'dur.
- D) On binler basamağındaki rakamın basamak değeri 9 000'dir.



Bir öğretmen öğrencisinden tahtaya yazdığı doğal sayı ile ilgili bilgi istemiştir. Öğrencisi Serkan bu sayı ile ilgili aşağıdaki bilgileri vermiştir:

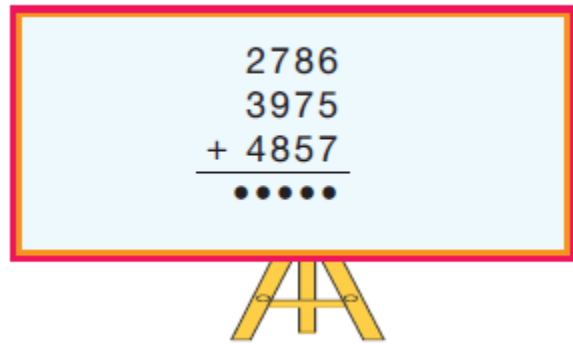
- I. Altı basamaklı doğal sayıdır.
- II. Tekrar eden rakamların basamak değerleri toplamı 2 020'dir.
- III. Binler bölümündeki rakamların sayı değerleri toplamı 12'dir.
- IV. Binler basamağındaki rakamın basamak değeri 4 000'dir.
- V. 8 rakamının basamak değeri, sayı değerinden fazladır.

2- Buna göre, Serkan'ın sayı ile ilgili verdiği bilgilerde hangileri yanlıştır?

- A) II ve V
- B) I ve III
- C) I ve IV
- D) I, III ve IV

3- Yandaki tahtada verilen toplama işleminde toplam aşağıdakilerden hangisidir?

- A) 11 872
- B) 11 718
- C) 11 618
- D) 11 432



MATEMATİK TESTİ



1. satır



2. satır



3. satır

.....

4. satır

.....

5. satır

.....

6. satır

4- Yukarıdaki örüntünün 6. satırında kaç küp vardır?

A) 17

B) 19

C) 21

D) 23

5- Yanda verilen çıkarma işlemine göre, $\triangle + \square + \star$ işleminin sonucu kaçtır?

A) 14

B) 15

C) 16

D) 17

$$\begin{array}{r} \triangle 64 \square \\ - 36 \star 4 \\ \hline 4968 \end{array}$$

Bir fabrikada 17 atölye vardır. Her atölyede 54 işçi çalışıyor. Bu işçilerin 436'sı bayandır.

6- Fabrikada kaç erkek işçi çalışmaktadır?

A) 624

B) 582

C) 482

D) 318

Bir okulda peribacalarını görmek amacıyla Nevşehir'e gezi düzenlenmiştir. Bu geziye; 4/A sınıfından 45, 4/B sınıfından 36, 4/C sınıfından 39 ve 4/D sınıfından 28 öğrenci katılmıştır. Gezi masraflarını karşılamak üzere her bir öğrenciden 50 TL alınmıştır.

7- Buna göre, gezi için toplanan para kaç TL'dir?

A) 7 400

B) 7 600

C) 7 400

D) 7 800

8- Yanda verilen işlemin sonucu hangi seçenekte verilen işlemin sonucuyla aynıdır?

A) 50

B) 100

C) 150

D) 200

$$(24 \times 25) : 6 = ?$$

FEN BİLİMLERİ TESTİ

- I. Şemsiye
- II. Tabak ve tencereler
- III. Pamuklu kumaş
- IV. Madeni para

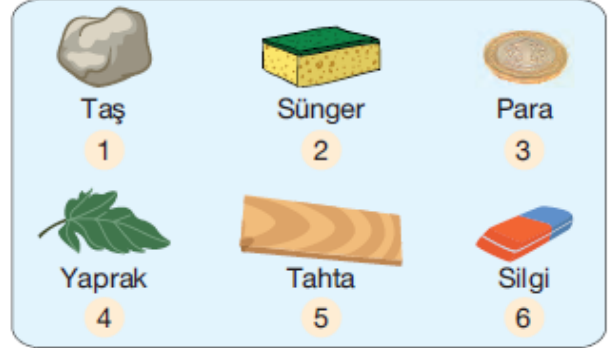
1- Yukarıda verilenlerden hangisi ya da hangileri suyu çekmez?

- A) Yalnız III B) I ve III C) I, II ve IV D) II, III ve IV

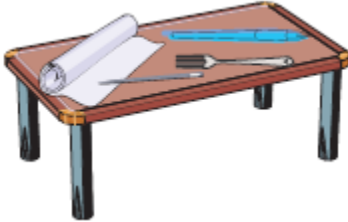
Yandaki maddeler, su dolu leğene atılıyor. Yapılan deneyde suda batan ve batmayan maddeler gözleniyor.

2- Yapılan deneye göre, aşağıdakilerden hangisi söylenebilir?

- A) 1, 2, 4 ve 6 nolu maddeler suda batar.
B) 2, 4 ve 5 nolu maddeler suda batmaz.
C) 1, 3 ve 4 nolu maddeler suda batar.
D) Sadece 2 ve 5 nolu maddeler suda batmaz.



3- Ali'nin elindeki mıknatıs, masanın üzerindeki hangi maddeyi çekmez?



- A) Demir kalem B) Nikel çatal C) Toplu iğne D) Kağıt

4- Aşağıdaki ifadelerden hangisinde kuvvetin şekil değiştirici etkisinden söz edilmiştir?

- A) Bize doğru gelen topa ayakla vurmak
B) Araba sürerken frene basmak
C) Oyun hamuruyla çeşitli hayvan figürleri yapmak
D) Hareketli bir cisme hareketi yönünde kuvvet uygulamak

FEN BİLİMLERİ TESTİ

5- Yandaki deneyi yapan Gülden,

- I. Cismin aşağı doğru inerken hızlandığı
- II. Yaya çarptığı anda yayın sıkıştığını
- III. Yaya çarptığında cismin hareketinin yavaşladığı

sonuçlarından hangilerine ulaşılabilir?

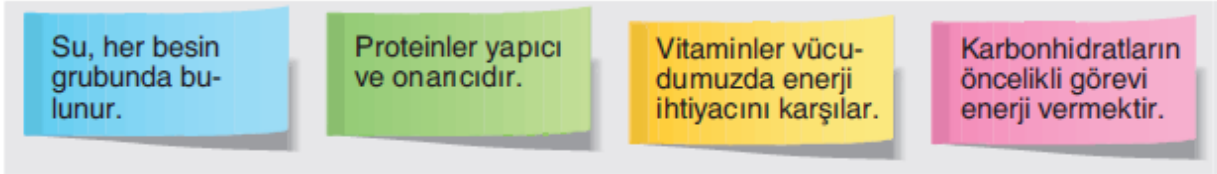
- A) I ve II B) I, II ve III C) II ve III D) I ve III



6- Bir insanın sağlıklı yaşam sürdürebilmesi için dikkat etmesi gerekenlerle ilgili aşağıdakilerden hangisi yanlıştır?

- A) Yeterli ve dengeli beslenmek
B) Sigara gibi zararlı maddelerden uzak durmak
C) Yemeklerden önce elleri yıkamamak
D) Düzenli spor yapmak

Damla, proje ödevi olarak besin grupları ile ilgili aşağıdaki kartlardan hazırlamıştır.



Damla hazırladığı kartların birinde hata yapmıştır.

7- Damla'nın hatasını düzeltmesi için hangi karttaki bilgiyi değiştirmesi gerekir?

- A) Mavi B) Yeşil C) Sarı D) Pembe

Elif, fen bilimleri dersinde "Besin satın alırken nelere dikkat etmeliyiz?" sorusunu;

1. Ambalajlı besinlerin ambalajı hasar görmemiş olmalıdır.
2. Paketlerinin üzerinde üretim ve son kullanma tarihleri yazılı olmalıdır.
3. Milli Eğitim Bakanlığı tarafından verilen onay numarası olmalıdır.
4. Ürünlerin üzerinde Türk Standartları Enstitüsü'nün damgası olmalıdır.

8- Buna göre, Elif'in verdiği cevaplardan hangisi ya da hangileri doğrudur?

- A) Yalnız 1 B) 1 ve 2 C) 2, 3 ve 4 D) 1, 2 ve 4

SOSYAL BİLGİLER TESTİ

Televizyonlar haber bültenlerinde hava olaylarını düzenli olarak vermektedirler. Bu bilgileri ise almaktadır.

1- Yukarıdaki boşlukları, aşağıdaki seçeneklerde verilenlerden hangisiyle tamamlamalıyız?

- A) Hava tahmini yapan kuruluşlardan
B) Kendi seçtikleri kuruluşlardan
C) Meteoroloji Genel Müdürlüğünden
D) Yabancı ülke televizyonlarından

Yandaki tabloda beş günlük hava olayları verilmiştir.

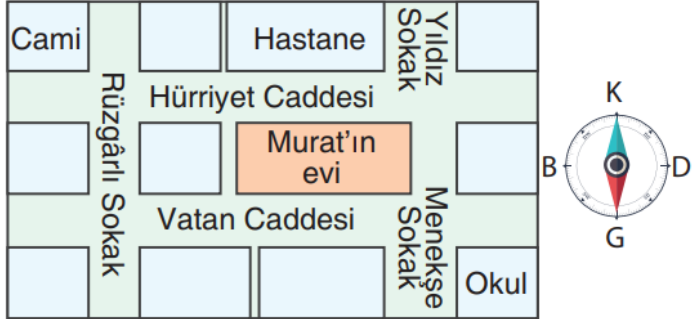
2- Buna göre, bu çevrede beş gün boyunca en çok hangi hava olayı gözlenmiştir?

- A) Parçalı bulutlu
B) Yağmurlu
C) Güneşli
D) Kar yağışlı

Günler	Sabah	Öğleden sonra	
Pazartesi			Güneşli
Salı			Yağmurlu
Çarşamba			Parçalı bulutlu
Perşembe			Kar yağışlı
Cuma			

3- Yandaki krokiye bakarak aşağıdakilerden hangisi söylenemez?

- A) Okul caminin kuzeydoğusundadır.
B) Murat'ın evi hastanenin güneyindedir.
C) Hürriyet Caddesi Vatan Caddesi'nin kuzeyindedir.
D) Vatan Caddesi ve Menekşe Sokağı'nın kesiştiği köşede okul vardır.



4- Teknolojinin gelişmesiyle hayatımıza giren yön bildirme cihazı olan ile bulunduğumuz yeri ve gideceğimiz yeri kolayca bulabiliriz.” ifadesindeki boşluğa aşağıdakilerden hangisi yazılmalıdır?

- A) stetoskop
B) sismograf
C) Kutup Yıldızı
D) navigasyon

FEN BİLİMLERİ TESTİ

5- Aşağıdaki savaşlardan hangisi Milli Mücadele Dönemi'nde Batı Cephesi'nde yapılan savaşlar arasında yer almaz?

- A) I. İnönü Savaşı
B) Sakarya Meydan Savaşı
C) II. Dünya Savaşı
D) Başkomutanlık Meydan Muharebesi

“Düşmanı yurttan kesin olarak atmak için Başkomutan Mustafa Kemal, 26 Ağustos 1922’de taarruz emrini verdi. 30 Ağustos’ta Yunan birliklerini Dumlupınar’da kuşattı. Bu savaşta Yunan ordusu ağır bir yenilgi aldı. Mustafa Kemal’in “Ordular! İlk hedefiniz Akdeniz’dir, ileri!” emriyle Türk ordusu 9 Eylül’de İzmir’e girdi. Bunun üzerine savaşı göze alamayan İtilaf Devletleri Türk hükümetine ateşkes teklifinde bulundu.”

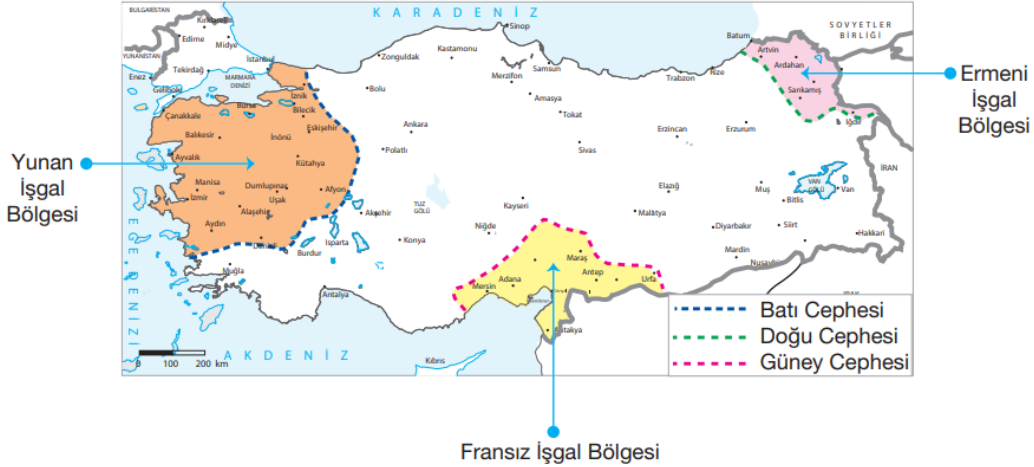
6- Yukarıdaki paragrafta hangi savaş ve sonuçları anlatılmıştır?

- A) I. Dünya Savaşı
B) I. İnönü Zaferi
C) Başkomutanlık Meydan Muharebesi
D) Sakarya Savaşı

- Türkiye’nin (ülkemizin) sınırları belirlenmiştir.
- Bağımsızlığımızı tüm dünya kabul etmiştir.

7- Yukarıda verilenler aşağıdakilerden hangisiyle kazanılmıştır?

- A) Mondros Ateşkes Antlaşması
B) Mudanya Ateşkes Antlaşması
C) Lozan Barış Antlaşması
D) Gümrü Anlaşması



8- Sadece yukarıda verilen haritadaki bilgilere göre aşağıdaki yorumlardan hangisi yapılabilir?

- A) Milli Mücadele’nin en uzun sürdüğü cephe Batı Cephesi’dir.
B) Mustafa Kemal Kurtuluş Savaşı’nı başarıyla yönetmiştir.
C) Batı Cephesi’nde Fransızlara karşı, Güney Cephesi’nde Yunanlılara karşı mücadele edilmiştir.
D) Doğu Cephesi’nde Ermenilere karşı mücadele edilmiştir.

CEVAP ANAHTARI ÇÖZÜMLÜ

www.instagram.com/ilkokulevim

SAYFASINDA PAYLAŞILACAKTIR.

TÜM SOSYAL MEDYA HESAPLARIMIZA

linktr.ee/ilkokulevim

BAĞLANTI ADRESİNDEN
ULAŞABİLİRSİNİZ.