



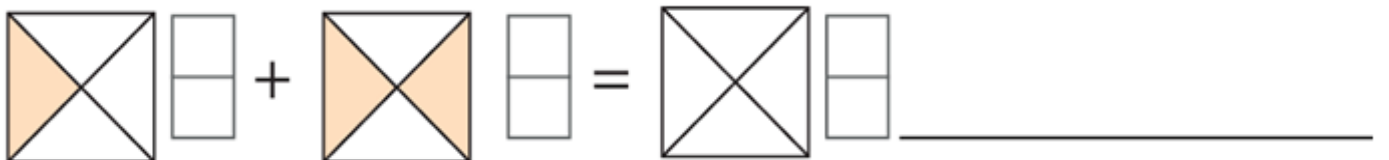
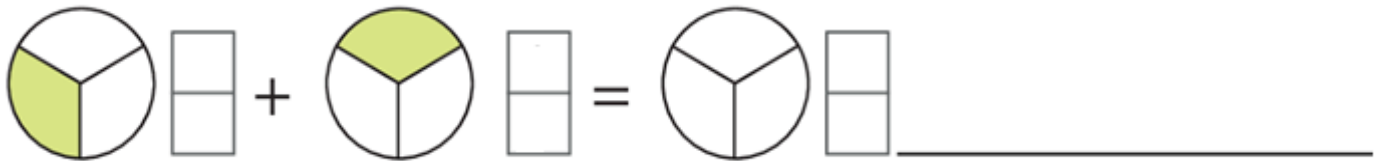
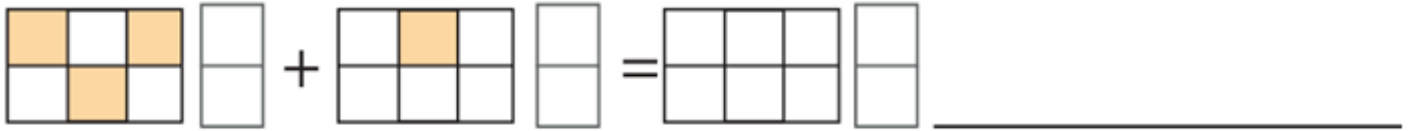
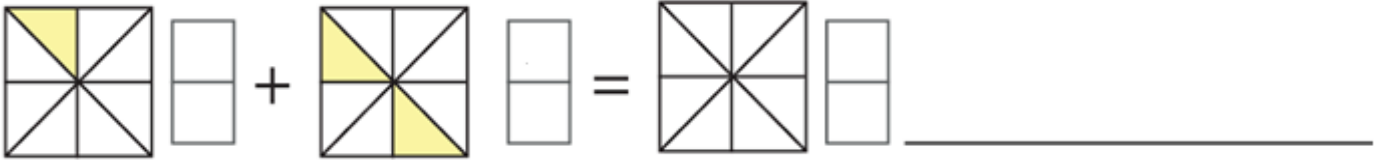
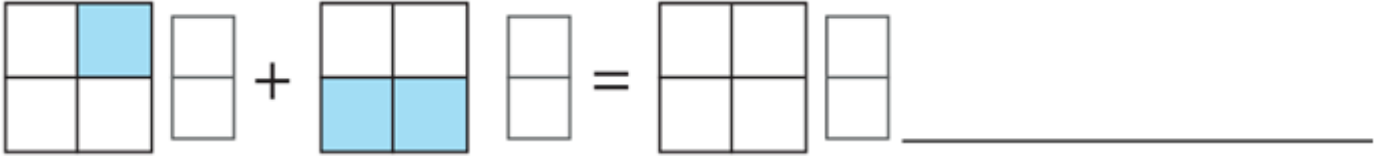
# 4.SINIF MATEMATİK ÇALIŞMA KAĞIDI

Adı : .....

Soyadı: .....

Numarası : .....

Aşağıdaki boyalı olarak verilen kesir değerlerini yan taraflarına yazalım.  
Toplama işlemini yapıp sonucu boyayalım.





## 4.SINIF MATEMATİK ÇALIŞMA KAĞIDI

Adı : .....  
Soyadı:.....  
Numarası : .....

Aşağıdaki boyalı olarak verilen kesir değerlerini yan taraflarına yazalım.  
Çıkarma işlemini yapıp sonucu boyayalım.

