


3.SINIF

KAZANIM DEĞERLENDİRME SINAVI-5



TÜRKÇE	10 SORU
MATEMATİK	10 SORU
HAYAT BİLGİSİ	10 SORU
FEN BİLİMLERİ	10 SORU
İNGİLİZCE	5 SORU

SINAV SÜRESİ
75 DAKİKA

TÜRKÇE TESTİ

(Bu testte; 10 Türkçe, 10 Matematik, 10 Fen Bilimleri, 10 Hayat Bilgisi, 5 İngilizce sorusu vardır. Süre 75 dakikadır.)

Öğrenciler, çocukluktan başlayıp genç oluncaya kadar geçen bir sürede okula giderler. Bu yaşlarda büyüklerinden bekledikleri en önemli şey, anlayıştır. Kendilerini anlayan ve anlayış gösteren insanları çok severler. Öğrencilerin yerine kendimizi koyarak karar vermeliyiz. Bu bizi başarılı bir iletişime ve başarıya götürür.

1. Yukarıdaki paragrafa göre, aşağıdakilerden hangisi söylenemez?

- A) Öğrencilerin davranışlarını kendi düşüncelerimize göre değerlendirmeliyiz.
- B) Öğrenciler, öğrencilik süresi içinde büyüklerinden anlayış beklerler.
- C) Öğrenciler, kendilerini anlayan ve anlayış gösteren insanları severler.

“Çelimsiz ama beceriklidir. Bir şeye karar verdi mi sonuna kadar direnir. Türlü oyunlara başvurur. Kötüleri, cambazları bu yolla dize getirir.”

2. Yukarıdaki paragrafta sözü edilen kişi aşağıdakilerden hangisi ile nitelendirilemez?

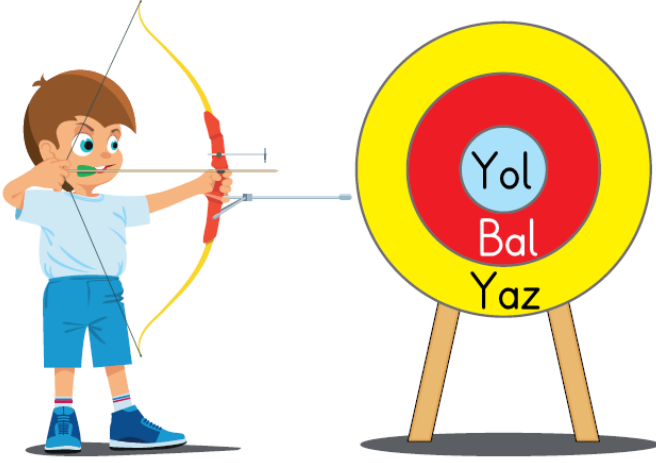
- A) Akıllı
- B) Alıngan
- C) Kararlı



3. Yukarıdaki öğrencilerden hangisinin yazdığı sözcük çifti anlam ilişkisi bakımından farklıdır?

- A) Yusuf
- B) Mücahit
- C) Hasan

TÜRKÇE TESTİ



Miraç, hedef tahtasında eş sesli olmayan kelimenin yazılı olduğu bölüme atış yapacaktır.

4. Buna göre, Miraç'ın atış yapması gereken bölüm hangi renge boyanmıştır?

- A) Sarı B) Kırmızı C) Mavi

Alfabemizdeki 29 harfin 8'i sesli harftir. Sesli harfler 4 tanesi kalın sesli ve 4 tanesi de ince seslidir.

5. Buna göre, hangi seçenekte verilen kelime grubunda kalın sesli harflerin tamamı vardır?

- A) Okul kapısı
B) Dere boyu
C) Kedi maması

1. üzülüyordu

2. yeni arkadaşlar

3. Özge




4. çok

5. bulamadığı için

6. Yukarıdaki sözcük ve söz gruplarıyla anlamlı ve kurallı bir cümle oluşturulursa sıralama nasıl olur?

- A) 4 - 3 - 5 - 2 - 1
B) 3 - 2 - 5 - 4 - 1
C) 3 - 1 - 4 - 5 - 2

7. Aşağıdaki öğrencilerden hangisinin cümlesinde "karşılaştırma" anlamı vardır?

- A)  Erzurum, İzmir'den daha soğuktur.
- B)  Aldığın kıyafetler sana çok yakışmış.
- C)  Bu havalarda bol bol meyve yemelisiniz.

8. Aşağıdaki cümlelerin hangisinde topluluk ismi kullanmıştır?

- A) Yaz tatilinde deniz kıyısında kamp kurduk.
- B) Ülkemizin üç tarafı denizlerle çevrilidir.
- C) Annem bir düzine bardak almış.

9. "Yaz gelince büyük kentlerin gürültülü ortamından uzaklaşmak isteyen insanlar bu kasabaya gelirdi." Cümlesinde altı çizili kelimelerden hangisi, bir varlığın özelliğini belirtmek için kullanılmamıştır?

- A) büyük B) gürültü C) insanlar

10. Aşağıdaki cümlelerin hangisinde yazım yanlışı vardır?

- A) Her yıl 9 Eylül'de İzmir'de tören vardır.
- B) Hürkan bey, Antalyadan ev almış.
- C) Uzun süredir Hasan'la görüşmüyoruz.

Türkçe Testi Bitti. Matematik Testine Geçiniz.

MATEMATİK TESTİ



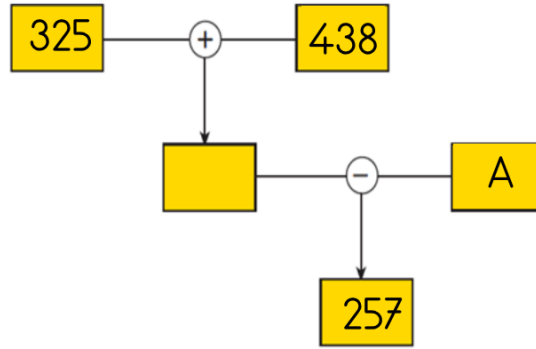
Yandaki bisikletin fiyatı en yakın olduğu onluğa yuvarlatılarak bisikletin üzerine yazılmıştır.

1. Buna göre, bu bisikletin fiyatı, aşağıdakilerden hangisi **olamaz**?

A) 379

B) 372

C) 368



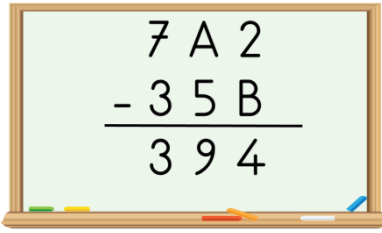
Yukarıdaki şema ile verilen işlemler oklar yönünde yapılarak 257 sayısı bulunuyor.

2. Buna göre, A ile belirtilen sayı kaçtır?

A) 506

B) 516

C) 526



3. Yandaki çıkarma işleminde A ve B yerine yazılabilecek rakamların çarpımı kaçtır?

A) 30

B) 35

C) 40

4. Aylık geliri 900 TL olan bir aile, bu paranın 360 TL'sini ev kirası olarak veriyor. Elektrik, doğalgaz, su ve telefon faturalarını ödemek için 238 TL ayırıyor. Kalan paralarını da mutfak ihtiyaçları için ayırıyorlar. Verilenlere göre, bu aile mutfak ihtiyaçları için kaç TL ayırmıştır?

A) 402

B) 302

C) 292

MATEMATİK TESTİ

BİLET SATIŞLARI	
Cumartesi	■ ■ ■ ■ ■ ■ ■ ■
Pazar	■ ■ ■ ■ ■
Çarşamba	■ ■ ■ ■ ■ ■ ■ ■
Cuma	■ ■ ■ ■ ■

Yanda bir sinemanın 13.00 seansına ait dört günlük bilet satışlarının grafiği verilmiştir.

■ = 20 bileti gösteriyor.

5. Grafiğe göre, aşağıdakilerden hangisi **söylenemez**?

- A) Cumartesi günü 160 adet bilet satılmıştır.
- B) Çarşamba günü satılan bilet sayısı, cuma günü satılan bilet sayısından 40 fazladır.
- C) Pazar günü satılan bilet sayısı, cuma günü satılan bilet sayısından fazladır.

$$\begin{array}{r} 108 \\ \times \quad 4 \\ \hline \dots \end{array}$$

Bir öğrenci yandaki işlemi hesap makinesinde yaparken 1. çarpanı yazmış, işlem işaretine basmış ancak 2. çarpanı yazarken yanlışlıkla 6 tuşuna basmıştır.

6. Buna göre, öğrencinin bulduğu sonuç gerçek sonuçtan kaç fazladır?

- A) 54
- B) 108
- C) 216

$$\begin{array}{r} 97 \overline{) 5} \\ \cdot \\ \hline \cdot 7 \\ \cdot \\ \hline \cdot \cdot \\ \cdot B \end{array}$$

Yandaki bölme işleminde bölüm A'ya kalan da B'ye eşittir.

7. Buna göre, A + B kaçtır?

- A) 19
- B) 21
- C) 23

MATEMATİK TESTİ

Yiğit'in 4 düzine, Duygu'nun 6 deste, Zeynep'in 27 tane kalem vardır. Bu üç arkadaş kalemlerini birleştirerek eşit olarak paylaşıyorlar.

8. Her birine kaç kalem düşer?

A) 41

B) 43

C) 45



Yukarıdaki şekil, bir sınıfta bulunan 72 adet tahta kaleminin hangi renkte olduğunu göstermektedir.

9. Buna göre, aşağıdaki ifadelerden hangisi yanlıştır?

A) Mavi kalemlerin sayısı, kırmızı kalemlerin sayısının 3 katına eşittir.

B) Kırmızı kalemlerin sayısı, 12'dir.

C) Siyah kalemlerin sayısı, mavi kalemlerden fazladır.

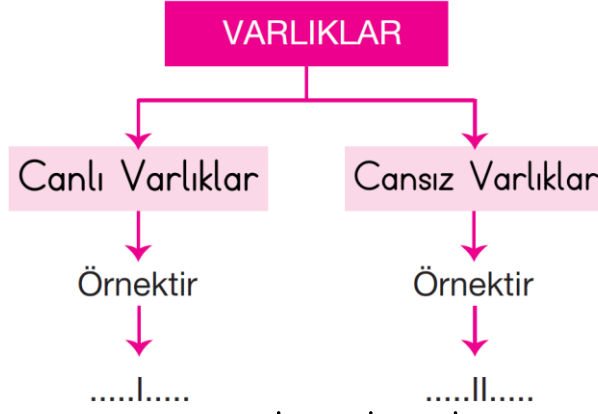
Her sabah düzenli olarak yürüyüş yapan Merve Hanım, sabah saat 08.30'da evden çıkıyor. 15 dk. yürüyüşten sonra parka gidiyor. 90 dk. parkın çevresinde yürüyor ve 15 dk. yürüyüş sonunda evine varıyor.

10. Buna göre, Merve Hanım'ın eve dönüş saati, hangi seçenekte doğru verilmiştir?



Matematik Testi Bitti. Fen Bilimleri Testine Geçiniz.

FEN BİLİMLERİ TESTİ



1. Yukarıdaki şemaya göre, numaralı yerlere hangi seçenekte verilenler yazılmalıdır?

- | | | |
|----|---------|--------|
| | | |
| A) | Kuş | Toprak |
| B) | Su | Aslan |
| C) | Kelebek | Tavşan |

Elif, bir etkinlik yapmak için salondaki televizyonun sesini açıyor. Salonun farklı köşelerine giderek sesi dinliyor.

2. Elif yaptığı bu etkinlikte aşağıdaki sorulardan hangisine cevap arıyor olabilir?


- A) Sesin duyulması şiddetine göre değişir mi?
B) Sesin yayılması ortama göre değişir mi?
C) Ses, salondaki her noktaya aynı şiddetle ulaşır mı?



3. Yukarıda verilen ses kaynaklarından hangileri doğal ses kaynağıdır?

- A) 1, 2 ve 3
B) 1, 3 ve 6
C) 4, 5 ve 6

FEN BİLİMLERİ TESTİ



Varlıkları görebilmemiz için ışık kaynağından çıkan ışık ışınlarının varlıklara çarparak gözümüze gelmesi gerekir.

4. Yukarıdaki tanıma uygun şekil, kaç numaralı şekildir?

- A) 1
- B) 2
- C) 3

5. Aşağıdaki ifadelerden hangisi **yanlıştır**?

- A) Ampul ve mum yapay ışık kaynağıdır.
- B) Yıldızlar ve ateş böceği doğal ışık kaynağıdır.
- C) Ay ve meşale yapay ışık kaynağıdır.



Salih: Koşucunun birinci olmak için yaptığı hareket hızlanma hareketidir



Kaan: Kalecinin kaleye giren topa dokunması yön değiştirme hareketidir.



Sevde: Duvar saatindeki yelkovanın yaptığı hareket sallanma hareketidir.

6. Yukarıdakilerden hangisi, varlıkların hareket özelliklerini **yanlış** açıklamıştır?

- A) Sevde
- B) Salih
- C) Kaan

- Belli bir şekli vardır.
- Genellikle konuldukları kabın şeklini almazlar.
- Akışkan değildirler.

7. Yukarıdaki özellikler hangi maddelere aittir?

- A) Gaz
- B) Sıvı
- C) Katı

FEN BİLİMLERİ TESTİ

- I. Halı ve bulaşık sünger pürüzsüz maddelerdir.
- II. Kış mevsiminde arabaların kaymaması için kışlık lastikler takılmalıdır.
- III. Ne olduğunu bilmediğimiz maddelerin tadına bakmak sağlığımıza zarar verebilir.

8. Yukarıdaki ifadelerden hangisi **yanlıştır**?

- A) I B) II C) III

	Pürüzlü	Pürüzsüz	Sert	Yumuşak
Fayans		✓	✓	
Havlu	✓			✓
Cam şişe	✓		✓	

9. Yukarıdaki cisimlerden hangisine ait bir özellik tabloda **yanlış** olarak işaretlenmiştir?

- A) Cam şişe B) Fayans C) Havlu



Yanda Dünya'mızın modeli olan yer küre verilmiştir.

10. Buna göre, aşağıdaki yorumlardan hangisi doğrudur?

- A) Dünya yüzeyindeki karalar, sulardan daha fazla yer kaplar.
B) Dünya yüzeyindeki karalar ve sular eşit yer kaplar.
C) Dünya yüzeyindeki sular, karalardan daha fazla yer kaplar.

Fen Bilimleri Testi Bitti. Hayat Bilgisi Testine Geçiniz.

1. Günlük plan yapan bir kişi;

- I. Zamandan tasarruf eder.
- II. Günlük işlerini kolaylaştırır.
- III. Başarısı artar.

verilenlerden hangisini ya da hangilerini gerçekleştirebilir?

- A) Yalnız I
- B) I, II ve III
- C) II ve III



I



II



III

Dedesi Özge'ye çocukluklarında oynadıkları oyunları ve oyuncakları anlatmış ve oynadıkları oyunlarla, oyuncaklarla kurulan arkadaşlıklara halen özlem duyduğunu söylemiştir.

2. Buna göre, yukarıdaki oyun veya oyuncaklardan hangisi Özge'nin dedesinin anlattıklarının arasında yer almayabilir?

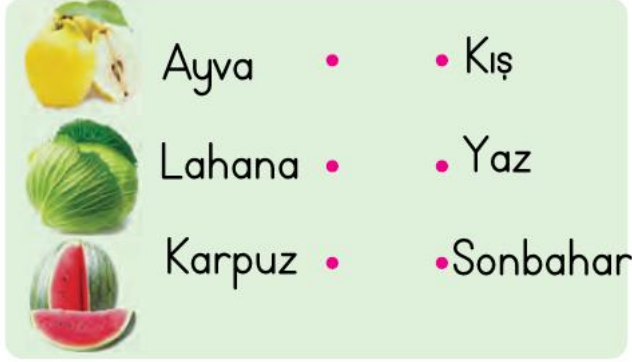
- A) I
- B) II
- C) III

Demokratik yaşayışın ilk alışkanlıkları ailede kazanılır.

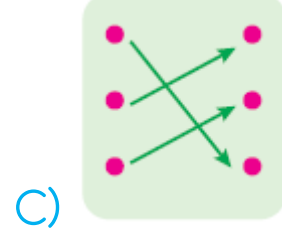
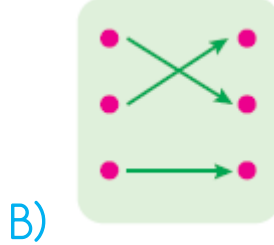
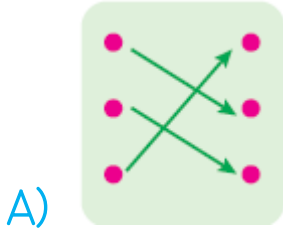
3. Aşağıdakilerden hangisi demokratik bir ailenin özelliğidir?

- A) Kararlar alınırken aile bireylerinin görüşleri alınır.
- B) Ailede kararları baba verir.
- C) Aile bireyleri arasında iş bölümü yoktur.

HAYAT BİLGİSİ TESTİ



4. Yukarıdaki yiyecekler uygun mevsimlerle eşleştirilirse doğru seçenek nasıl olur?



I. Piknik alanları, okul bahçeleri vb. alanlarda çöpleri çöp kutusuna atmalıyız.

II. Sınıf gibi kapalı alanları sık sık havalandırmalıyız.

III. Tuvaletleri kullandıktan sonra ellerimizi yıkamalı, kullandığımız peçeteleri çöp kutusuna atmalıyız.

IV. Hapşırırken, öksürürken ağızımızı kapatmalı ve maske kullanmalıyız.

5. Yukarıdakilerden hangisi ya da hangileri yapılırsa hem kendi sağlığımızı hem de diğer insanların sağlığını korumuş oluruz?

A) Yalnız I

B) I, II ve III

C) I, II, III ve IV



Saliha: Sürücülerin dikkatini dağıtacak davranışlarda bulunmamalıyız.



Kaan: Trafik işaret ve levhalarının anlamını bilmeliyiz.



Sevde: Karsıdan karsıya geçişlerde alt ve üst geçitleri kullanmalıyız.

9. Yukarıdaki öğrencilerden hangisinin ya da hangilerinin söyledikleri trafik kazalarını önler?

- A) Yalnız Sevde
- B) Kaan, Sevde
- C) Saliha, Kaan, Sevde

10. Aşağıdaki durumlardan hangisi ya da hangileriyle karşılaştığımızda "Hayır." demeliyiz?

- I. Tanımadığımız biri, bizi herhangi bir yere davet ettiğinde
 - II. Arkadaşlarımızdan biri, annenden izin al, birlikte çalışalım dediğinde
 - III. Arkadaşlarımızdan biri, derse girmeyelim, parkta oynayalım dediğinde
- A) Yalnız I B) I ve II C) I ve III


Hayat Bilgisi Testi Bitti. İngilizce Testine Geçiniz.

İNGİLİZCE TESTİ

1. Aşağıda verilen cümlenin Türkçe karşılığı hangi seçenekte verilmiştir?

My sister is thin and young.

- A) Kız kardeşim zayıf ve gençtir.
- B) Kız kardeşim yaşlı ve zayıftır.
- C) Kız kardeşim kısa ve gençtir.



2. Resme göre, aşağıdakilerden hangisi doğrudur?

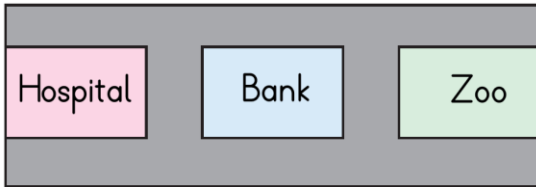
- A) My toy car is grey.
- B) My toy car is blue.
- C) My toy car is purple.



3. Aşağıdaki resme göre doğru olan seçenek hangisidir?

- A) It is a red square
- B) It is a red triangle
- C) It is a red round

4. Resme göre, aşağıdaki cümlede boş bırakılan yere hangi seçenekteki ifade gelmelidir?



The bank is the hospital and the zoo.

- A) on
- B) in
- C) between

5. Aşağıdaki kelimelerden hangisi "üzgünüm" anlamına gelir?

- A) I don't know.
- B) I'm sorry.
- C) I'm in the park.

İngilizce Testi Bitti. Soruların Çözümlerini İlkokulevim Youtube Kanalından İzleyebilirsiniz.