



MEKTUP VE SARIK

Adamın biri Nasrettin Hoca'ya bir mektup getirerek, "Hocam, sunu bir zahmet okuyuver." demiş. Hoca bakmış mektup Farsça, adama dönerek, "Ben bunu okuyamam, bu mektup Farsça yazılmış." demiş...

Adam sinirlenmiş. "Bir de Hoca olacaksın!" demiş. "Basındaki su koca sarıktan utan, bir mektubu bile okumaktan acizmişsin!"

Hoca hemen sarığını, kavuğunu çıkarıp adamın basına koymuş ve adama, "Haydi bakalım keramet sarıktaysa sen oku!" demiş.

1 ve 2. soruları yukarıdaki metne göre cevaplayınız.

1) Adam, Nasrettin Hoca'ya ne getirmiş?

- A) Kitap B) Gazete C) Mektup


























2) Mektup hangi dilde yazılmıştır?

- A) Türkçe B) Farsça C) Arapça

Kalın ünlü	İnce ünlü	Ünsüz harf
★	■	●

3) "MARKET" kelimesinin harfleri yukarıdaki sembollerle eşlenirse aşağıdaki şifrelerden hangisine ulaşılabilir?

- A) ● ★ ● ● ■ ●
B) ★ ■ ● ★ ■ ●
C) ● ★ ● ★ ■ ●

 A	 B	 C	 D	 E
 F	 G	 H	 I	 J
 K	 L	 M	 N	 O
 P	 Q	 R	 S	 T
 U	 V	 X	 Y	 Z

❄ Antik Mısır alfabesi ve Türkçe karşılıkları yandaki tabloda verilmiştir.

❄ Antik Mısır alfabesinde kelimeler soldan sağa doğru okunmaktadır.

4) Buna göre Antik Mısır alfabesinde “kulak” kelimesinin yazımı hangi seçenekte doğru verilmiştir?

- A) 
- B) 
- C) 

TÜRKÇE TESTİ

Proje ödevi için yandaki görsellerden bir afiş hazırlamak isteyen Kayra, afişi için slogan aramaktadır.



5) Kayra aşağıdaki sloganlardan hangisini kullanamaz?

- A) Geri Dönüşüm Atık Çöp Değildir.
- B) Geri Dönüşüm Geleceği Kurtarır.
- C) Geri Dönüşüm Kirliliğe Karşı Tedbir Değildir.

1 ABC 2 DEF 3

GHI 4 JKL 5 MNO 6

QPRS 7 TUV 8 WXYZ 9

* _ 0 #

Ahmet'in telefonunun kullanımı hakkındaki bilgiler aşağıda verilmiştir:

- ⊗ Harflerin çıkması için tuşlara basmalıdır.
- ⊗ Hangi harfi yazmak istiyorsa harfin bulunduğu rakama harfin sırası kadar basmalıdır.
- ⊗ Boşluk bırakmak için bir kere sıfıra basması yeterlidir.

6) Buna göre Ahmet arkadaşı **Ayla Serra**'yı aramak için telefonda tam olarak hangi tuşlara basmalıdır?

- A) 295273772
- B) 7377202352
- C) 2952073772



TÜRKÇE TESTİ

- ★ Tatili başlayan genç İstanbul'a gitmek için uçak bileti alır.
- İstanbul'a indiğinde pırıl pırıl parlayan güneşli bir hava ile karşılaşmıştır.
- ▲ Yolculuk günü geldiğinde havaalanına giderek uçağa biner.
- Uçak tam kalkacakken yağmur yağmaya başlar.

7) Yukarıda verilen cümleler hangi şıkta oluş sırasına göre sıralanmıştır?

A) ★ ▲ ■ ●

B) ★ ▲ ● ■

C) ▲ ★ ■ ●

Küçük hanımlar() küçük beyler() Sizler hepiniz geleceğin bir gülü() yıldızı ve ikbal ışığısınız() Memleketi asıl ışığa boğacak olan sizsiniz() Kendinizin ne kadar önemli, değerli olduğunuzu düşünerek ona göre çalışınız. Sizlerden çok şey bekliyoruz.”

8) Mustafa Kemal Atatürk'ün yukarıdaki sözünde parantez içerisindeki yerlere sırasıyla hangi noktalama işaretleri kullanılmalıdır?




A) (,) (!) (,) (.) (.)

B) (!) (.) (,) (.) (.)

C) (,) (!) (,) (,) (.)



9) Hangi öğrencinin kurduğu cümlede yazım yanlışı yapılmıştır?

- A)  Öğretmenimiz Falaka hikâyesini okumamızı istedi.
- B)  Ay, dünyanın uydusudur.
- C)  Dün Doğu dergisine röportaj verdi.



TÜRKÇE TESTİ

- 1 Avustralya çok çeşitli hayvanların yaşadığı bir kıtadır.
- 2 Avustralya'da Tasmanya canavarlarından, keseli sıçanına, uykucu koalalardan, güçlü kangurulara kadar birçok keseli hayvan bulunmaktadır.
- 3 Her yıl çıkan yangınlardan dolayı bir çok canlı yaşamını yitirmektedir.



Sedat öğretmen Avustralya'yı anlatırken sebep sonuç ilişkisi olan bir cümle kurmuştur.

10) Buna göre Sedat Öğretmen'in kurduğu cümlelerden hangisinde sebep sonuç ilişkisi bulunmaktadır?

A) 3

B) 2

C) 1



MATEMATİK TESTİ

$a > 11$

$b > 7$

$c < 8$

$d < 10$

1) Verilen bilgilere göre **a** ve **b** doğal sayılarının en küçük değerleri ile **c** ve **d** doğal sayılarının en büyük değerleri alınarak yapılan sıralama aşağıdakilerden hangisidir?

A) $a > d > b > c$

B) $c > b > d > a$

C) $a > b > c > d$

$8 * 5 = 27$

$4 * 3 = 5$

$7 * 9 = 47$

$4 * 8 = 20$

2) Yukarıda verilen sonuçlar yapılan belli işlemlere göre bulunduğuna göre $6 * 7$ işleminin sonucu kaçtır?

A) 29

B) 30

C) 31

	29	
?		
29		25

Yandaki şekilde bulunan sayılar soldan sağa, yukarıdan aşağıya ve köşeden köşeye toplandığında 75 sonucunu vermektedir.

3) Buna göre ? olan yere kaç yazılmalıdır?

A) 13

B) 21

C) 33

MATEMATİK TESTİ



Duru, bilgisayarına 4 farklı rakamdan oluşan bir şifre belirledi. Şifredeki yeşil ve mavi bölümlere sırasıyla birbirinden farklı en küçük tek rakamları, turuncu ve mor bölümlere ise sırasıyla birbirinden farklı en büyük çift rakamları yazdı.

- 4) Buna göre   x  işleminin sonucu kaçtır?
- A) 92
B) 96
C) 108



Hasan, 57 bilyesinden bazılarını kardeşine verecektir. Bunun için önce bilyelerini yan yana dizdi. Vermeye 7.bilyeden başladı. İleriye doğru sayarak her yedinci bilyeyi kardeşine verdi.

- 5) Hasan, kardeşine kaç bilye vermiştir?
- A) 7
B) 8
C) 9



MATEMATİK TESTİ

$$\begin{array}{r} \triangle \star \square \\ \triangle \star \square \\ + \triangle \star \square \\ \hline 789 \end{array}$$

Verilen toplama işleminde \triangle , \star ve \square birer rakamdır.

6) Buna göre $\triangle + \star + \square$ işleminin sonucu kaçtır?

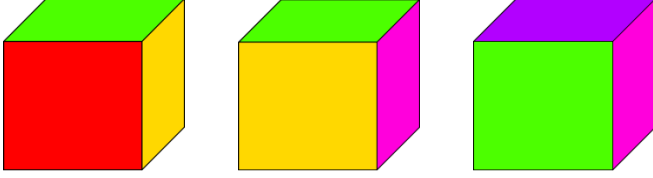
- A) 10
- B) 11
- C) 12

⊗ $203 < A < B < 240$

⊗ A ve B doğal sayıdır.

7) Buna göre "A + B" işleminin en büyük ve en küçük değerleri hangi seçenekte verilmiştir?

- | | en büyük | en küçük |
|----|----------|----------|
| A) | 476 | 409 |
| B) | 477 | 408 |
| C) | 477 | 409 |



Yukarıda bir küpün 3 farklı konumu verilmiştir.

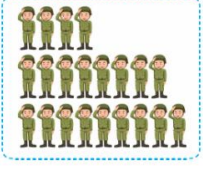
8) Bu küpün bir yüzü de mavi olduğuna göre , mavi renk hangi renkteki yüzün karşısındadır?

- A) Yeşil
- B) Mor
- C) Kırmızı

$$\begin{array}{r} 894 \\ - ABC \\ \hline 266 \end{array}$$

9) Yandaki çıkarma işleminde $A+B+C$ işleminin sonucu kaçtır?

- A) 14
- B) 16
- C) 18



Bir törene katılan askerler dörder, sekizer ve dokuzar sayıldığında her defasında 3 asker artmaktadır.

10) Bu törene katılan asker sayısı en az kaç olabilir?

A) 93

B) 83

C) 75



FEN BİLİMLERİ TESTİ



1) Yukarıdaki maddelerin sahip oldukları özellikler hangi seçenekte doğru olarak verilmiştir?

- | | | |
|------------|----------|---------|
| | | |
| A) Sert | sağlam | kokulu |
| B) Yumuşak | kırılgan | kokulu |
| C) Yumuşak | kırılgan | kokusuz |



Berfin kilo problemi olduğu için diyetisyene gitmiştir.

2) Diyetisyen Berfin'e hangi öneride bulunmuş **olamaz**?

- A) Bol su içmelisin.
B) Yağlı yiyecekler tüketmelisin.
C) Düzenli egzersiz yapmalısın.



FEN BİLİMLERİ TESTİ



I



II



III

3) Yukarıda uygulanan kuvvetler hangi seçenekte doğru olarak verilmiştir?

I

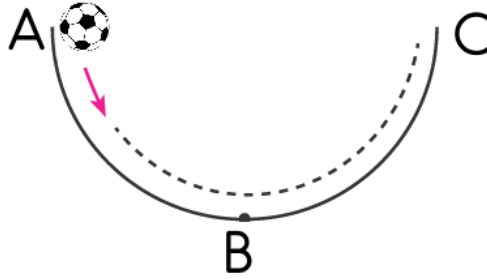
- A) İtme
- B) Çekme
- C) Çekme

II

- A) İtme
- B) Çekme
- C) İtme

III

- A) Çekme
- B) İtme
- C) İtme



Sürtünmesiz ortamda bulunan top A noktasından bırakıldıktan sonra C noktasına kadar çıkabilmektedir.

4) Topun hareketi ile ilgili;

I. A - B yolunda hızlanmıştır.

II. B - C yolunda yavaşlamıştır.

III. Hareket sırasında topun hareket yönü değişir.

yargılarından hangileri doğrudur?

A) I ve II

B) II ve III

C) I, II ve III

FEN BİLİMLERİ TESTİ



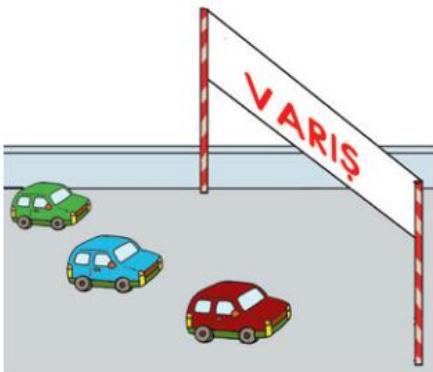
Ersan soğuk havalarda kendine dikkat etmemiş, grip olmuştu. Bu yüzden yiyeceklerin tadını ve kokusunu almakta zorluk yaşıyordu.

5) Ersan hangi duyu organıyla ilgili sağlık sorunları yaşamaktadır?

A) Deri-Burun

B) Dil-Kulak

C) Dil-Burun



Yandaki yarışta arabaların hepsi buldukları konumdan aynı anda varışa ulaşmıştır.

6) Buna göre hangi araba en hızlıdır?

A) Yeşil

B) Kırmızı

C) Mavi




FEN BİLİMLERİ TESTİ



Dila gelen topa hızlı bir şekilde vurmuştur.

7) Dila'nın topa uyguladığı kuvvetin etkisi aşağıdakilerden hangisidir?

- A) Dönme
- B) Yön değiştirme
- C) Yavaşlama



8) Yukarıdaki gibi bir makarayı tavana bağlayarak makaranın üstünden geçen ipin ucuna bağlı yükü hareket ettiren biri ile ilgili aşağıda verilenlerden hangisi yanlıştır?

- A) İpe çekme kuvveti uygulanırsa yük yukarı yönde hareket eder.
- B) İpe itme kuvveti uygulanırsa yük yukarı yönde hareket eder.
- C) İpe itme kuvveti uygulanırsa yük aşağı yönde hareket eder.



FEN BİLİMLERİ TESTİ

Dünya'mızın katmanları ile ilgili verilen ifadelerin kutucuklarına doğru ise "D" yanlış ise "Y" yazınız.

Manto: Dünya'nın etrafını saran havanın bulunduğu katmandır.

Yer kabuğu: Dünya'nın yüzeyini oluşturan okyanusların ve karaların olduğu katmandır.

İç çekirdek: Dünya'nın merkezinde yer alan bu katman en sıcak katman değildir.

9) Buna göre aşağıda verilen kutucuklardan hangisi doğru verilmiştir?

A)

D
D
D

B)

Y
D
Y

C)

Y
Y
Y

Yunus: Yumuşak cisimlere dokunulduğunda cisimlerin şekli değişir.

Fatih: Kırılgan cisimlerin kırılması için kuvvetin şiddeti önemlidir.

Seyit: Esnek cisimlere kuvvet uygulandığında şekilleri değişir.

Kuvvet ortadan kalktığında eski şekillerine dönmezler.

10) Yukarıdaki öğrencilerden hangilerinin veya hangilerinin açıklaması yanlıştır?

A) Seyit

B) Yunus

C) Seyit ve Fatih



HAYAT BİLGİSİ TESTİ



Murat'ın Odası




Semih'in Odası

- 1) Görselde odası verilen öğrencilerle ilgili hangi yorum doğrudur?
- A) Murat kişisel eşyalarını düzenli kullanmıştır.
- B) Odasını düzenli kullanma konusunda Semih, Murat'a göre daha sorumludur.
- C) Murat ve Semih odalarını düzenli kullanmaktadırlar.

Alper  Akrabalarımızla düzenli olarak görüşürüz.


Ecrin  Sadece yardıma ihtiyaçları olduğunda akrabalarımızın yanında oluruz.

Burak  Akrabalarımızın yanına gidemesek bile telefonla arayarak hal ve hatırlarını sorarız.

2) Hangisinin akrabalarıyla arasında dayanışma ve yardımlaşma yoktur?

- A) Ecrin
- B) Burak
- C) Alper

HAYAT BİLGİSİ TESTİ



3 ve 4. soruları şemaya göre yanıtlayınız.

3) Fatih'in akrabalarıyla ilgili verilen bilgilerden hangisi yanlıştır?

- A) Sait , Fatih'in amcasıdır.
- B) Sezen , Fatih'in halasıdır.
- C) Elvan, Fatih'in annesidir.

4) Yukarıda bulunan şemada Fatih'in hangi akrabası bulunmamaktadır?

- A) Dedesi
- B) Teyzesi
- C) Dayısı



HAYAT BİLGİSİ TESTİ

Bülent



Proje ödevimi vaktinde tamamlayamadım.
Gelişigüzel bir projeyi öğretmenime teslim ettim.
Bunun sonucunda sınıfın en düşük notunu aldım.

5) Bülent'in karşılaştığı bu sonucun nedeni, aşağıdakilerden hangisi olamaz?

- A) Projem için yeterli bilgiyi zamanında bulamadım.
- B) Projemi son gün yapmaya karar verdim.
- C) Projem için önce araştırma yaptım, daha sonra da yeterli çalışmayı tamamladım.



Dilek öğretmen derse başlamadan öğrencilerine şöyle demiştir. "Çocuklar bazen aranızda sorunlar olabilir. Sorunlarınızı çözmelisiniz."

6) Babamızın çocukluk dönemini aşağıdakilerden hangisinden öğrenemeyiz?

- A) tartışarak
- B) bağırarak
- C) konuşarak



Melina arkadaşları ile voleybol oynadı ve oyunun sonunda Melina'nın takımı oyunu kaybetti.

7) Bu duruma göre Melina aşağıdakilerden hangisini yaptığında doğru bir davranış sergilemiş olur?

- A) Karşı takıma bir şey söylemeden oradan uzaklaşır.
- B) Yenilse de oyun için arkadaşlarına oyun için teşekkür ve tebrik eder.
- C) Öfkeyle takım arkadaşlarını suçlar.




Kendi istek ve ihtiyaçlarımızı dile getirirken arkadaşlarımızın duyarlılıklarına da dikkat etmeliyiz. Düşünce ve hareketlerimizi güzel değerlendirmek iyimserliktir.

8) Aşağıdaki davranışlardan hangisi iyimserliğe örnek olarak verilemez?

- A) Sınavda bizden yüksek not alan arkadaşımızın başarısını tebrik etmek
- B) Maçı kaybettiğimizde olumsuz tepki göstermek
- C) Herhangi bir konuda bize yardım eden birine teşekkür etmek

HAYAT BİLGİSİ TESTİ



9) Yukarıdakilerden kaç kişi yardıma ihtiyaç duyan öncelikli kişilerden değildir?

- A) 2
- B) 3
- C) 4



Yemekten sonra odama geçerek oyuncaklarımla oynarım.



Her gün okuldan gelince sofrayı hazırlamaya yardımcı oluyorum.



Hafta sonları genellikle bilgisayarla oynuyorum.

10) Aşağıdaki çocuklardan hangisinin ailedeki iş bölümüne katıldığı söylenebilir?





İNGİLİZCE TESTİ

1)



- A) 12
- B) 16
- C) 20

Nice to meet you!



.....

2)

- A) Hi!
- B) I'm fine.
- C) Nice too meet ,you.



The turtle run.
It is slow.

3)

- A) can't
- B) can
- C) are

İNGİLİZCE TESTİ

4)



Ali is
He can play basketball.

- A) fat
- B) short
- C) tall

5)



- A) watch TV.
- B) drive a car.
- C) listen to music.