

3.SINIF

İLKOKULEVİM NİSAN AYI KAZANIM DEĞERLENDİRME SINAVI

www.ilkokulevim.com



TÜRKÇE

MATEMATİK

**FEN
BİLİMLERİ**

**HAYAT
BİLGİSİ**

İNGİLİZCE



TUZAĞA DÜŞEN KUŞ

Avcının biri, küçük bir kuşu tuzağa düşürerek yakalamıştı. Minik kuş dile gelerek avcıya yalvardı:
- Ey avcı () Sen şimdiye kadar birçok öküz, koyun yedin; deve kurban ettin. Bu dünyada onlardan doymadın, benim bir avuç etimle mi doyacaksın() Eğer beni bırakırsan sana üç öğüt vereceğim. Bu öğütlerden ilkini senin elindeyken, ikincisini şu damın üstünde, üçüncüsünü ise ağacın üstünde söyleyeceğim. Eğer beğenirsen, beni bırakırsın. Adam kuşun söylediklerini kabul etti () Birinci öğüdü beğendiği için kuşu serbest bıraktı. Ağacın tepesine konan kuş uçup gitti.

(İlk 3 soruyu metne göre cevaplayınız.)

1- Kuş avcıya kaç öğüt söylemiştir?

- A. Bir
- B. İki
- C. Üç

2- Avcı kuşu niçin serbest bırakmıştır?

- A. Kuş çok küçük olduğu için
- B. Kuşun öğüdünü beğendiği için
- C. Kuşa acıdığı için

3- Verilen boşluklara () sırasıyla hangi noktalama işaretleri getirilir?

- A. (!) (?) (.)
- B. (.) (,) (.)
- C. (?) (?) (.)

4- Hangi seçenekte, satır sonuna sığmayan sözcük bölünürken doğru noktalama işareti kullanılmıştır?

A. ka'
rınca

B. kar,
puz

C. ör-
dek

5- Aşağıdaki cümlelerin hangisinde kesme işareti yanlış kullanılmıştır?

- A. Babam Konya'lı annem Sivaslı'dır.
- B. Halamlara giderken Salda Gölü'ne uğradık.
- C. Zeynep'e "Keloğlan'dan Masallar" kitabını aldım.





Ben;

- Özel adlara gelen ekleri ayırmak için kullanılır.
- Kısaltmalara gelen ekleri ayırmada kullanılır.
- Sayılara getirilen ekleri ayırmada kullanılır.

6- Yukarıda kullanıldığı yerleri söyleyen noktalama işareti aşağıdakilerden hangisidir?

- A. ! B. " " C. ;

7- Aşağıdaki cümlelerin hangisinde yazım yanlışı yapılmıştır?

- A. Akşam sinemaya gidelim mi?
B. Çokmu yorgun görünüyor?
C. Ay, Dünya'nın uydusu mu?

8- Aşağıdaki cümlelerin hangisinde yazım yanlışı yapılmıştır?

- A. Çok koştu ama tirenı yakalayamadı.
B. Koridorda kořmak yasaktır.
C. Başarılı olmak için düzenli ders çalışmalısın.

- Marketten yoğurt da aldı.
- Bizde tiyatroya gidelim mi?
- Hakan'ada bilet alalım mı?

9- Yukarıdaki cümlelerin hangilerinde yazım yanlışı yapılmıştır?

- A. * ■
B. ■ ●
C. * ●

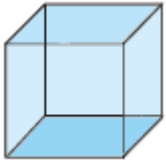
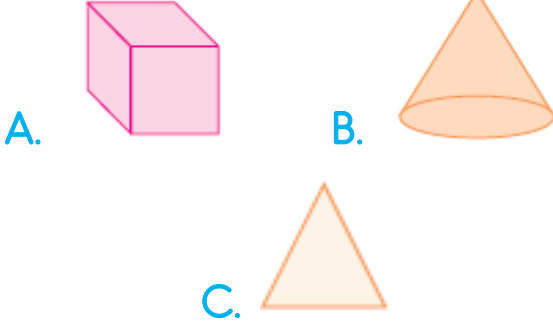
10- "Yemekte ayrında ister misin?" cümlesindeki yazım yanlışı nasıl düzeltilebilir?

- A. "-mısın" eki sözcüğe bitişik yazılarak
B. "ayran" sözcüğü "ayran da" şeklinde yazılarak
C. "Yemekte" sözcüğü "Yemek de" şeklinde yazılarak





1- Aşağıdakilerden hangisi geometrik cisim değildir?

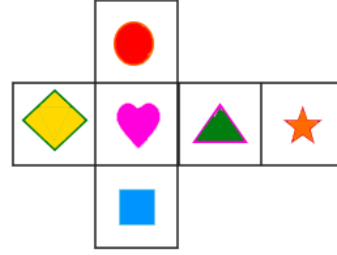


2- Yukarıdaki geometrik şeklin ayrıt, köşe ve yüz sayılarını toplamını bulmak isteyen Cem, aşağıdaki işlemlerden hangisini yapmalıdır?




- A. $8 + 8 + 6$
 B. $12 + 8 + 6$
 C. $12 + 12 + 8$

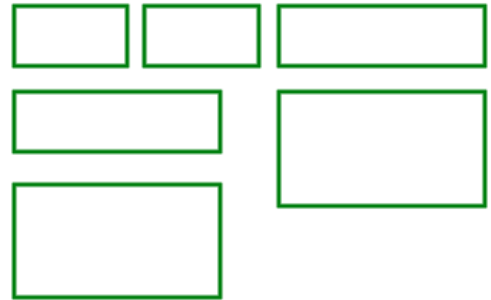
3- Aşağıdakilerden hangisi üçgen prizmanın özelliği değildir?

- A. 6 köşesi vardır.
 B. 5 yüzü vardır.
 C. 3 ayrıtı vardır.



4- Yukarıda verilen küpün açınımda kalbin karşısındaki yüze hangi şekil gelmelidir?

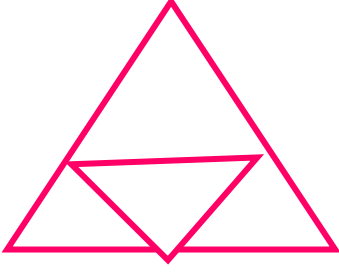
- A. 
- B. 
- C. 



5- Yukarıdaki düzlemsel şekilleri kullanarak hangi geometrik şekli elde ederiz?

- A. üçgen prizma
 B. kare prizma
 C. dikdörtgenler prizması





6- Yukarıdaki şekilde kaç tane üçgen vardır?

- A. 4
- B. 5
- C. 6

7- Aşağıdakilerden hangisi kare ve dikdörtgenin ortak özelliği değildir?

- A. İkisinin de 2 tane köşegeni vardır.
- B. İkisinin de 4 kenarı birbirine eşittir.
- C. İkisinde de 4 köşe vardır.

A - Köşesiz

B - 3 köşeli

C - 4 köşeli

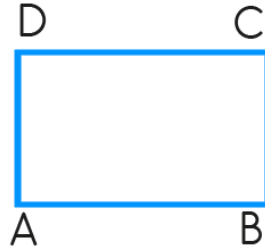
8- Yukarıda verilen bilgilere göre A,B,C şekillerinin doğru sıralanışı aşağıdakilerden hangisinde doğru olarak verilmiştir?



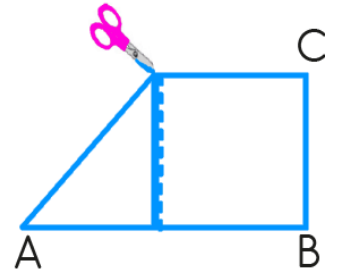
a		b		c		d
e		f		g		h

9- Yukarıda verilen kağıtta hangi 3 harfin noktaları birleştirilse üçgen şekli ortaya çıkar?

- A. a-b-c
- B. b-h-c
- C. e-g-h

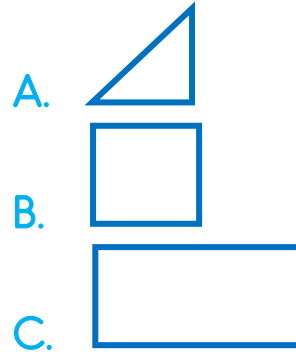


Şekil 1



Şekil 2

10- 1. şekildeki dikdörtgenin "D" köşesi 2. şekilde olduğu gibi katlanıp belirtilen yerden makas ile kesildiğinde ortaya çıkan soldaki parça hangi seçenekteki gibi olabilir?





“Sağlıklı bir çevre temiz bir çevredir. Temiz çevrede yaşayan insanlar sağlıklı, huzurlu, mutlu ve başarılı olurlar.”

1- Yukarıdaki metne göre aşağıdakilerden hangisinde insanların sağlıklı ve mutlu bir yaşam sürdürmeleri beklenemez?



2- Aşağıda verilen görsellere göre hangi hayvan doğal ortamında yaşamamaktadır?



3- Aşağıda verilen varlıklardan hangisi çevrede en az süre kirliliğe neden olur?

- A. Kağıt
B. Plastik şişe
C. Pil

Her canlının kendine uygun bir yaşam alanı vardır.

Doğal çevre insanlar tarafından oluşturulur.

Plansız şehirleşme doğal çevreye zarar verir.

4- Yukarıdaki hangi öğrenci yanlış bilgi vermiştir?

- A. B. C.

● Dedemler yaylada yaşıyorlar.

■ Köyümüzde su sıkıntısı var.

* Şehrin merkezinde oturuyoruz.

5- Yukarıdaki cümleleri söyleyen kişilerden hangisinin yaşadığı yerde yapay çevreye daha fazla örnek vardır?

- A. ●
B. ■
C. *



1- Resimdeki doğal yapı (güzellik) aşağıdakilerden hangisi ile ilgilidir?

- A. Nemrut Dağı ile
- B. Peribacaları ile
- C. Kelebekler Vadisi ile

Kayra: "Yaz tatilinde ailemle birlikte Konya, Denizli illerini gezdik."


2- Buna göre Kayra aşağıdaki tarihi eserlerden hangisini görmüş olamaz?

- A. Mevlana Türbesi
- B) Pamukkale Travertenleri
- C) Göbeklitepe

3- Doğal, tarihî ve turistik yerlerde gezerken aşağıdakilerden hangisini yapmamalıyız?

- A. Gezmeye gelen insanları rahatsız edici davranışlarda bulunmamalıyız.
- B. Fotoğraflar çekip arkadaşlarımıza göstermemeli ve saklamalıyız.
- C. Yediğimiz yiyeceklerin çöpünü yerlere atmamalıyız.

- 4- Aşağıdakilerden hangisi tarihi eserlerle ilgili yanlış bir bilgidir?
- A) Doğal olarak meydana gelmiştir.
 - B) Korunması gereken eserlerdir.
 - C) Geçmiş hakkında bilgi verirler.



Sümela Manastırı

5- Yandaki tarihi güzelliğimiz aşağıdaki illerimizden hangisinde yer almaktadır?

- A. Trabzon
- B. İstanbul
- C. Ankara





Bu test 5 sorudan oluşmaktadır.



1- Resimdeki ulaşım araçları hangi seçenekte doğru verilmiştir?

- A. bus / car / plane
- B. bus / car / helicopter
- C. train / car / helicopter

4- Görseli anlatan seçeneği işaretleyiniz.

- A. bike
- B. bus
- C. car



2- Görseli anlatan seçeneği işaretleyiniz.

- A. Bus
- B. Train
- C. Plain



- Where is the helicopter?

-

5- Boşluğa ne yazılmalıdır?

- A. It is at the station.
- B. It is at the station.
- C. It is in the air.

Mert:

Samet: You can take a bus.

3- Mert hangi soruyu sormuştur?

- A. Where is Ankara
- B. How many buses are there
- C. How can I get to İzmir



ADI:
SOYADI:
SINIFI:
NUMARASI:

TÜRKÇE

CEVAPLAR

1	A	B	C
2	A	B	C
3	A	B	C
4	A	B	C
5	A	B	C
6	A	B	C
7	A	B	C
8	A	B	C
9	A	B	C
10	A	B	C

MATEMATİK

CEVAPLAR

1	A	B	C
2	A	B	C
3	A	B	C
4	A	B	C
5	A	B	C
6	A	B	C
7	A	B	C
8	A	B	C
9	A	B	C
10	A	B	C

FEN BİLİMLERİ

CEVAPLAR

1	A	B	C
2	A	B	C
3	A	B	C
4	A	B	C
5	A	B	C
6	A	B	C
7	A	B	C
8	A	B	C
9	A	B	C
10	A	B	C

HAYAT BİLGİSİ

CEVAPLAR

1	A	B	C
2	A	B	C
3	A	B	C
4	A	B	C
5	A	B	C
6	A	B	C
7	A	B	C
8	A	B	C
9	A	B	C
10	A	B	C

İNGİLİZCE

CEVAPLAR

1	A	B	C
2	A	B	C
3	A	B	C
4	A	B	C
5	A	B	C
6	A	B	C
7	A	B	C
8	A	B	C
9	A	B	C
10	A	B	C

CEVAP ANAHTARI

TÜRKÇE	MATEMATİK	FEN BİLİMLERİ	HAYAT BİLGİSİ	İNGİLİZCE
1-A	1-C	1-C	1-B	1-B
2-B	2-B	2-C	2-C	2-C
3-A	3-C	3-A	3-B	3-C
4-C	4-C	4-B	4-A	4-A
5-A	5-C	5-C	5-A	5-C
6-C	6-B			
7-B	7-B			
8-A	8-C			
9-B	9-B			
10-B	10-A			

