

3. SINIF

KAZANIM DEĞERLENDİRME SINAVI

TÜRKÇE
MATEMATİK
HAYAT BİLGİSİ
FEN BİLİMLERİ
İNGİLİZCE
* * *



A B C

1 2 3

www.ilkokulevim.com



1- Aşağıdaki kelime gruplarından hangisindeki anlam ilişkisi diğerlerinden farklıdır?

- A. yaşlı-genç
- B. mutlu-mesut
- C. mektup-name

2- "limon" kelimesinin ilk harfi aşağıdaki cümlelerden hangisinde yanlış yazılmıştır?

- A. Limon ağacı çiçek açtı.
- B. Kedim limon bahçeye çıktı.
- C. Salataya limon sıkar mısın?

- park
- oyun
- ▲ oyuncak

3- Yukarıdaki kelimelerin hangisi sözlükte son sırada gelir?

- A. ▲
- B. ●
- C. ■


22	1	9	15	11	14

4- Yukarıda alfabemizdeki harflerin sırasından yararlanarak bir şifre oluşturulmuştur. Oluşan şifre aşağıdakilerden hangisidir?

- A. sözlük
- B. salgın
- C. sağlık

Markete alışverişe gittiğim zaman güler yüzlü, mavi kıyafetli, kahverengi saçlı ve sakallı bir personel bana yardımcı oldu.

5- Yukarıdaki ifadeye göre yardımcı olan personel aşağıdakilerden hangisidir?



6- Kumbaramıza attığımız bozuk paraların miktarı küçük olabilir. Ama bir süre sonra kumbaramızı açtığımızda içinde biriken paralarla almak istediklerimizi alabilirsiniz.

Yukarıda bahsedilen durumu en iyi anlatan atasözü aşağıdakilerden hangisidir?

- A. Birlikten kuvvet doğar.
- B. Ayağını yorganına göre uzat.
- C. Damlaya damlaya göl olur.



TÜRKÇE TESTİ

Kayra, öğretmeniyle piknik alanında karşılaşınca çok şaşırıldı.

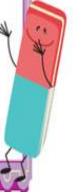
7- Yukarıdaki cümlede aşağıdaki soruların hangisinin cevabı yoktur?

- A. kim?
- B. ne zaman?
- C. nerede?

8- Aşağıdakilerden hangisi neden-sonuç cümlesi değildir?

- A. Kitabını bitirebilmek için geç yatmış.
- B. Soğuk su içtiği için sesi kısılmış.
- C. Resimleri çok güzel boyamışın.

- | | |
|-------------|------------|
| 1- çukolata | 2 -anahtar |
| 3- doktor | 4- deynek |
| 5- asfalt | 6- afferin |
| 7- pisküvi | 8- herkes |



9- Yukarıda numaralandırılmış Kelimelerin hangilerinin yazımı yanlıştır?

- A. 1 - 2 - 3 - 5 - 6
- B. 1 - 3 - 4 - 6 - 7
- C. 1 - 2 - 4 - 5 - 6

10- Aşağıdaki cümlelerin hangisinde kullanılan noktalama işareti ya da işaretleri yanlıştır?

- A. Tiyatroya kaçta gideceksin?
- B. Dr Ahmet Beyin odası nerede!
- C. Of, hava çok sıcak!

MATEMATİK TESTİ



1- Yandaki tabelada yazan sayının doğru okunuşu aşağıdakilerden hangisidir?

- A. dört bin elli dokuz
B. dört bin doksan beş
C. dört bin yüz elli dokuz

2-	678	786	687	768
	I	A	K	T

Yukarıdaki sayılar büyükten küçüğe doğru sıralanırsa harfler ile hangi kelime şifrelenir?

- A. AKTI
B. TAKI
C. ATKI



3- Kurbağa Kuki, gölde zıplarken her zıpladığı yaprakta 2 metre yol kat ediyor. 30. zıplayıştan sonra kaç m. yol kat etmiş olur?

- A. 30
B. 60
C. 90



120 TL



100TL

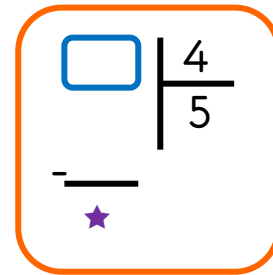


85TL

4- Asya Hanım, alışverişe çıkarken yanında 500 lira vardır. Alışverişinde en fazla harcamayı okumak istediği kitaplara ayırmıştır. Ayrıca pantolon ve etek de alarak alışverişini tamamlamıştır.

Asya Hanım'ın geriye kaç lirası kalmıştır?

- A. 200
B. 195
C. 205



5- Yukarıdaki bölme işleminde bölünen en fazla kaç olabilir?

- A. 20
B. 23
C. 21

MATEMATİK TESTİ

125

251

6- Yukarıdaki sayılarda bulunan 5 rakamlarının basamak değerlerinin çarpımı kaçtır?

- A. 250
B. 25
C. 125

7-	Hayvan Adı	Hayvan Sayısı
	İNEK	15
	AT	4
	KAZ	22
	TAVUK	34

Tabloya göre çiftlikte bulunan hayvanların sayısı sırasıyla en az ve en çok olan aşağıdakilerden hangisinde doğru olarak verilmiştir?

- A. at-kaz
B. tavuk-inek
C. at-tavuk

8- Çevresinin yarısı 40 metre olan kare şeklindeki bir oyun sahasının bir kenarı kaç metredir?

- A. 15
B. 20
C. 10

9- 240 koltuklu bir uçakta bütün biletler satılmıştır. Fakat yolcuların $\frac{1}{10}$ ' inden 5 fazla yolcu uçağı kaçırmıştır. Buna göre uçakta seyahat eden kaç yolcu vardır?

- A. 220
B. 216
C. 211

$$54 \times 107 < A$$

10-

Yukarıdaki ifadeye göre A yerine yazılabilecek en küçük doğal sayı kaçtır?

- A. 5778
B. 5779
C. 5769



FEN BİLİMLERİ TESTİ

- 1- I. Elektrikli araçlar, talimatlara uygun kullanılmalıdır.
II. Elektrik kaçakları yangına neden olabilir.
III. Elektrikli cihazlarda yalıtılmış kablo kullanılmalıdır.
Yukarıdaki ifadelerden hangileri doğrudur?
A. Yalnız I
B. II ve III
C. I, II ve III


- ✓ Doğal çevre kendiliğinden oluşur.
- ✓ Ev inşa etmek, doğal çevreye zarar vermez.
- ✓ Doğal çevrenin bozulması, canlı türlerinin azalmasına neden olur.
- ✓ Doğal çevrede sadece insanlar yaşar.

- 2- Doğal çevre ile ilgili verilen ifadelerden kaç tanesi doğrudur?
A. 4
B. 3
C. 2

Mustafa, telefonda konuşurken karşıdan gelen aşırı yüksek sestən rahatsız olarak telefonu kulağından uzaklaştırmıştır.

- 3- Bu bilgiye göre Mustafa'nın duyacağı son konuşmalardaki sesin şiddeti aşağıdakilerden hangisi gibi olur?
A. Artar.
B. Azalır.
C. Değişmez.

4- Aşağıdaki varlıkları düşünerek çıkarttıkları seslerden hangisi yapay ses kaynağıdır?



FEN BİLİMLERİ TESTİ



Ayşe, ailesiyle birlikte bir yaz akşamı yürüyüşe çıktığında önce trafik ışıklarını gördü. Parka gittiklerinde kaç tane sokak lambası olduğunu saydı. Bankta dinlenirken en parlak yıldızı bulmaya çalıştı.

5- Yukarıdaki bilgiye göre Ayşe gezisi sırasında kaç tane ışık kaynağı tespit etmiştir?

- A. 1
- B. 2
- C. 3

6- Okul müdürümüz konuşma yaparken mikrofon bozulmuş ve müdürümüz mikrofonsuz konuşmaya devam etmiştir. Müdürümüzün sesini ön sıradaki öğrencilerin daha iyi duymasının sebebi aşağıdakilerden hangisidir?

- A. Ses her yöne dağılarak yayılır.
- B. Sesin şiddeti kaynağına yaklaştıkça artar.
- C. Ses her yere eşit şekilde dağılır.

Elektrik çarpması vücutta yanıkların oluşmasına; sakatlanmalara hatta ölüme bile neden olabilir.

7- Aşağıdaki durumlardan hangisi elektrik çarpmasına neden olmaz?

- A. Islak elle prizlere dokunmak
- B. Çalışan elektrikli aleti su ile yıkamak
- C. Yalıtılmış kablo kullanmak

8- Üzerinde yandaki işaret olan kutuya aşağıdakilerden hangisi atılmamalıdır?



- A. Yemek atıkları
- B. Piller
- C. Plastik maddeler

FEN BİLİMLERİ TESTİ



Çevreyi niçin korumalıyız?

9- Yukarıdaki soruya hangi cevap verilmez?

- A. Sağlıklı bir yaşam için
- B. Daha çok avcılık yapmak için
- C. Kaynaklarımızı korumak için

Baraj	Dere
Köprü	Ev

10- Yukarıdaki tabloda yapay çevreye örnek olanlar çıkarılırsa tablo nasıl oluşur?

- A.

- B.

- C.



/ilkokulevim



/ilkokulevim



/ilkokulevim



/ilkokulevim



HAYAT BİLGİSİ TESTİ

I. Atatürk zorluklar karşısında yılmadan mücadeleye etmiştir.

II. Atatürk yaptığı işleri önceden planlardı.

III. Atatürk sürekli fikir değiştiren biridir.

1- Kaç numaralı cümle yanlış söylenmiştir?

- A. I
- B. II
- C. III



Ali

Bu tatilde Trabzon'u gezdik.

2- Ali aşağıdaki yerlerden hangisine gitmiş olabilir?

- A. Mevlana
- B. Anıtkabir
- C. Sümela Manastırı

3- Aşağıdaki bilgilerden hangisi yanlıştır?

- A. İki tane dini bayramımız vardır.
- B. Cumhuriyet Bayramı'nı ekim ayında kutlarız.
- C. Gençlik ve Spor Bayramı'nı Ağustos ayında kutlarız.

Bencil

Güvenilir

Sözünde duran

Dürüst

Alaycı

Kavgacı

Öğretmenimiz arkadaşlarımızda bulunmasını istediğimiz olumlu özellikleri seçmemizi istemiştir

4- Buna göre öğrenciler yukarıdaki tablodan kaç olumlu özellik seçebilir?

- A. 2
- B. 3
- C. 4

1

Alışveriş listesi hazırlar.

2

Öncelikle isteklerini alır.

3

Fiyat araştırması yapar.

5- Yukarıda bilinçli tüketici ile verilen bilgilerden kaç numaralı olan yanlıştır?

- A. 1
- B. 2
- C. 3



HAYAT BİLGİSİ TESTİ

6- Aşağıdakilerden hangisi yanlıştır?



A. Dişlerimizi fırçalarken musluğu kapatmalıyız.




B. Tabağımıza yiyeceğimiz kadar yemek koymalıyız.



C. Uyurken ışıkları açık bırakabiliriz.

7- Aşağıdaki durumların hangisinde polisten yardım istemeliyiz?



A.

B.



C.

8- Aşağıdaki bilgilerden hangisi yanlıştır?

A. Kişisel bakım yaparken suyu dikkatli kullanmalıyız.

B. Açıkta satılan yiyeceklerden almamalıyız.

C. Ortak kullanım alanlarını düzenli bırakmayabiliriz.

9- Aile bütçesine katkı sağlamak isteyen bir öğrenci aşağıdakilerden hangisini yapmalıdır?

A. Bir iş bulup çalışmalıdır.

B. Aile bütçesine zarar veren davranışlardan uzak durmalıdır.

C. Evdeki malzemeleri gizlice satmalıdır.

Derslerimizi düzenli ve planlı çalışarak ileriki yaşamımızda başarılı olacağımız bir mesleğe sahip olmamız sadece kendimiz için değil için de çok önemlidir.

10- Yukarıdaki metinde boş bırakılan yere aşağıdakilerden hangisi yazılmalıdır?

A. okulumuz

B. ülkemiz

C. arkadaşlarımız



İNGİLİZCE TESTİ



It is

1- Boşluğa hangi kelime gelmelidir?

- A. cold
- B. hot
- C. sunny



It is a

2- Boşluğa hangi kelime gelmelidir?

- A. bike
- B. bus
- C. plane



It is a

3- Boşluğa hangi kelime gelmelidir?

- A. Park
- B. hospital
- C. zoo



The cup is the table.

4- Boşluğa hangi kelime gelmelidir?

- A. in
- B. on
- C. under



I feeltoday.

5- Boşluğa gelmesi gereken kelime nedir?

- A. tired
- B. sad
- C. hungry



/ilkokulevim



/ilkokulevim



/ilkokulevim



/ilkokulevim

Sevgili ÖĞRETMEN ve VELİLERİMİZ;
Deneme Sınavına Teşekkür Mahiyetinde
Sosyal Medya Hesaplarımızı Beğenirseniz
Çok Mutlu Oluruz.

Aşağıdaki Linklerden Bizlere Ulaşabilirsiniz.

www.ilkokulevim.com

www.instagram.com/ilkokulevim

www.facebook.com/ilkokulevim

www.facebook.com/groups/272489210266407/

t.me/ilkokulevim

3. SINIF KDS CEVAP ANAHTARI

TÜRKÇE	MATEMATİK	FEN BİLİMLERİ	HAYAT BİLGİSİ	İNGİLİZCE
1-A	1-A	1-C	1-C	1-A
2-B	2-C	2-C	2-C	2-B
3-C	3-B	3-B	3-C	3-C
4-C	4-B	4-A	4-B	4-B
5-B	5-B	5-C	5-B	5-A
6-C	6-A	6-B	6-C	
7-B	7-C	7-C	7-B	
8-C	8-B	8-A	8-C	
9-B	9-C	9-A	9-B	
10-B	10-B	10-B	10-B	