

www.ilkokulevim.com

3. SINIF

KAZANIMI DEĞERLENDİRME SINAVI

FEN BİLGİSİ

TÜRKÇE

MATEMATİK

HAYAT BİLGİSİ

İNGİLİZCE

İLKOKULEVİM



özledi

okulu

çocuklar

çok

1

2

3

4

1-Numaralandırılmış kelimelerden kurallı ve anlamlı bir cümle oluşturulursa sıralama nasıl olur

- A.3 - 2 - 1 - 4
- B.3 - 2 - 4 - 1
- C.2 - 1 - 3 - 4

2-"Dedem, çiftliğinde tavuk besliyor." cümlesinde 5N 1K sorularından hangisinin yanıtı yoktur?

- A.Kim?
- B.Ne?
- C.Ne zaman?

Sevinç, üzüntü, heyecan, korku gibi duygu bildiren ifadelerden sonra.....kullanılır.

3-Yukarıdaki cümlede boş bırakılan yere aşağıdakilerden hangisi yazılırsa doğru olur?

A. Ünlem İşareti

B. Soru İşareti

C. Nokta

4-Dondurmasını düşürdüğünden dolayı üzülen Berra için hangi deyim kullanmak doğru olur?

- A.Etekleri zil çalmak.
- B.Gözü yüksekte olmak.
- C.İki gözü iki çeşme ağlamak.



Mirnav



Pati



Prenses

5-Yukarıda Taci'nin en sevdiği hayvanlar verilmiştir. Taci, hayvanlarının adını alfabetik sıraya göre sıralamak istiyor. Buna göre sıralama nasıl olmalıdır?

- A.Prenses - Pati - Mirnav
- B.Mirnav - Pati - Prenses
- C.Mirnav - Prenses - Pati

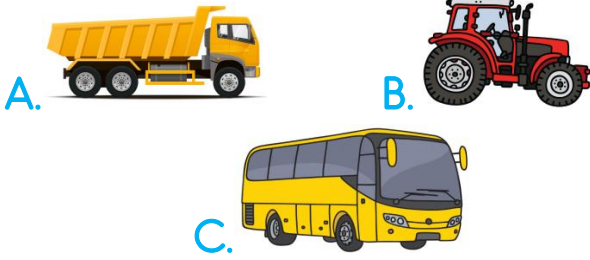
6-Aşağıdaki atasözlerinden hangisi "tasarruf" ile ilgilidir?

- A. Sakla samanı gelir zamanı.
- B.Birlikten kuvvet doğar.
- C.Bir elin nesi var, iki elin sesi var.



- İki ünlü harfi vardır.
- Dört ünsüz harfi vardır.
- İki heceden oluşur.
- Bir taşıtın adıdır.

7-Yukarıda bilgileri verilen varlığın görseli aşağıdakilerden hangisidir?



- beş altın ➡
- uslu çocuk ➡
- kare kasa ➡

8-Yukarıdaki altı çizili kelimelerin varlığın özelliğini hangi yönden belirttiği sırasıyla doğru olarak verilmiştir?

- A.Şekil - durum - sayı
- B.Sayı - şekil - durum
- C.Sayı - durum - şekil

9.Aşağıdaki cümlelerin hangisinde bir yazım yanlışı yoktur?

- A.Söylediklerimi yalnız sen biliyorsun.
- B.Bu oyunu herkez oynayabilir.
- C.Sınavdan sonra yalnız yaptığın soruları tekrar çöz.

Cemal, sağlığına çok dikkat eden bir çocuktur. Meyveleri çok seven Cemal, özellikle nar yemeyi çok sever. Her yediğinde aklına "Çarşıdan aldım bir tane eve geldim bin tane.." bilmecesi gelir. Sağlığına çok önem verdiği için meyveleri güzelce yıkamadan asla yemez.

10-Aşağıdakilerden hangisi yukarıdaki paragraf ile ilgili değildir?

- A.Cemal'in en sevdiği meyve nardır.
- B.Cemal meyveleri yıkamadan yer.
- C.Cemal sağlığına önem verir.



/ilkokulevim



/ilkokulevim



/ilkokulevim



/ilkokulevim



İlk 2 soruyu aşağıdaki grafiğe göre çözüünüz.

1.gün	2.gün	3.gün	4.gün	5.gün
●	●	●	●	●
●	●	●	●	
●		●	●	
		●	●	
		●		

(Her şekil 3 tepsiyi ifade etmektedir.)

Bir züccaciye de anneler günü için hafta içi satılan tepsiilerin grafiği yukarıdaki gibidir.

1- Hafta içi kaç adet tepsi satılmıştır?

- A.13 B.39 C. 45

2- En fazla tepsi satışı kaçınıcı gün olmuştur?

- A.3. gün B. 4. gün C. 4. gün

3-

3,6,4

Yukarıdaki rakamlar birer kez kullanılarak oluşturulacak üç basamaklı en büyük sayı ile en küçük doğal sayının toplamı kaçtır?

- A. 989
B. 827
C. 899

4-

$$517-375= \square$$

$$\square + \square = 342$$

ise \square yerine kaç yazılmalıdır?

- A. 100
B. 200
C. 142

5- Kalanlı bir bölme işleminde bölen 7, bölüm 13 ise bölünen sayı en fazla kaç olur?

- A. 91
B. 92
C. 97

6-Melek kırtasiyeden yeni aldığı öykü kitabını 17.10'da okumaya başlıyor ve 18.25'de bitiriyor. Buna göre Melek okuduğu kitabı ne kadar sürede bitirmiştir?

- A. 1 saat 35 dakika
B. 1 saat 15 dakika
C. 55 dakika



7- 3 paket şeker 12 kilogram geliyorsa 5 paket şeker kaç kilogram gelir?

- A. 20
- B. 15
- C. 17

8- Bir terzi, takım elbisenin pantolonunu 2 m 15 cm, ceketini ise 3 m 40 cm kumaş kullanarak dikmiştir. Takım elbisenin yapımında kullanılan kumaş kaç santimetredir?

- A. 4 m 65 cm
- B. 5m 70 cm
- C. 5m 55cm

9- Yüzlük basamağı 3 olan üç basamaklı en büyük çift sayının 125 fazlası kaçtır?

- A. 398
- B. 523
- C. 573



10- Yukarıdaki şeklin simetrisi aşağıdaki hangi seçenekte doğru verilmiştir?

A.



B.



C.



/ilkokulevim



/ilkokulevim



/ilkokulevim



/ilkokulevim



Bu test 10 sorudan oluşmaktadır.



1-Dünya'nın yuvarlak olduğunu ilk olarak kanıtlayan deniz kaşif kimdir?

- A.Macellan
- B.Aristo
- C.Kristof Kolomb

Onur,"Annemin iftar için hazırladığı yemeklerin kokusu odama kadar geliyor." dedi



2-Yukarıdaki cümlede Onur hangi duyu organını kullanmıştır?

- A. 
- B. 
- C. 



3-Kulak sağlığımıza dikkat etmeliyiz.

Aşağıdakilerden hangisi kulak sağlığımız için zararlıdır?







- A.Gürültülü ortamlardan uzak durmalıyız.
- B.Sert ve sivri cisimlerle kulağımızı temizlemeliyiz.
- C.Havuzda yüzerken kulağımıza su kaçırmamalıyız.

4-Sesin kaynağına yaklaşırsak sesin şiddeti,  ses kaynağından uzaklaşırsak sesin şiddeti .

Boş bırakılan sembollerin yeri hangi sözcükte tamamlanmalıdır?

-  
- A.artar - azalır
- B.artar - değişmez
- C.azalır - artar

5-Aşağıdaki eşleştirmelerden hangisi doğrudur?


- A.   Kırılğan madde
- B.   Sert madde
- C.   Esnek madde



Güneş - doğal ışık kaynağı
Mum - yapay ışık kaynağı
Ampul - doğal ışık kaynağı
Şimşek - doğal ışık kaynağı

6-Ayşe'nin yukarıda yapmış olduğu ışık kaynağı eşlemelerinden kaç tanesi doğrudur?

- A.1 B.2 C.3



7-Yukarıdaki canlıların yaşam alanı hangi şıkta doğru verilmiştir?

- A.kutup
B.çöl
C.orman

8-Aşağıdaki katı maddelerle ilgili verilen bilgilerden hangisi yanlıştır?

- A. Katı maddeler içinde buldukları kabın şeklini almaz.
B. Katı maddelerin belirli bir ağırlığı vardır.
C. Katı maddelerin belirli bir şekli yoktur.

- I. Her sesin bir şiddeti vardır.
- II. Çok şiddetli sesler gürültüye neden olur.
- III. İnsanlar bütün sesleri duyar.

9-Yukarıdaki bilgilerden hangileri doğrudur?

- A.I - II B.II - III C.I - III

10- "Tabak" için aşağıda verilen madde özelliklerinden hangisi doğrudur?

- A.esnek
B.kırılgan
C.kokulu



Bu test 10 sorudan oluşmaktadır.

Atatürk, hem komutan hem devlet adamı hem de yenilikçi yönleri olan bir liderdir.

1- Bu durum Atatürk'ün hangi kişilik özelliğiyle ilgilidir?

- A) Açık sözlü olması
- B) Çocukları sevmesi
- C) Çok yönlü olması

Ali



Göç eden kişilerin çocukları da okula gitmelidir.

Mert



Göç eden kişiler ülkemiz hastanelerinde tedavi göremezler.

Salih



Göç eden kişiler ülkemizin kanunlarına uyma zorunlulukları vardır.

2- Yabancı ülkelere göç eden insanlarla ilgili verilen bilgilerden hangi çocuklar doğru bilgi vermiştir?

- A. Ali ve Mert
- B. Mert ve Salih
- C. Ali ve Salih



Mevlana Konya'da yaşayan, farklı düşünenlere saygı duymamız gerektiğini söyleyen bilge bir insandı.

3- Aşağıdakilerde hangisi Mevlana'nın düşüncelerinden biri olabilir?

- A. Farklılıklar doğaldır.
- B. Sadece kendimizi düşünürsek mutlu olabiliriz.
- C. Sadece zengin insanların düşüncesine saygı duymalıyız.

4- Aşağıdakilerden hangisi kendimize karşı olan sorumluluklarımızdan biridir?

- A. Ormanları korumak
- B. Vergi vermek
- C. Bilgimizi arttırmak

1 Ankara

2 İstanbul

3 Kadıköy

5- Yukarıdaki şehirlerden hangilerini vali yönetir?

- A. 1 ve 2
- B. 2 ve 3
- C. 1 ve 3



6- Yukarıdakilerden hangisi veya hangileri ortak kullanım alanıdır?

- A. ◆ ve ★
B. ★ ve ◆
C. ◆, ★ ve ◆

7- Aşağıdakilerden hangisi doğal bir turistik yerdir?



Paramızı gereksiz yere harcamamalıyız.

Recep

8- Recep için aşağıdakilerden hangisini söyleyebiliriz?

- A. Cimri
B. Tutumlu
C. Yardımsever

9- Aşağıdakilerden hangisi ulaşım hizmeti verir?

- A. Hemşire
B. Marangoz
C. Pilot



Bisikletime kimsenin binmesine izin vermem.

Alp Arda

10- Alp Arda için aşağıdakilerden hangisini söyleyebiliriz?

- A. Cömert
B. Paylaşımçı
C. Kıskanç



/ilkokulevim



/ilkokulevim



/ilkokulevim



/ilkokulevim



Bu test 5 sorudan oluşmaktadır.



Emre: Is it rainy?
Arda: No. It's

1- Boşluğa hangi kelime gelmelidir?

- A. snowy
- B. sunny
- C. windy



2- Boşluğa hangi kelime gelmelidir?

- A. small
- B. big
- C. huge



3- Ali can go to İstanbul by

- A) train
- B) bus
- C) plane



There are two cars in the

4- Yukarıdaki görsel için hangi cümle doğru olur?

- A. kitchen
- B. garage
- C. bedroom



This is number

5- Boşluğa gelmesi gereken kelime nedir?

- A) fifteen
- B) thirteen
- C) fourteen



/ilkokulevim



/ilkokulevim



/ilkokulevim



/ilkokulevim

Sevgili ÖĞRETMEN ve VELİLERİMİZ;
Deneme Sınavına Teşekkür Mahiyetinde
Sosyal Medya Sayfamızı Beğenirseniz
Çok Mutlu Oluruz.

Aşağıdaki Linklerden Bizlere Ulaşabilirsiniz.

www.ilkokulevim.com

www.instagram.com/ilkokulevim

www.facebook.com/ilkokulevim

www.facebook.com/groups/272489210266407/

t.me/ilkokulevim

08/05/2020 KDS CEVAP ANAHTARI

TÜRKÇE	MATEMATİK	FEN BİLİMLERİ	HAYAT BİLGİSİ	İNGİLİZCE
1-B	1-B	1-A	1-C	1-B
2-C	2-A	2-B	2-C	2-A
3-A	3-A	3-B	3-A	3-C
4-C	4-B	4-A	4-C	4-B
5-B	5-C	5-A	5-A	5-C
6-A	6-B	6-C	6-C	
7-A	7-A	7-B	7-C	
8-C	8-C	8-C	8-B	
9-A	9-B	9-A	9-C	
10-B	10-C	10-B	10-C	