



1. AŐağıdaki özelliklerden hangisinin arkadaşımızda bulunması istemeyiz?

- A. Adil
- B. Sabırlı
- C. Somurtkan






Benim adım Erva. Üçüncü sınıfa gidiyorum. Boyum çok uzun değil. Saçlarım kahverengi gözlerim siyah. Müzik dinlemeyi ve resim yapmayı çok severim.

2. AŐağıdaki özelliklerden hangisi Erva için söylenebilir?

- A. İkinci sınıfa gitmektedir.
- B. Resim yapmayı ve müzik dinlemeyi sevmektedir.
- C. Uzun boyludur.

3. AŐağıdaki öğrencilerden hangisi verilenlerden hangisi istek ve ihtiyaçlarımızı demokratik şekilde ifade etmeye örnek vermiştir?

- A.  İsteğimizin olması için öğretmenimizi zorlamalıyız.
- B.  İsteklerimiz için okulun dilek kutusunu kullanabiliriz.
- C.  İsteğimizin yapılmadığı durumlarda okul idaresini Őikayet etmeliyiz.

4. AŐağıdakilerden hangisi bize katkı sağlamaz?

- A. Güçlü ve zayıf yönlerimizi bilmek.
- B. İlgi ve yeteneklerimizin farkında olmak.
- C. Günlendirilmesi gereken yönlerimizi saklamak.





5. Aşağıdakilerden hangisi arkadaşlık ilişkilerimizi olumsuz etkiler?

- A. Düşük not alanca gülmek.
- B. İsteklerimizin yapılmaması için ısrar etmemek.
- C. Çantası düşen arkadaşımıza yardım etmek.

Ceren izi almadan Hacer'in eşyasını alıp kullanmıştır.

6. Bu Durumda Hacer ne yapmalıdır?

- A. Öfkeyle bağırmalıdır.
- B. Ona küsmeli konuşmamalıdır.
- C. Bir daha yapmaması için uyarmalıdır.

7. Hangi görseldeki davranış hem bizi hem de arkadaşımızı mutlu eder?



8. Aşağıdaki hangi çocukla arkadaşlık yapmak istemeyiz?

- A. Her koşulda doğuyu söylerim.
- B. Kendi haklarım her zaman önceliklidir.
- C. Bana yapılan iyilikleri hiçbir zaman unutmam.





9. Aşağıdakilerden hangisi sosyal dayanışma ve yardımlaşmaya örnek değildir?

- A. Köy okullarına ihtiyacı olan okul malzemelerinin temin edilip yollanması.
- B. Milli Eğitim Bakanlığının yeni okul açması.
- C. Öğrencilerin deprem bölgesindeki çocuklara oyuncak yollaması.

Bizden farklı düşünen arkadaşlarımıza davranmalıyız.

10. Yukarıdaki cümlede noktalı yere hangisi gelmelidir?

- A. samimiyetsiz
- B. hoşgörülü
- C. şüpheli



Buse



Naz

Buse, sen gerçekten de resim konusunda çok yeteneklisin. Ben de senin gibi resimler yapabilmeyi isterdim.

11. Buna göre;

- 1. Naz Buse'yi takdir etmektedir.
- 2. Resim Buse'nin tek ilgi alanıdır.
- 3. Naz resim dışında her konuda yeteneklidir.




İfadelerinden hangisi doğrudur?

- A. 1
- B. 1 ve 2
- C. 1, 2 ve 3



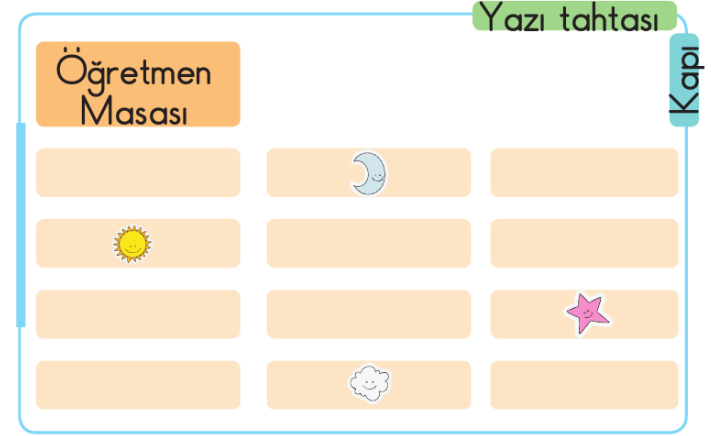


12. Aşağıdaki öğrencilerden hangisi yanlış davranmıştır?




- A.  Haksız olan kimse söylerim.
- B.  En adil kişiye sınıf başkanlığı seçiminde oy verdim.
- C.  Filiz iyi basketbol oynamıyor ancak en iyi arkadaşım olduğu için takıma seçilmesini istiyorum.

13. Kroki ile ilgili aşağıdaki bilgilerden hangisi yanlıştır?

- A. Kuş bakışı görünüm ile çizilir.
- B. Sadece evlerin krokisi çizilir.
- C. Çizimlerde cetvel kullanabiliriz.



14. Mert kapı tarafında üçüncü sırada oturduğuna göre hangi sembol Mert'in oturduğu sırayı gösterir?

- A. 
- B. 
- C. 





15. Aşağıdakilerden hangisi okulun bize kazandırdıklarından değildir?

- A. Yeni bilgiler edinme
- B. Güçlükler karşısında pes etme
- C. Sorun çözme yeteneği

16. Sınıfla ilgili konularda öğrenciler de karar almaya katılmalıdır. Buna göre aşağıdakilerden hangisi bu konulardan değildir?

- A. Ders programının hazırlanması
- B. Panoların hazırlanması
- C. Sınıf kurallarının belirlenmesi

1 Paylaşım

2 Sorumluluk almama

3 Adaletsizlik

17. Yukarıdakilerden hangisi veya hangileri okul dışı ve okul içi çalışmalarda olmamalıdır?

A. 1 - 2




B. 2 - 3

C. 1 - 3





18. Aşağıdaki çocuklardan hangisinin farklılıklara saygı gösterdiğini söyleyebiliriz ?

- A.  Basketbol oynamayan biriyle arkadaşlık yapmam.
- B.  Ayşe güzel resim yapıyor olabilir ancak boyu kısa, basketbol oynayamaz.
- C.  Serra'nın yazdığı hikayeyi çok beğendim.

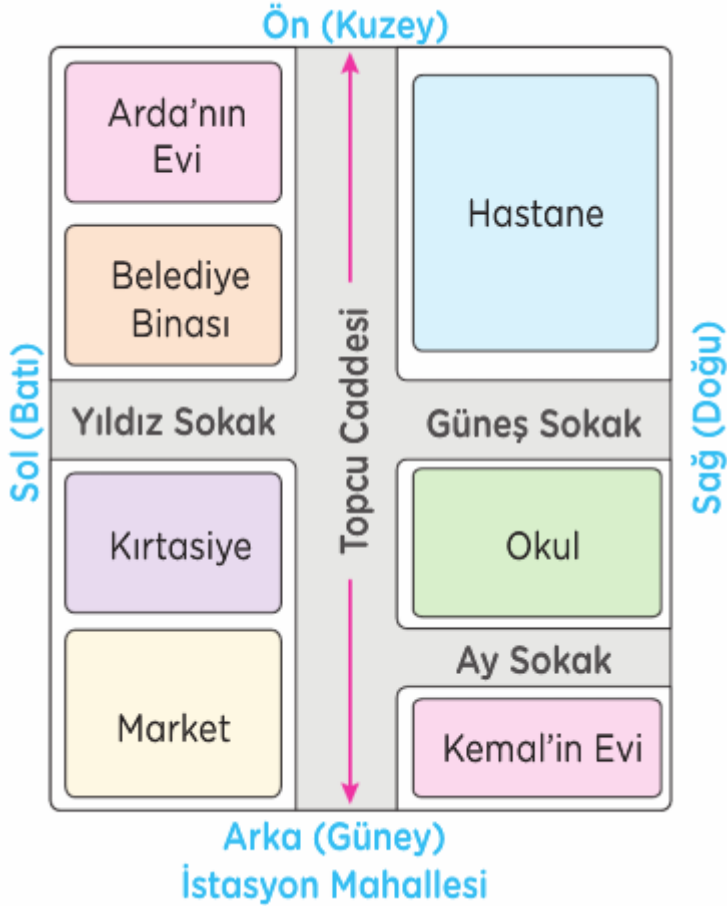


Melike arkadaş seçerken dikkat ettiği özellikleri sıralamaktadır.

19. Buna göre aşağıdakilerden hangisini yeşil balona yazamaz?

- A. Çalışkan
- B. Alaycı
- C. Dürüst





- Hastane Topcu Caddesi'nin sağındadır.
 - Kirtasiye ile Belediye binası arasında Yıldız Sokak vardır.
 - ★ Market Kemal'in evinin solundadır.
20. Yukarıdaki verilen bilgilerden hangisi veya hangileri doğrudur?

- A. ● ■ ★
- B. ■ ★
- C. ● ★



İLKOKULA DAİR HER ŞEY BU SİTEDE

1. Sınıf



3. Sınıf

2. Sınıf

4. Sınıf

- * Konu Anlatımları
- * Konu Özetleri
- * Etkinlikler
- * Çalışma Kağıtları
- * Tarama Sınavları
- * Deneme Sınavları

- * Masal Köşesi
- * Hikaye Köşesi
- * Oyun Köşesi
- * Kitap Köşesi
- * Film Köşesi

HAYAT BİLGİSİ TARAMA SINAVI I

- | | |
|------|------|
| 1 C | 11 A |
| 2 B | 12 C |
| 3 B | 13 B |
| 4 C | 14 B |
| 5 A | 15 B |
| 6 C | 16 A |
| 7 C | 17 B |
| 8 B | 18 C |
| 9 B | 19 B |
| 10 B | 20 A |

Sevgili ÖĞRETMEN ve VELİLERİMİZ;
Deneme Sınavına Teşekkür Mahiyetinde
Sosyal Medya Hesaplarımızı Beğenirseniz Çok
Mutlu Oluruz.

Aşağıdaki Linklerden Bizlere Ulaşabilirsiniz.

www.ilkokulevim.com

www.instagram.com/ilkokulevim

www.facebook.com/ilkokulevim

www.facebook.com/groups/272489210266407/

t.me/ilkokulevim

