

3. SINIF

KAZANIM DEĞERLENDİRME SINAVI

Yayın Tarihi: 03 Kasım 2020

TÜRKÇE

MATEMATİK

HAYAT BİLGİSİ

FEN BİLİMLERİ

İNGİLİZCE



A B C

1 2 3

www.ilkokulevim.com



TÜRKÇE TESTİ

Çevremize bakacak olursak kuşlar, çiçekler, balıklar ve bitkiler gibi birçok canlılar görürüz. Bunlar doğanın bir parçasıdır. Bütün canlılar doğar, beslenir, gelişir, büyür ve ölürlür. İnsanlar, hayvanlar ve bitkiler arasında doğada korunan bir denge bulunmaktadır. Baharla birlikte gelişen ve çoğalan bitkiler, havaların soğuması ile kurumaya başlarlar. Böylece bitkilerin çoğalması, iklim koşulları bakımından doğanın denetimi altındadır.

1-2-3. Soruları metne göre cevaplayınız.

1- İnsanlar, hayvanlar ve bitkiler arasında aşağıdakilerden hangisi bulunmaktadır?

- A. Doğa tarafından korunan bir denge
- B. İnsanlar tarafından konulan kurallar
- C. Bitki ve hayvanların insanları kontrol etmesi

2- İklim koşulları bakımından doğanın sürekli denetimi altında olan nedir?

- A. Hayvanların beslenmesi
- B. İnsanların korunması
- C. Bitkilerin çoğalması

3- Metnin ana düşüncesi nedir?


- A. İklimin canlılar üzerindeki etkisi
- B. Doğadaki canlıların çeşitliliği ve birbirleriyle ilişkisi
- C. Canlıların çoğalması

22	1	9	15	11	14

4- Yukarıda alfabemizdeki harflerin sırasından yararlanarak bir şifre oluşturulmuştur. Oluşan şifre aşağıdakilerden hangisidir?

- A. sözlük
- B. salgın
- C. sağlık

5- Aşağıdaki hangi görsel hayal gücüyle ilgili değildir?



TÜRKÇE TESTİ

6- Gerçek olmayan olay ve kahramanlarla oluşturulan anlatıma denir

Yukarıdaki noktalı yer aşağıdaki kelimelerden hangisi ile doldurulmalıdır?

- A. şiir
- B. masal
- C. kurgu

Kayra, öğretmeniyle piknik alanında karşılaşınca çok şaşırdı.

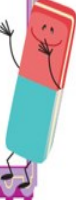
7- Yukarıdaki cümlede aşağıdaki soruların hangisinin cevabı yoktur?

- A. kim?
- B. ne zaman?
- C. nerede?

8- "Ağır" sözcüğü aşağıdaki cümlelerin hangisinde farklı bir anlamda kullanılmıştır?

- A. Babam ağır yük taşıırken belini incitti.
- B. Bu bidonlar baya ağırmış.
- C. Arda'nın ağır konuşmaları beni çok üzdü.

- ▲ O kadar çok yoruldu ki dinçleşti.
- ★ Oyuncakların hepsini yatmadan önce toplayıp kutuya koydu
- Söylenenleri dinleyerek hepsini not aldı.



9- Yukarıda hangi cümlede anlatımı bozan bir kelime kullanılmıştır.

- A. ▲
- B. ★
- C. ■

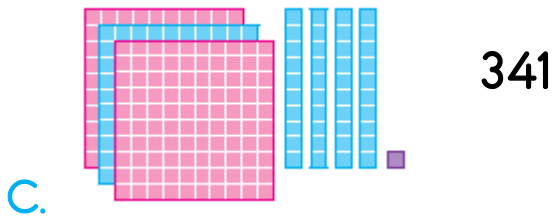
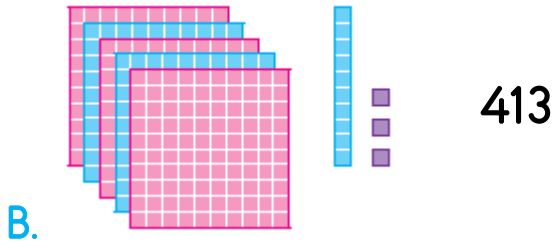
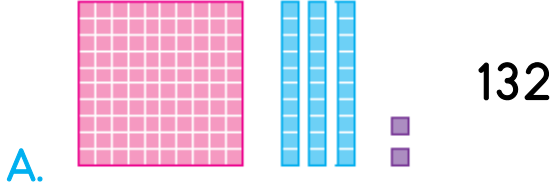
10- Aşağıdaki kelimelerden hangisi "imla" sözcüğünün eş anlamlısıdır?

- A. Kılavuz
- B. Yazım
- C. Eş sesli



MATEMATİK TESTİ

1- Aşağıda sayılardan hangisi onluk taban bloklarıyla yanlış gösterilmiştir ?



2-

678	786	687	768
I	A	K	T

Yukarıdaki sayılar büyükten küçüğe doğru sıralanırsa harfler ile hangi kelime şifrelenir?

A. AKTI

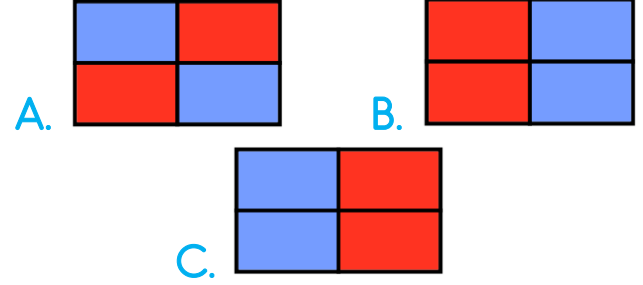
B. TAKI

C. ATKI


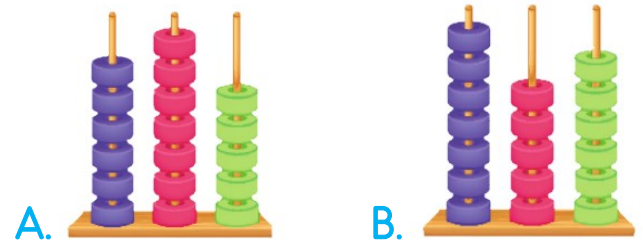
405	424
416	414

Yukarıdaki tabloda onluğa yuvarlandığında aynı olan sayıların kutusu aynı renge boyanacaktır.

3- Buna göre oluşan görüntü aşağıdakilerden hangisi olabilir?



4- Aşağıda abakütle modellenen sayılardan hangisinin onlar basamağındaki rakamın basamak değeri 60'tır?



MATEMATİK TESTİ

Sayı	T	Ç
143		
718		
907		
860		

5- Yukarıdaki toplarda sayılar "tek" ve "çift" olma durumlarına göre doldurulursa oluşacak tablo aşağıdakilerden hangisidir?

A.

T	Ç
	✓
✓	
	✓
✓	

B.


T	Ç
✓	
	✓
✓	
	✓


C.


T	Ç
	✓
✓	
✓	
	✓

15

6- Yukarıdaki sayıya ulaşmak için aşağıdaki hangi seçenekten bir adet kibrit çöpü çıkarmamız yeterlidir?

A. 

B. 

C. 

145+387

255+277


214+308


254+278


193+437

349+281

7- Yukarıdaki renkli kutularda bulunan toplama işlemlerinden sonucu aynı olanlar eşleştirilirse hangi renkteki kutular dışarıda kalır?

A. 

B. 

C. 

8- Aşağıdakilerden hangisi doğrudur?

- A. Üç basamaklı en büyük çift sayıdan iki basamaklı en büyük tek sayı toplanırsa sonuç çift olur.
- B. Üç basamaklı en küçük sayıya 28 eklersek sonuç tek olur.
- C. Üç basamaklı en küçük tek sayı ile iki basamaklı en küçük tek sayının toplamı çifttir.



MATEMATİK TESTİ

7	11	15	●	23	27	31
48	43	38	33	28	▲	18
51	57	■	69	75	81	87

9- Yukarıda tablodaki örüntülere göre yerlerine yazılması gereken sayılar aşağıdaki hangi seçenekte doğru verilmiştir?

- | | | | |
|----|----|----|----|
| | ● | ▲ | ■ |
| A. | 18 | 23 | 63 |
| B. | 19 | 23 | 63 |
| C. | 19 | 22 | 62 |

10-

$$154 + 707 < A$$

Yukarıdaki ifadeye göre A yerine yazılabilecek en küçük doğal sayı kaçtır?

- A. 860
- B. 861
- C. 862



FEN BİLİMLERİ TESTİ



1- Yukarıdaki “?” yerine gelmesi gereken aşağıdakilerden hangisidir?

- A. Ağır küre
- B. Hava tabakası
- C. Yer kabuğu

Göz	•	•	İşitme
Deri	•	•	Görme
Kulak	•	•	Tatma
Dil	•	•	Dokunma

2- Yukarıdaki duyu organlarını görevleri ile eşleştirdiğimizde oluşan şekil aşağıdakilerden hangisidir?

A.

B.

C.

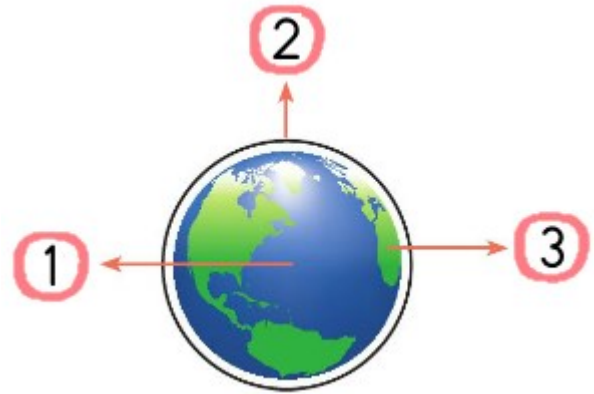
★ Mısırlılara göre ise Dünya, uzunca bir kutu, gökyüzü de o kutunun kapağıydı.

▲ Eski Hintliler ise Dünya'nın dört filin sırtında duran büyük bir daire biçiminde olduğuna inanıyorlardı.

■ Çinlilere göre Dünya'yı düz bir tepsi gibi ya da öküzün boynuzları üzerinde duran bir nesneydi.

3- Dünya'nın şekliyle ilgili verilen bilgi ve topluluklardan hangisi yanlıştır?

- A. ★
- B. ▲
- C. ■



4- Yukarıda verilen numaralı yerlere Dünya'nın hangi katmanları yazılmalıdır?

	1	2	3
A.	Hava	Su	Kara
B.	Su	Kara	Hava
C.	Su	Hava	Kara

FEN BİLİMLERİ TESTİ



Nehir tabağındaki yemekten bir kaşık alarak tuzluğa uzandı.

5- Yukarıdaki bilgiye göre Nehir hangi duyu organlarını kullanmıştır?

- A. Göz-dil-deri
- B. Dil-kulak-deri
- C. Deri-burun-göz

6- Aşağıda Dünya'nın şeklini ispat etmek için söylenenlerden hangisi yanlıştır?

- A. Bulutların gökyüzünde ilerlemesi
- B. Ufukta gökyüzü ve yerin birleşiyormuş gibi görünmesi
- C. Uzaklaşan bir geminin önce gövdesinin sonra bacasının kaybolması

Yağmur, kar, rüzgar gibi olayların gerçekleştiği katmandır. Dünya'nın çevresini sararak Güneş'ten gelen zararlı ışınların Dünya'ya ulaşmasını engeller.

7- Yukarıda açıklaması yapılan Dünya'nın katmanı aşağıdakilerden hangisidir?

- A. Hava Katmanı
- B. Su Katmanı
- C. Kara Katmanı

8- Aşağıdakilerden hangisi kulak sağlığımızı korumak için yapılması gerekenlerden biri değildir?

- A. Kulağımızı kalem , kürdan vb. şeylerle temizlememek
- B. Gürültülü ortamlarda uzun süre kalmamak
- C. Kulaklığı uzun süre kulağımızda tutmak



FEN BİLİMLERİ TESTİ



Ay ve Güneş yuvarlak olduğuna göre Dünya da yuvarlaktır.



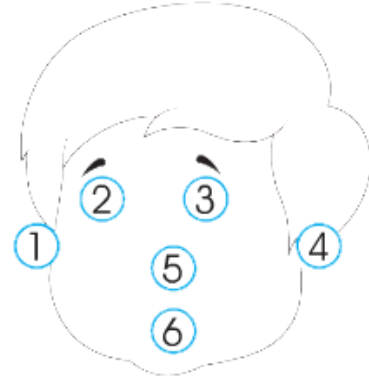
Dünya yuvarlak olduğu için yüzeyinde sular karalardan daha çok yer kaplar.



Dünya yuvarlak olduğu için ufukta gökyüzü ve yer yüzü birleşiyormuş gibi görünür.

9- Yukarıdaki öğrencilerin verdiği bilgilerden kaç tanesi doğrudur?

- A. 1
- B. 2
- C. 3



Erhan duyu organlarını şekildeki gibi numaralandırmıştır.

10- Buna göre aşağıdakilerden hangisi yanlıştır?

- A. Öğretmenimizin sesini 1 ve 4 numaralı duyu organımız ile işitiriz.
- B. Televizyonu 2 ve 3 numaralı duyu organımızla izleriz.
- C. Yemeğin kokusunu 5 ve 6 numaralı duyu organlarımızla alırız.



/ilkokulevim



/ilkokulevim




/ilkokulevim




/ilkokulevim



HAYAT BİLGİSİ TESTİ


Arda  Zor durumda bulunan arkadaşlarıma yardım ederim.

Melike  Konuyu anlamayan arkadaşlarıma yardımcı olurum.

Kaan  Konuşmalarım kaba ve serttir.

1- Yukarıdaki çocuklardan hangisinin davranışı arkadaşına karşı olumsuzdur?

- A. Arda
- B. Melike
- C. Kaan

 1-Bir yerin çizimine kroki denir.

 2-Kroki ve kabataslak çizimdir.

2- Yukarıdaki boşluklara gelmesi gereken kelimeler aşağıdaki hangi seçenekte doğru verilmiştir?

- | | |
|--------------|---------|
| 1 | 2 |
| A. kuşbakışı | plansız |
| B. ölçekli | kabaca |
| C. kuşbakışı | planlı |

Sınıf başkanlığı seçimi yapılacak olan 3/A sınıfında başkan adaylarının bazı özellikleri şu şekildedir:

Merve: Çok güzel keman çalar ve şarkı söyler.

Alper: Güzel ve etkili konuşur. İletişimi güçlüdür. Ayrıca ikna kabiliyeti yüksektir.

Şermin: Çok iyi resim yapmaktadır. Resim konusunda sınıftaki herkes ona hayrandır.

3- Yukarıda verilen bilgilere göre hangi öğrencinin sınıf başkanı seçilmesi uygundur?

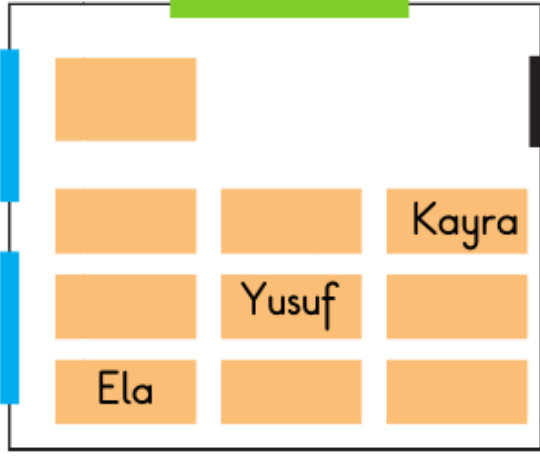
- A. Merve
- B. Alper
- C. Şermin

Dostluk	Sevgi
Arkadaşlık	Saygı
Bencillik	Bilgi
Sorumsuzluk	Doğruluk

4- Yukarıda verilenlerden kaç tanesi okulun bize kazandırdığı davranışlardan değildir?

- A. 2
- B. 4
- C. 6

HAYAT BİLGİSİ TESTİ



- 5- Yukarıda sınıf krokisine göre verilen bilgilerden hangisi yanlıştır?
- A. Yusuf tam sınıf tahtasının karşısındaki 2. sırada oturmaktadır.
- B. Kayra öğretmen masasına en uzak sırada oturmaktadır.
- C. Ela sınıf kapısına en uzak sırada oturmaktadır.

★ İnsanlarla sosyalleşmek güçlü yönlerimizi artırır.

▲ İnsanların güçlü olduğu yönler vardır.

■ İnsanların zayıf yönleri yoktur.

- 6- Yukarıdaki ifadelerden kaç tanesi doğrudur?

- A. 1
- B. 2
- C. 3

Ben büyüdüğümde olmak istiyorum. Çünkü insanların sağlığı benim için çok önemli. Ayrıca bazı maddeleri karıştırarak ilaç hazırlamak eğlenceli olabilir. Hazır ilaçları satmak ya da ilaç hazırlamak için bu mesleği seçmek istiyorum.

- 7- Yukarıdaki ifadeleri kullanan bir öğrenci hangi mesleği seçmek istemektedir?

- A. Doktor
- B. Hemşire
- C. Eczacı

03/11/2020

Okulumuzda açılacak olan basketbol kursuna katılmak istiyorum.

Gereğinin yapılmasını arz ederim.


Melisa UÇAR
3/H Sınıfı

- 8- Yukarıdaki dilekçede Melisa aşağıdakilerden hangisini yazmayı unutmuştur?

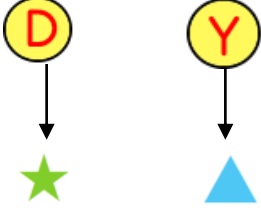
- A. Dilekçenin yazılma amacını
- B. Dilekçe verilen kurumun adını
- C. Dilekçe tarihini

HAYAT BİLGİSİ TESTİ

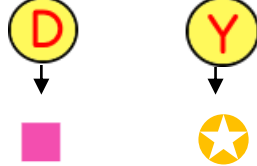
Arkadaşlarımıza karşı bencil davranışlarda bulunursak arkadaşlığımız daha da güçlenir.



Arkadaşımı üzmem beni de üzer.



Arkadaşımın düşünceli olmasını isterim.



9- İlk verilen bilginin doğru ya da yanlış olduğuna karar vererek çıktığınız yolun sonunda yukarıdakilerden hangi işarete ulaşırsınız?

- A. ▲
B. ■
C. ★

Mert yeni taşındığı mahallesinde üç çocukla apartmanlarının bahçesinde karşılaşmış ve çocukları şu şekilde gözlemlemiştir.

Harun: Hırçın ve kavgacı.

Büşra: Cana yakın ve samimi.

Efe: Hareketli yaramaz ama kötü niyetli değil.

10- Mert yukarıda özellikleri verilen çocuklardan hangisi ile arkadaşlık ederse zarar görebilir?

A. Harun

B. Büşra

C. Efe



/ilkokulevim



/ilkokulevim



/ilkokulevim



/ilkokulevim

İNGİLİZCE TESTİ



1- Konuşmada boş bırakılan yere ne gelmelidir?

- A. How old are you?
- B. What's your name?
- C. How are you?



2- Boşluğa ne yazılması uygun olur?

- A. Good night.
- B. Good morning.
- C. Good afternoon.



Can you
your name?

F-A-T-İ-H



3- Boşluğa hangi kelime gelmelidir?

- A. spin
- B. spell
- C. ask



4- Yukarıdaki işlemin sonucu kaçtır?

- A. sixteen
- B. seventeen
- C. eighteen



I a student

5- Boşluğa gelmesi gereken kelime nedir?

- A. is
- B. are
- C. am

İLKOKULA DAİR HER ŞEY BU SİTEDE

1. Sınıf



3. Sınıf

2. Sınıf

4. Sınıf

- * Konu Anlatımları
- * Konu Özetleri
- * Etkinlikler
- * Çalışma Kağıtları
- * Tarama Sınavları
- * Deneme Sınavları

- * Masal Köşesi
- * Hikaye Köşesi
- * Oyun Köşesi
- * Kitap Köşesi
- * Film Köşesi

Sevgili ÖĞRETMEN ve VELİLERİMİZ;
Deneme Sınavına Teşekkür Mahiyetinde
Sosyal Medya Sayfamızı Beğenirseniz
Çok Mutlu Oluruz.

Aşağıdaki Linklerden Bizlere Ulaşabilirsiniz.

www.ilkokulevim.com

www.instagram.com/ilkokulevim

www.facebook.com/ilkokulevim

www.facebook.com/groups/272489210266407/

t.me/ilkokulevim

03/11/2020 KDS CEVAP ANAHTARI

TÜRKÇE	MATEMATİK	FEN BİLİMLERİ	HAYAT BİLGİSİ	İNGİLİZCE
1-A	1-B	1-C	1-C	1-C
2-C	2-C	2-B	2-C	2-A
3-B	3-A	3-C	3-B	3-B
4-C	4-C	4-C	4-A	4-B
5-C	5-B	5-A	5-B	5-C
6-B	6-C	6-A	6-B	
7-B	7-A	7-A	7-C	
8-C	8-C	8-C	8-B	
9-A	9-B	9-A	9-B	
10-B	10-C	10-C	10-A	