

I.SINIFTAN 2.SINIFA GEÇENLERE

KAZANIM DEĞERLENDİRME SINAVI

TÜRKÇE  
MATEMATİK  
HAYAT BİLGİSİ



A B C

1 2 3

[www.ilkokulevim.com](http://www.ilkokulevim.com)

## TÜRKÇE TESTİ

## KAYRA

Kayra kitap okumayı çok seviyordu. Sınıfındaki ve evdeki tüm kitapları okumuştur. Aldığı kitapları bitirir bitirmez ilk işi annesinden kitap almasını istemektir. Yeni bilgiler öğrenmek, Kayra'yı çok mutlu ediyordu. Çevresindeki kişilere kitap okumaları gerektiğini anlatıyordu.




- 1- Kayra ne yapmayı çok sevmektedir?
  - A) Oyun oynamayı
  - B) Kitap okumayı
  - C) Televizyon izlemeyi
  
- 2- Kitap okurken Kayra'yı mutlu eden şey nedir?
  - A) Yeni bilgiler öğrenmek
  - B) Yeni oyunlar öğrenmek
  - C) Yeni kelimeler öğrenmek

Akşam ablamla teyzelere gideceğiz.

- 3- Yukarıdaki cümlede hangi sorunun cevabı yoktur?
  - A) Nereye?
  - B) Ne zaman?
  - C) Nasıl?

## TÜRKÇE TESTİ

4- Aşağıdaki görselleri alfabetik sıraya göre sıralarsak en baştaki görsel hangisi olur?




Çok sıcak bir yaz günüydü. Evin balkonuna çıktım. Bahçede oynayan çocukları izlerken dalmış gitmişim.

5- Altı çizili sözcüklerden kaç tanesinin zıt anlamlısı vardır?

A) 2

B) 3

C) 4



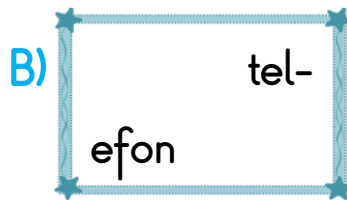
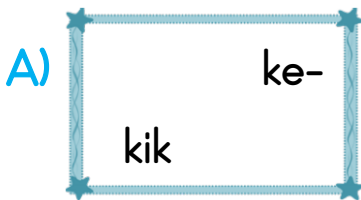
6- Yukarıdaki sözcüklerle kurulan anlamlı ve kurallı cümle hangisidir?

A) Diktiğimiz bahçeye büyüdü sebzeler.

B) Diktiğimiz sebzeler bahçeye büyüdü.

C) Bahçeye diktiğimiz sebzeler büyüdü.

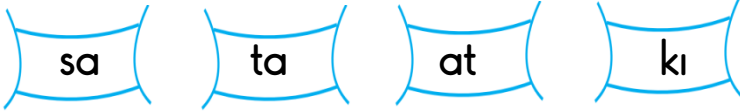

7- Satır sonuna sığmayan kelimelerden hangisinde yanlışlık yapılmıştır?



## TÜRKÇE TESTİ

Özgür öğretmen, öğrencilerinden bir etkinlik hazırlamalarını istedi. Etkinliğin konusu etle beslenen hayvanlardı.

8- Öğrenciler aşağıdaki etkinliklerden hangisini yapmış olabilir?



9- Yukarıdaki hecelerle hangi sözcük yazılamaz?

- A) takı B) saat C) askı

10- Aşağıdaki cümlelerden hangisinde virgül yanlış kullanılmıştır?

- A) Pazardan elma, kiraz ve muz aldık.  
B) Bugün sınıfa Ali, Arda ve Sila gelmedi.  
C) Dedem, ve babaannem yarın bize gelecekler.

TÜRKÇE TESTİ BİTMİŞTİR.



/ilkokulevim



/ilkokulevim



/ilkokulevim



/ilkokulevim

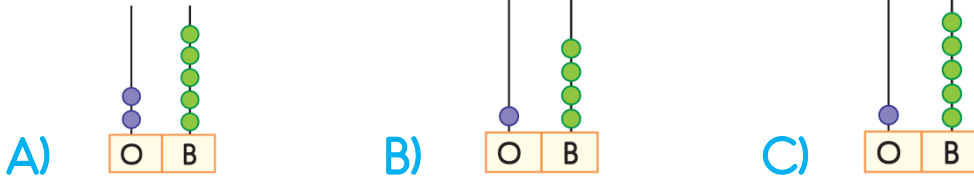


MATEMATİK TESTİ

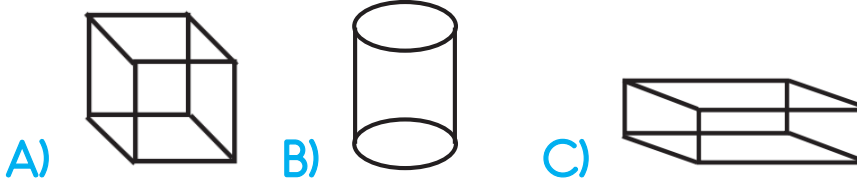


- 1- Yukarıdaki nesne için hangisi yanlıştır?
- A) Köşeleri vardır.
  - B) Şekli kullanarak dikdörtgen çizilebilir.
  - C) Şekli kullanarak yuvarlak çizilebilir.

- 2- 1 onluk 5 birlikten oluşan sayı aşağıdaki hangi seçenekte doğru gösterilmiştir?



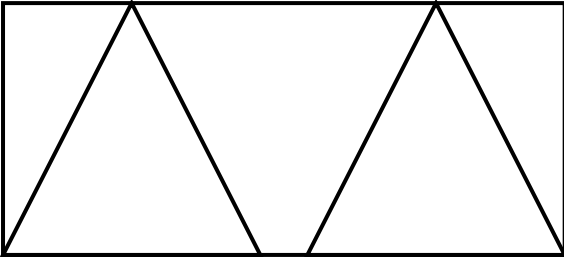
- 3- Yan taraftaki nesne aşağıdaki geometrik cisimlerden hangisine benzemektedir?



- 4- Bugün "Cuma" ise üç gün önce hangi gündü?
- A) Pazartesi
  - B) Salı
  - C) Çarşamba



## MATEMATİK TESTİ



5- Yukarıdaki şekilde aşağıdakilerden hangisi yoktur?

A) Üçgen

B) Çember

C) Dikdörtgen

Tavşan Pati büyük tarladan 9 havuç topluyor. Küçük tarladan da bir miktar havuç topluyor. Topladığı havuçları sayınca 17 havucu olduğunu fark ediyor.

6- Küçük tarladan Pati kaç havuç toplamıştır?

A) 6

B) 7

C) 8



Arda sepetindeki elmalara yandaki ağaçtaki elmalarıda eklerse 19 elması olacaktır.




7- Buna göre ağaçtan toplamadan Arda'nın önce kaç elması vardır?


A) 14

B) 15


C) 16



1



2



3

?

4

8- Yukarıdaki şekiller belli bir sıraya göre dizilmiştir. 4. şeklin boyalı hali hangisidir?







MATEMATİK TESTİ

9- Aşağıdaki eşitliklerden hangisi yanlıştır?

- A) 4 bütün 8 yarım eder.
- B) 6 yarım 3 bütün eder.
- C) 8 bütün 4 yarım eder.

Esmâ parka gidip salıncakta iki saat sallanıyor. Saat yedide eve dönüyor.

10- Esmâ saat kaçta parka gitmiştir?

- A) Dört
- B) Beş
- C) Altı



MATEMATİK TESTİ BİTMİŞTİR.



/ilkokulevim



/ilkokulevim



/ilkokulevim



/ilkokulevim



HAYAT BİLGİSİ TESTİ



Arkadaşlar 2 tane dini bayramımız bulunmaktadır.

Ataberk

- 1- Aşağıdakilerden hangisi Ataberk'in belirttiği bayramlardan biridir?
- A) Ulusal Egemenlik ve Çocuk Bayramı
  - B) Cumhuriyet Bayramı
  - C) Ramazan Bayramı

- 2- Yandaki görselde verilen köyün yöneticisi aşağıdakilerden hangisidir?

- A) Muhtar
- B) Kaymakam
- C) Vali



Büyükoba Köyü

- 3- Doğal güzellikleri olan bir yere gitmek isteyen Batu aşağıdaki yerlerden hangisine gitmelidir?







HAYAT BİLGİSİ TESTİ

4- Aşağıdakilerden hangisi bayramda yaşanan duygulardan biri değildir?

- A) Mutluluk
- B) Sevinç
- C) Öfke

5- Aşağıdakilerden hangisi insanların başka ülkelere göç etmesinin nedenlerinden biri değildir?

- A) İş nedeniyle göç etmesi
- B) Boş vakitlerini değerlendirmek için göç etmesi
- C) Eğitim nedeniyle göç etmesi

Eray



Meyve ve sebzeleri mevsiminde tüketmeliyiz.

Ersin



Ağaçtan kopardığımız elmayı yıkamadan yiyebiliriz.

Egemen



Kış mevsiminde atkı ve bere kullanmalıyız.

6- Yukarıdaki öğrencilerden hangisi yanlış bilgi vermiştir?

- A) Egemen
- B) Eray
- C) Ersin



HAYAT BİLGİSİ TESTİ



Sinem ve annesi birlikte yemek hazırlamaktadır.

7- Yemek hazırlarken Sinem'in aşağıdakilerden hangisini kullanması tehlikeli olur?



8- Aşağıdakilerden hangisi yukarıdaki kazanın sebeplerinden biri olamaz?

A) Uykusuzluk

B) Dikkatsizlik

C) Sabırlı olmak




9- Bir ailede aşağıdakilerden hangisinin olması yanlıştır?

A) kiskançlık

B) dayanışma

C) iş birliği

10- Aşağıdakilerden hangisi okulun bölümlerinden biri değildir?



HAYAT BİLGİSİ TESTİ BİTMİŞTİR.

Sevgili ÖĞRETMEN ve VELİLERİMİZ;  
Deneme Sınavına Teşekkür Mahiyetinde  
Sosyal Medya Sayfamızı Beğenirseniz  
Çok Mutlu Oluruz.

Aşağıdaki Linklerden Bizlere Ulaşabilirsiniz.

[www.ilkokulevim.com](http://www.ilkokulevim.com)

[www.instagram.com/ilkokulevim](http://www.instagram.com/ilkokulevim)

[www.facebook.com/ilkokulevim](http://www.facebook.com/ilkokulevim)

[www.facebook.com/groups/272489210266407/](http://www.facebook.com/groups/272489210266407/)

[t.me/ilkokulevim](https://t.me/ilkokulevim)

### CEVAP ANAHTARI

TÜRKÇE	MATEMATİK	HAYAT BİLGİSİ
1-B	1-C	1-C
2-A	2-C	2-A
3-C	3-B	3-C
4-C	4-B	4-C
5-A	5-B	5-B
6-C	6-C	6-C
7-B	7-A	7-B
8-A	8-B	8-C
9-C	9-C	9-A
10-C	10-B	10-C