

1 - Aşağıdakilerden hangisi trafikte **yanlış** bir davranıştır?

- A. Kaldırımın sağından yürümek
- B. Kaldırım olmayan yerlerde yolun solundan yürümek
- C. Bizim için ışık kırmızı yandığında karşıdan karşıya geçmek

2- Yangın çıktığında aşağıdaki numaralardan hangisini ararız?

- A. 110
- B. 155
- C. 11

3- Aşağıdakilerden hangisi sağlığımız için çalışanlardan biri **değildir**?

- A. Doktor
- B. Veteriner
- C. Hemşire

4- Atatürk'ün ilk gittiği okul hangisidir?

- A. Mahalle Mektebi
- B. Şemsi Efendi İlkokulu
- C. Selanik Askeri Rüştüyesi

- 🌸 Ramazan Bayramı
- 🌸 Zafer Bayramı
- 🌸 Ulusal Egemenlik ve Çocuk Bayramı

5- Yukarıda verilenlerden hangileri millî bayramlarımızdandır?

- A. 🌸 🌸
- B. 🌸 🌸
- C. 🌸 🌸

Kurtuluş Savaşı'nın kazanıldığı gündür 30 Ağustos 1922 (Bin dokuz yüz yirmi iki). Kutlamalarda askerler, tanklar ve uçaklar geçit töreni yapar.

6- Yukarıda bilgisi verilen millî bayram aşağıdakilerden hangisidir?

- A. Cumhuriyet Bayramı
- B. Zafer Bayramı
- C. Ulusal Egemenlik ve Çocuk Bayramı

7- Cenk'in sağ kolu Güneş'in doğduğu yönü gösteriyorsa önü hangi yönü gösterir?

- A. Kuzey
- B. Güney
- C. Batı



8- Ağaçlandırma aşağıdaki doğal afetlerden hangisi için önlem değildir?

- A. Sel
- B. Deprem
- C. Erozyon



Çok uzak ülkelerden havaların ısınmasıyla yeni geldik. Yuvamızı yapıyoruz.

9- Resimlerde konuşan leylekler hangi mevsimde ülkemize gelmişlerdir?

- A. ilkbahar
- B. kış
- C. sonbahar

10- Dünya'nın Güneş etrafında dolanması sonucunda aşağıdakilerden hangisi oluşur?

- A. Mevsimler
- B. Gece
- C. Gündüz





Sürekli yağan yağmurdan veya eriyen kardan oluşan, geçtiği yerlere zarar veren taşkın su.

**11 -** Yukarıda tanımı verilen doğal afet aşağıdakilerden hangisidir?

- A. Erozyon                      B. Sel                      C. Heyelan

**12-** Aşağıda verilenlerden hangisi, aile bütçesine katkıda bulunan bir davranıştır?

- A. Selim'in top oynaması  
B. Sunay'ın ders çalışması  
C. Caner'in boşa yanan lambaları kapatması

🌸 Su

🌸 Elektrik

🌸 Doğalgaz

**13-** Yukarıdaki kaynaklardan hangilerini tasarruflu kullandığımızda aile bütçesine katkıda bulunuruz?

- A. 🌸 🌸 🌸                      B. 🌸 🌸                      C. 🌸 🌸

**14-** Aşağıdakilerden hangisi 8 yaşındaki Can'ın sorumluluklarından biri **değildir**?

- A. Sofrayı kurmaya yardım etmek  
B. Aile bütçesi için para kazanmak  
C. Odasını toplamak

**15-** Hangisi oynanan bir oyunda hem kazanan hem de kaybeden tarafın sergilediği doğru davranıştır?

- A. Üzülerek kenarda oturmak  
B. Sevinerek zıplamak  
C. Karşı takımı tebrik etmek



Bende var bir kumbara,  
İçi doludur para.  
Para verince babam,  
Şeker, düdük ben alamam.  
Kumbaraya koşarım.  
Böyle para toplarım.

1 ve 2. Soruları şiire göre cevaplayınız.

1 - Babası para verince çocuk ne yaparmış?

A.Şeker almış. B.Koşu yarışı yaparmış. C.Kumbaraya atarmış.

2 - Şiirin konusu nedir?

A.Beslenmedir B.Tasarruftur. C.sportur

Okulda top oynarken ayağı sakatlandı.

3- Yukarıdaki cümlede kelime sayısı aşağıdaki cümlelerin hangisindeki kelime sayısı ile birbirine eşittir?

A. Matematik kitabımı okulda unuttum.  
B. Renkli kağıdıma güzel resimler yapmayı düşünüyorum.  
C. Gözlerini televizyondaki çizgi filmde ayıramıyordu.

4- Aşağıdaki cümlelerin hangisinde özel isim **yanlış** yazılmıştır?

A. Ahmet ile Ayşe'nin arası çok iyi.  
B. Kerim konya'yı çok beğendi.  
C. Çanakkale çok güzel bir şehirdir.



i a p k t

5- Yukarıda karışık olarak verilen harflerden anlamlı bir sözcük oluşturulursa başta ve sonda hangi harfler yer alır?

A. k, t                      B. a, i                      C. k, p

I. soğan                      III. kıyafet

II. tiren                      IV. firen

6- Yukarıdaki kelimelerden hangilerinin yazılışı doğrudur?

A. I ve II                      B. I ve III                      C. I ve IV

"İki gün önce markette öğretmenimle karşılaştım."

7- Cümlesinde "Nerede?" sorusunun cevabı hangisi olur?

A. Parkta                      B. Sokakta                      C. markette

Maçın galibi Mustafalar oldu.

8- Yukarıdaki cümlede verilen kelimeler uygun başlıklar altına yerleştirildiğinde hangisi gibi olur?

	<u>Tekil Ad</u>	<u>Çoğul Ad</u>
A.	Maç	oldu
B.	Mustafalar	galibi
C.	Maç	Mustafalar

I. Alfabemizde 29 harf vardır.

II. "ani", bir heceli kelimedir.

III. "koskoca", 4 heceli bir kelimedir.

9- Yukarıdaki ifadelerden hangileri doğrudur?

A. Yalnız I

B. I ve II

C. I, II, III



10- Bir olayın zamanı aşağıdakilerden hangisi **olamaz**?

- A. Dün
- B. evde
- C. Bugün

11 - "Çıkmamış mavi leke gömleğimdeki." cümlesini kurallı hâle getirdiğimizde aşağıdakilerden hangisi olur?

- A. Mavi gömleğimdeki leke çıkmamış.
- B. Mavi gömleğimdeki çıkmamış leke.
- C. Gömleğimdeki leke çıkmamamış mavi.

12- Aşağıda kelime gruplarından hangileri yalnızca tür isimdir?

- A. Defter - Ayla - Çağla
- B. Ağaç - masa - Tülay
- C. Bulut - hava - güneş

Siyah → .....

Yakın → .....

Dost → .....

13- Yukarıdaki kelimelerin zıt anlamlıları karşlarına yazıldığında yukarıdan aşağıya sıralama nasıl olur?

- A. Al - yakın - arkadaş
- B. Beyaz - uzak - arkadaş
- C. Beyaz - uzak - düşman

okul - çanta - kalem - tahta

14- Yukarıdaki kelimeleri alfabetik sıraya koyduğumuzda 2. sırada

hangi kelime yer alır?

- A. Okul
- B. Çanta
- C. Kalem



Meyveler	Meyve Sevenlerin Sayısı
Kivi	• •
Şeftali	• • • • •
Kavun	• • • •
Karpuz	• • •

Her şekil 1 kişidir.

7 ve 8. soruları tabloya göre cevaplayınız.

**15-** Sınıfta en çok sevilen meyve hangisidir?

- A. Kivi                                      B. Şeftali                                      C. Kavun

**16-** Sınıfta en az sevilen meyve hangisidir?

- A. Kivi                                      B. Şeftali                                      C. Karpuz

**17-** "Hayvanat bahçesinde yılan( ) kaplan( ) maymun gibi hayvanlar vardır( )."

Yukarıdaki cümlede ( ) ile gösterilen yerlere sırasıyla hangi noktalama işaretleri gelmelidir?

- A. (,)(,)(!)                                      B. (,)(,)(.)                                      C. (,)(!)(.)



**18-** Yukarıdaki görsele göre oluşan yeni kelime hangisidir?

- A. Ayı                                      B. Dayı                                      C. Panda

**19-** Aşağıdaki cümlelerin hangisinde yazım yanlışı vardır?

- A. 10 Mart'ta geziye gideceğiz.  
B. Kardeşim 15 mayısta doğdu.  
C. Yarışma 2 Haziran'da başlıyor.

**20-** Aşağıdaki kelimelerden hangisi hecelerine yanlış ayrılmıştır?

- A. Ha - ri - ta  
B. Fa - tu - ra  
C. Kar - ın - ca







Ahmet



23 kg

Sami



Fatih



18 kg

7- Yukarıdaki üç arkadaşın toplam kiloları 69 kg olduğuna göre Sami kaç kg'dır?

A. 27

B. 28

C. 29

8- Yaz tatilinde katıldığım kamp 3 hafta 6 gün sürdü. Kampımız kaç gün sürdü?

A. 25

B. 26

C. 27

9- Mağazadan 4 tane bardak alan Meryem 24 TL ödedi. Bir bardak kaç TL'dir?

A. 5

B. 6

C. 7

$$3 \times \text{✿} = 18$$

$$\text{●} \times 5 = 20$$

10- Yukarıdaki çarpma işlemlerinde verilmeyen sayılar hangileridir?

A. ✿=6

●=5

B. ✿=5

●=4

C. ✿=6

●=4

11 - Sınıfımızda 11 sıra var. Sıraların 6'sında 2'şer öğrenci, diğerlerinde 3'er öğrenci oturmaktadır. Sınıfımızda kaç öğrenci vardır?

A. 17

B. 27

C. 30





12- Yukarıdaki pastalar kaç çeyrek pasta eder?

A. 4

B. 8

C. 12

X	1	2	3	4	5
1					
2		A			
3					
4					
5				B	
6					
7			C		
8					D
9					

13 ve 14. Soruları tabloya göre cevaplayınız.

13- A ve C yerine gelecek sayıların toplamı kaçtır?

A. 24

B. 25

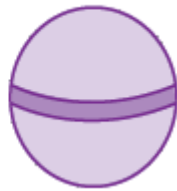
C. 26

14- D ve B yerine gelecek sayıların farkı kaçtır?

A. 20

B. 21

C. 22



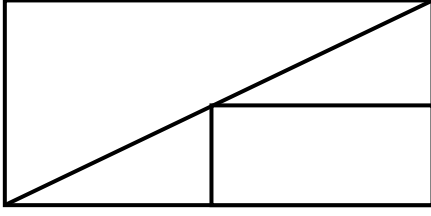
15- Yukarıdaki geometrik cisimlerden hangisi köşesizdir?

A. ●

B. ■

C. ★





16- Yukarıda oluşturulan şekilde aşağıdakilerden hangisi yoktur?  
A. Üçgen B. Kare C. Dikdörtgen




2 TL

3 TL



17- Bir limonata satıcısı küçük bardakla 5 bardak limonata, büyük bardakla 4 bardak limonata sattı. Satıklarından kaç TL kazandı?  
A. 20 B. 22 C. 24

18-



Ağaçlar arasındaki uzaklıklar eşittir. İlk ağaçla son ağaç arasındaki mesafe kaç metredir?  
A. 28 B. 38 C. 48

19- \* \* \* \* \* ?

Yukarıdaki örüntüde soru işareti yerine ne gelmelidir?

A. \*

B. →

C. ●



Semih=1 m 40 cm



Salih

20- Salih'in boyu aşağıdakilerden hangisi olamaz?

A. 1 m 20cm

B. 1 m 30cm


C. 1 m 40 cm



İLKOKULEVİM  
İlkokula Dair Her Şey

Diğer sayfaya geçiniz.

1 - Aşağıdaki resim kelime eşleştirmelerinden hangisi yanlıştır?




a donkey



a tiger



an elephant

2-  "A strawberry is ..... ." cümlesini uygun kelime ile tamamlayınız

A. red

B. yellow

C. green



This is a/an .....

3- Yukarıdaki cümleyi görsele göre tamamlayınız.

A. orange

B. apple

C. melon



4- Görseli anlatan seçeneği işaretleyiniz.

A. knees

B. hands

C. feet



5- Görseli anlatan seçeneği işaretleyiniz.

A. jump

B. sing

C. run