

**KARINCA İLE GÜVERCİN**

Bir karınca dereye düşmüştü. Su içen güvercin onu gördü. Hemen gagasıyla bir cop uzattı. Karınca çöpe tutunup kıyıya çıktı. Tam o sırada oradan gecen bir avcı güvercini görüp nişan aldı. Karınca avcının ayağını ısırıldı. Adamın atışı boşa gitti. Güvercin böylece kurtuldu.

1 ve 2. soruları yukarıdaki metne göre cevaplayınız.

1) Karınca düştüğü sırada güvercin ne yapıyormuş?

- A) Su içiyormuş.
- B) Uçuyormuş.
- C) Oyun oynuyormuş.

2) Güvercin, karıncayı nasıl kurtarmış?

- A) Kanadıyla
- B) Çöple
- C) Ayağıyla



Seval öğretmen sınıfta ders anlatırken öğrenciler, öğretmenlerinin anlattıklarını dinlemektedirler.

3) Aşağıdakilerden hangisi öğrencilerin dinleme esnasında uymaları gereken kurallardan biri değildir?

- A) Dinleme sırasında başka şeylerle ilgilenmemeliler.
- B) Dinleme sırasında söz almadan öğretmenin sözünü kesmemeliler.
- C) Dinleme esnasında dikkat dağınık hareketlerden kaçınmalıdırlar.





TÜRKÇE TESTİ

4) "Kütüphane" sözcüğü, satıra sığmadığında hangi seçenekteki gibi bölünebilir?

A) kütü-
phane

B) küt-
üphane

C) kütüp-
hane

sehpa	ziyaret	gölet	uçak	adillik
-------	---------	-------	------	---------

5) Harf sayıları eşit olan sözcükleri eşleştirdiğimizde hangisi dışarda kalır?

A)adillik

B)uçak

C)sehpa





TÜRKÇE TESTİ

Proje ödevi için yandaki görsellerden bir afiş hazırlamak isteyen Kayra, afişi için slogan aramaktadır.



6) Kayra aşağıdaki sloganlardan hangisini kullanamaz?

- A) Geri Dönüşüm Atık Çöp Değildir.
- B) Geri Dönüşüm Geleceği Kurtarır.
- C) Geri Dönüşüm Kirliliğe Karşı Tedbir Değildir.



kelime

harf

TÜRKÇE

hece

.....?.....

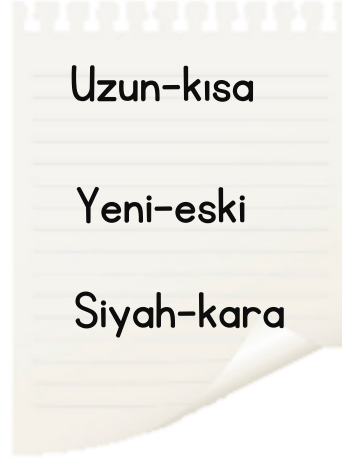
7) Soru işareti yerine aşağıdaki kelimelerden hangisi gelemez?

- A) Cümle
- B) Zıt anlam
- C) Toplama işlemi






TÜRKÇE TESTİ



Veysel yukarıdaki balonlarda verilen kelimelerin zıt anlamlarını bulup deftere yazmıştır.

8) Veysel hangi kelimenin zıt anlamını yazarken hata yapmıştır?

- A) Yeni
- B) Siyah
- C) Uzun



Yukarıdaki görseller ifade ettikleri sözcüklerin heceleri arasında ilişkiye göre sıralanmıştır.

9) Buna göre “?” olan kutuya hangisi gelmelidir?





TÜRKÇE TESTİ

A	L	S	A	A	T	L	İ
Y	A	R	İ	K	İ	D	E
P	A	R	K	T	A	E	T
O	K	U	O	L	U	N	U

10) Yukarıdaki tabloda bir cümle yazılıdır. Bu cümle tablo nasıl yazılırsa ortaya çıkar ?

A)

B)

C)



MATEMATİK TESTİ



1-2-3. soruları yukarıdaki görsele göre cevaplayınız.

1) Kaan ve Elif'in elindeki sayıları toplayıp 24 çıkarırsak sonucu kaç buluruz?

- A) 54
- B) 44
- C) 62

2) Büşra'nın elindeki sayının onlar basamağını 4 arttırıp birler basamağını 5 azaltırsak yeni oluşan sayı kaç olur?

- A) 83
- B) 83
- C) 63

3) Yukarıda verilen sayılardan kaç tanesi tek sayıdır?

- A) 1
- B) 2
- C) 3



MATEMATİK TESTİ



Yandaki hedef tahtasında içten dışa doğru 8,16,24 ve 32 sayıları bulunmaktadır. Bu yarışma da her vurulan sayının 5 puan fazlası

alınmaktadır. Soner hedef tahtasında 16 ve 32 sayılarının bulunduğu hedefleri vurmuştur.

4) Yukarıda verilen bilgilere göre Soner kaç puan almıştır?

- A) 68
- B) 63
- C) 58



Parka oynamaya giden Alp ile ablası Seda tahterevalliye binmişlerdir. Alp 39 kilogram , Seda ise 47 kilogram olduğu için Alp havada kalmıştır.

5) Tahterevallinin dengede kalması için aşağıda yapılan yorumlardan hangisi doğrudur?

- A) Alp 9 kilogram daha hafif olmalıdır.
- B) Seda 8 kilogram daha ağır olmalıdır.
- C) Alp 8 kilogram daha ağır olmalıdır.



MATEMATİK TESTİ



Saliha : 43 kilogram



Çağan : 37 kilogram



Elif: 44 kilogram



Salih : 39 kilogram

6) Yukarıdaki bilgilere göre çocukların ağırlıkları büyükten küçüğe doğru sıralanırsa baştan ikinci sıradaki öğrenci kim olur?

A) Salih

B) Çağan

C) Saliha



İki okul arasında yapılan basketbol maçında kırmızılı takım 4 birlik 3 onluk değerinde basket atmıştır.

7) Yeşil takım kırmızılı takımdan 3 basket eksik attığına göre bu maçta toplam kaç sayı atılmıştır?

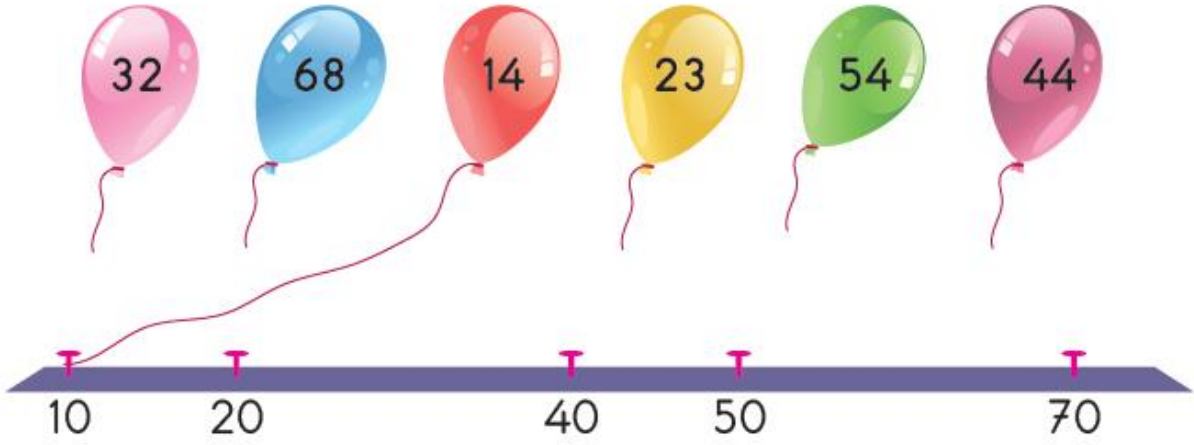
A) 65

B) 75

C) 83



MATEMATİK TESTİ



Yukarıdaki balonlar üzerinde yazan sayıların en yakın olduğu onluğa
Bağlanacaktır

8) Buna göre kaç numaralı balon bağlanmaz?

A) 68

B) 44

C) 32

$$\begin{array}{r}
 75 \\
 - 36 \\
 \hline
 \end{array}$$

.....

↓

41

49

39

9) Yandaki çıkarma işleminin sonucunu hangi ok işareti göstermektedir?

A)

B)

C)





Burcu öğretmen , üzerinde 0'dan 9'a kadar rakamların yazılı olduğu topları kutuya atmıştır. Tahtaya çağırdığı Ela'dan 4 top çekmesini istemiştir. Ela'nın çektiği toplar sırayla şu şekildedir:



Burcu öğretmen Ela'ya bu dört topa oluşturulabilecek sayılarla ilgili şu soruları sormuştur:



Birler basamağı 9 olan iki basamaklı en küçük sayı kaçtır?



Oluşturulabilecek iki basamaklı en büyük çift sayı kaçtır?



Onlar basamağı 9 olan oluşturulabilecek iki basamaklı en büyük tek sayı kaçtır?

10) Ela aşağıda verilen sonuçları cevap olarak söylediğine göre hangi seçenekteki sayı yukarıdaki soruların cevaplarından birisi olamaz?

A) 96

B) 93

C) 39



HAYAT BİLGİSİ TESTİ



Murat'ın Odası




Semih'in Odası

- 1) Görselde odası verilen öğrencilerle ilgili hangi yorum doğrudur?
- A) Murat kişisel eşyalarını düzenli kullanmıştır.
- B) Odasını düzenli kullanma konusunda Semih, Murat'a göre daha sorumludur.
- C) Murat ve Semih odalarını düzenli kullanmaktadırlar.

Alper  Akrabalarımızla düzenli olarak görüşürüz.

Ecrin  Sadece yardıma ihtiyaçları olduğunda akrabalarımızın yanında oluruz.

Burak  Akrabalarımızın yanına gidemsek bile telefonla arayarak hal ve hatırlarını sorarız.


2) Hangisinin akrabalarıyla arasında dayanışma ve yardımlaşma yoktur?

- A) Ecrin
- B) Burak
- C) Alper





HAYAT BİLGİSİ TESTİ



3 ve 4. soruları şemaya göre yanıtlayınız.

3) Fatih'in akrabalarıyla ilgili verilen bilgilerden hangisi yanlıştır?

A) Sait , Fatih'in amcasıdır.

B) Sezen , Fatih'in halasıdır.

C) Elvan, Fatih'in annesidir.

4) Yukarıda bulunan şemada Fatih'in hangi akrabası bulunmamaktadır?

A) Dedesi

B) Teyzesi

C) Dayısı



Eymen kısa boylu olduğu için hiçbir zaman basketbolcu olamayacağını düşünüyordu. Öğretmeni ve çevresindeki insanların verdiği cesaretle çok çalışarak bu güçlü yönünün kısa sürede ortaya çıkardı ve okulun basketbol takımına seçildi.

5) Bu açıklamaya göre Eymen için aşağıdakilerden hangisi söylenemez?

- A) Kararlıdır.
- B) Çalışkandır.
- C) Sabırsızdır.

Kayra ve sınıf arkadaşları , kitaba ihtiyacı olan bir okul için kendi okullarında bir kampanya düzenlediler. Kampanyaya tüm okul ve veliler katıldı. Kısa sürede çok sayıda kitap toplandı. Toplanan kitaplar paketlenerek ihtiyaç sahibi okula gönderildi.

6) Buna göre bu kampanyaya katılanlar için aşağıdakilerden hangisi söylenemez?

- A) Okul olarak herkes dayanışma içinde olmuştur.
- B) Kampanyaya katılanlar sorumluluk almamıştır.
- C) Kampanyaya katılanlar yardımseverlerdir.



HAYAT BİLGİSİ TESTİ



Melina arkadaşları ile voleybol oynadı ve oyunun sonunda Melina'nın takımı oyunu kaybetti.

7) Bu duruma göre Melina aşağıdakilerden hangisini yaptığında doğru bir davranış sergilemiş olur?

- A) Karşı takıma bir şey söylemeden oradan uzaklaşır.
- B) Yenilse de oyun için arkadaşlarına oyun için teşekkür ve tebrik eder.
- C) Öfkeyle takım arkadaşlarını suçlar.




Kendi istek ve ihtiyaçlarımızı dile getirirken arkadaşlarımızın duyarlılıklarına da dikkat etmeliyiz. Düşünce ve hareketlerimizi güzel değerlendirmek iyimserliktir.

8) Aşağıdaki davranışlardan hangisi iyimserliğe örnek olarak verilemez?

- A) Sınavda bizden yüksek not alan arkadaşımızın başarısını tebrik etmek
- B) Maçı kaybettiğimizde olumsuz tepki göstermek
- C) Herhangi bir konuda bize yardım eden birine teşekkür etmek



HAYAT BİLGİSİ TESTİ



9) Yukarıdakilerden kaç kişi yardıma ihtiyaç duyan öncelikli kişilerden değildir?

- A) 2
- B) 3
- C) 4

- ❄ İhtiyaç, karşılanması zorunlu olan temel gereksinimlerdir.
- ❄ İstek, karşılanması zorunlu olmayan, kişinin arzuladığı şeylerdir.
- ❄ Önce isteklerimizi, sonra ihtiyaçlarımızı almalıyız.

10) Yukarıdaki ifadelerden kaç tanesi yanlıştır?

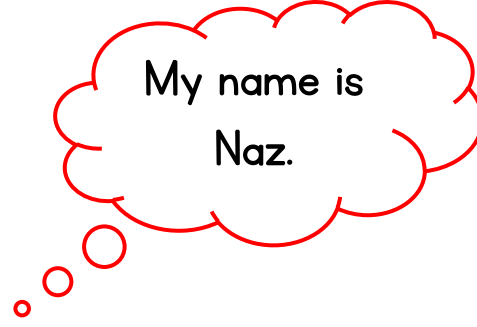

- A) 1
- B) 2
- C) 3





İNGİLİZCE TESTİ

1)



- A) What is your name?
- B) How are you?
- C) How are you today?

2) That is an airport.

A)



B)



C)



İNGİLİZCE TESTİ

3)



- A) That is a biscuit.
B) This is a sandwich.
C) This is a yoghurt.

4)



A) are

B) meet

C) fine

5)



..... the window

A) sit

B) left

C) open

