

# 2.SINIF

## İLKOKULEVİM NİSAN AYI KAZANIM DEĞERLENDİRME SINAVI

[www.ilkokulevim.com](http://www.ilkokulevim.com)



**TÜRKÇE**

**İLKOKULA DAİR  
HER ŞEY  
BU SİTEDE**

**MATEMATİK**

**HAYAT  
BİLGİSİ**

**İNGİLİZCE**



Alp: il-ko-kul



Saliha: ilk-o-kul



Sevde: ilk-ok-ul

Hecelerine ayırma etkinliğinde öğrenciler "ilkokul" kelimesini yukarıdaki gibi ayırmışlardır.

1- Bu kelimeyi hangi öğrenci hecelerine doğru ayırmıştır?

- A. Alp
- B. Saliha
- C. Sevde

genç- yaşlı

2- Yukarıdaki kelimeler arasındaki anlam ilişkisi aşağıdaki kelime gruplarının hangisinde vardır?

- A. al-kırmızı
- B. minik-küçük
- C. ıslak-kuru

▲ yavaş

● küçük

★ hızlı

3 - Yukarıda verilen kelimelerden hangisi "süratli" kelimesinin eş anlamlısıdır?

- A. ▲
- B. ●
- C. ★

4- Aşağıdaki kelimelerden hangisi sözlük sıralamasında en sonda yer alır?

- A. uzay
- B. astronot
- C. roket

5- Aşağıdaki cümlelerin hangisinde yazım yanlışı yapılmıştır?

- A. Kedinin adını limon koyduk.
- B. Ayşeler bize geldi.
- C. Esra'nın kalemi kayboldu.



6- Aşağıdaki cümlelerden hangisinin sonuna farklı bir noktalama işareti konulmalıdır?

- A. Bu yıl 23 Nisan hangi gün kutlanacak
- B. Bu yıl 23 Nisan Perşembe günü kutlanacak
- C. 23 Nisan akşamı İstiklal Marş'ımızı okuyacağız

■ Anlamını bilmediğim kelimeleri sözlükten buldum.

▲ Anlamını bilmediğim kelimelerin altını çizdim.

★ Metni okudum.

7- Yukarıdaki cümleleri oluş sırasına dizersek şekillerin dizilimi nasıl olur?

- A. ★▲■
- B. ■▲★
- C. ▲★■

8- Aşağıdaki cümlelerden hangisi yapı olarak diğerlerinden farklıdır?

- A. Kayra dün sinemaya gitti.
- B. Annem pastayı yaptı.
- C. Miyavladı küçük kedi.

Emel'in - kalmış—kalemi-- evde

1 2 3 4

9- Yukarıdaki kelimeler ile anlamlı ve kurallı bir cümle oluşturduğumuzda sıralama nasıl olur?

- A)2-1-3-4
- B)1-3-4-2
- C)1-3-2-4

herkez

misafir

kipri

10- Yukarıdaki kelimelerden kaç tanesinin yazımı yanlıştır?

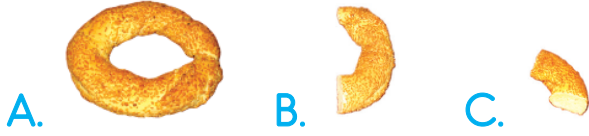
- A. 1 B. 3 C. 2



1- Yukarıdaki bulunan yarım ekmekleri kaç bütün ekmekten elde ederiz?

- A. 3 B. 4 C. 5

2- Aşağıdaki simitlerden hangisi çeyreği ifade etmektedir?



Bugün okul kantininde 8 yarım 4 de çeyrek tost satılmıştır.

3- Yukarıdaki bilgiye göre kantinci tost için kaç bütün ekmek kullanmıştır?

- A. 5  
B. 6  
C. 7

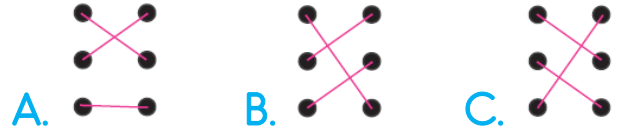


4- Yukarıdaki karpuzların her birinden 2 çeyrek dilim yenildiğine göre geriye kaç adet yarım dilim kalmıştır?

- A. 2  
B. 3  
C. 4



5- Yukarıdaki pastalar ve ifadeler eşleştirilirse doğru eşleştirme nasıl olur?



6- Yukarıdaki narlardan kaç bütün nar elde edilir?

- A. 3 B. 4 C. 5



7- Yukarıdaki elmaları kardeşiyle eşit şekilde paylaşan Kayra'ya kaç adet çeyrek elma alır?


- A. 4  
B. 8  
C. 12



Arkadaşlarımla 6 yarım 12  
çeyrek simit yedik.

8- Yeşim'in yukarıda verdiği bilgiye göre toplam kaç bütün simit yemişlerdir?

- A. 6                      B. 7                      C. 8



9- Yukarıda verilen elmalar kaç yarım elmaya eşittir?

- A. 8  
B. 9  
C. 10

10- 17 adet bütün pastanın 14 adet çeyreği , 7 adette yarımı yenildiğine göre geriye kaç adet pasta kalmıştır?




- A. 10                      B.11                      C. 12



1- Aşağıdaki kutlamalardan hangisi bizim kültürümüze ait değildir?

- A. Yılbaşı kutlamaları
- B. Kına gecesi
- C. Asker uğurlama

2- Aşağıdakilerden hangisi kültürel miraslarımızdan birisi değildir?

- A. 
- B. 
- C. 

3- Yabancı ülkelerden ülkemize gelen çocuklara karşı aşağıdakilerden hangisini yapmayız?

- A. Farklı ülkelerden gelen çocuklarla oyun oynarım.
- B. Farklı ülkelerden gelen kişilerin alışkanlıklarına saygı duyarım.
- C. Farklı ülkelerden gelen çocukları oyuna almam, dışlarım.

4- Çeşitli nedenlerle başka ülkelerden ülkemize göç eden kişilere karşı nasıl davranmalıyız?

- A. Nazik ve anlayışlı
- B. Sert ve kırıncı
- C. Umursamaz

5- Yaşam şartları ağır olan ülkelerden insanların daha iyi şartlarda yaşayabilmek için başka ülkelere gitmesine ne denir?

- A. Ticaret
- B. Göç
- C. Seyahat



1- Yukarıdaki görselde verilen hayvan hangisidir?

- A. bird
- B. parrot
- C. fish



2- Yukarıdaki görselde verilen hayvan hangisidir?

- A. fish
- B. parrot
- C. cat



3- Yukarıdaki görselde verilen hayvan hangisidir?

- A. rabbit
- B. turtle
- C. frog



4- Yukarıdaki görselde anlatılan kelime aşağıdakilerden hangisidir?

- A. bird
- B. cat
- C. pets



5- Yukarıdaki görselde verilen hayvan hangisidir?

- A. parrot
- B. turtle
- C. bird

ADI:  
SOYADI:  
SINIFI:  
NUMARASI:

**TÜRKÇE**

CEVAPLAR

1	(A)	(B)	(C)
2	(A)	(B)	(C)
3	(A)	(B)	(C)
4	(A)	(B)	(C)
5	(A)	(B)	(C)
6	(A)	(B)	(C)
7	(A)	(B)	(C)
8	(A)	(B)	(C)
9	(A)	(B)	(C)
10	(A)	(B)	(C)

**MATEMATİK**

CEVAPLAR

1	(A)	(B)	(C)
2	(A)	(B)	(C)
3	(A)	(B)	(C)
4	(A)	(B)	(C)
5	(A)	(B)	(C)
6	(A)	(B)	(C)
7	(A)	(B)	(C)
8	(A)	(B)	(C)
9	(A)	(B)	(C)
10	(A)	(B)	(C)

**HAYAT BİLGİSİ**

CEVAPLAR

1	(A)	(B)	(C)
2	(A)	(B)	(C)
3	(A)	(B)	(C)
4	(A)	(B)	(C)
5	(A)	(B)	(C)
6	(A)	(B)	(C)
7	(A)	(B)	(C)
8	(A)	(B)	(C)
9	(A)	(B)	(C)
10	(A)	(B)	(C)

**İNGİLİZCE**

CEVAPLAR

1	(A)	(B)	(C)
2	(A)	(B)	(C)
3	(A)	(B)	(C)
4	(A)	(B)	(C)
5	(A)	(B)	(C)
6	(A)	(B)	(C)
7	(A)	(B)	(C)
8	(A)	(B)	(C)
9	(A)	(B)	(C)
10	(A)	(B)	(C)

**CEVAP ANAHTARI**

**TÜRKÇE**

1-A  
2-C  
3-C  
4-A  
5-A  
6-A  
7-A  
8-C  
9-B  
10-C

**MATEMATİK**

1-B  
2-C  
3-A  
4-B  
5-A  
6-B  
7-B  
8-A  
9-B  
10-A

**HAYAT BİLGİSİ**

1-A  
2-C  
3-C  
4-A  
5-B

**İNGİLİZCE**

1-A  
2-B  
3-A  
4-C  
5-B