





Aşağıdaki verilenleri çocuklara eşit şekilde paylaşınız. Her çocuğa kaç tane düştüğünü çocukların tahtasına örnekteki gibi yazınız.





Aşağıdaki bölme işlemlerini ardışık çıkarma işlemiyle yapınız.

Bölme İşlemi	Çıkarma İşlemi	Bölme İşlemi	Çıkarma İşlemi
$15 \div 5 = 3$	$15 - 5 = 10$ (1) $10 - 5 = 5$ (2) $5 - 5 = 0$ (3)	$12 \div 3 = \dots$	
Bölme İşlemi	Çıkarma İşlemi	Bölme İşlemi	Çıkarma İşlemi
$21 \div 3 = \dots$		$10 \div 2 = \dots$	
Bölme İşlemi	Çıkarma İşlemi	Bölme İşlemi	Çıkarma İşlemi
$16 \div 4 = \dots$		$18 \div 3 = \dots$	
Bölme İşlemi	Çıkarma İşlemi	Bölme İşlemi	Çıkarma İşlemi
$24 \div 4 = \dots$		$30 \div 5 = \dots$	

