



İLKOKULEVİM DENEME SINAVLARI

2.Sınıf Kasım Ayı Kazanım Değerlendirme Sınavı

Türkçe
Matematik
Hayat Bilgisi
İngilizce

Yayın Tarihi:03/12/2020



TÜRKÇE TESTİ

UÇAK YOLCULUĞU

Bir uçağım olmalı benim,
Binip üstüne, binip üstüne,
Şu dünyayı gezmeliyim.

Gidip Akdeniz kıyılarına
Merhaba demeliyim,
Sıcak sıcak denizlerde
Çimen gemici çocuklara.

Bir uçağım olmalı benim,
Binip üstüne, binip üstüne,
Diyar diyar gitmeliyim...

Cahit KÜLEBİ

1-2-3. soruları yukarıdaki şiire göre cevaplayınız.

1- Aşağıdakilerden hangisi şairin yapmak istediklerinden birisidir?

- A) Uzayı gezmek
- B) Başka bir ülkede yaşamak
- C) Diyar diyar gitmek

2- Aşağıdaki görsellerden hangisi şiirle ilgilidir?



A)



B)



C)

3- Şiirde aşağıdaki sorulardan hangisinin yanıtı vardır?

- A) Şair, nerelere gitmek istiyor?
- B) Şair, kimlerle gezmek istiyor?
- C) Şair, nasıl bir uçağının olmasını istiyor?

TÜRKÇE TESTİ



Dinleme sırasında başka şeylerle de ilgilenebiliriz.



Konuşmacının önemli sözlerini not alabiliriz.



Dinleme sırasında konuşmacının sözünü kesmemeliyiz.

4- Yukarıda dinleme kurallarıyla ilgili verilen bilgilerden kaç tanesi doğrudur?

A) 1

B) 2

C) 3

- ◆ Bu hafta okul gezimiz, var.
- ◆ Ela, Dila ve Zeynep bize geliyor.
- ◆ Öğretmenimiz defter, sözlük, kalem getirmemizi istedi.

5- Yukarıdaki cümlelerin hangisinde virgül (,) yanlış kullanılmıştır?

A) ◆

B) ◆

C) ◆

6- Aşağıda verilen cümlelerin hangisinde çoğul kelime kullanılmamıştır?

A) Masamın üzerinde duran kitaplarımı dolaba kaldırdım.

B) Ağaçta olgunlaşan elmaları topladık.

C) Dedem pazardan ata yular aldı.

"köpeğim bir küçük var"



7- Yukarıdaki sözcüklerle anlamlı ve kurallı cümle oluşturursak sıralama nasıl olur?

A) ● ▼ ■ ◆

B) ▼ ◆ ● ■

C) ▼ ◆ ■ ●

TÜRKÇE TESTİ

Köstebeğimiz Köskös karşıya evine gitmek için eş anlamlı sözcüklerin yazılı olduğu yoldan geçmelidir



soğuk - ılık

1.Yol

ileri - geri

2.Yol

büyük - kocaman

3.Yol

8- Köstebeğimiz Köskös hangi yolu kullanırsa evine ulaşabilir?

A) 1.yol

B) 2.yol

C) 3.yol

"Berra ile Beyza, köpekleri Kıvırcık için Ankara'dan gelecek teyzelerine tasma siparişi verdiler."

9- Yukarıdaki cümlede kaç tane özel ad bulunmaktadır?

A) 3

B) 4

C) 5



Son gittiği tatilde yüzmeyi öğrendim.

10- Yukarıdaki cümleden aşağıdaki yargılardan hangisi kesinlikle doğrudur?

A) Daha önceden tatile gitmiştir.

B) Yüzmeyi çok iyi öğrenmiştir.

C) Tatile yüzmek için gitmiştir.

MATEMATİK TESTİ



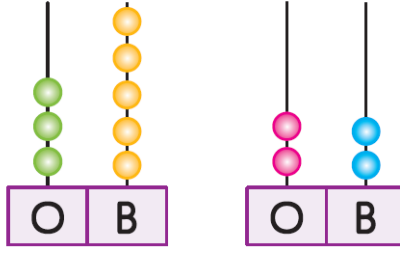
Ahmet okul hazırlığı yaparken yanda verilen çanta ve ayakkabıyı üzerlerinde yazılı olan fiyatlardan almıştır.

1- Buna göre Ahmet ayakkabısına çantadan kaç TL daha fazla para vermiştir?

A) 95

B) 61

C) 9



1.Sayı

2.Sayı

Sıla yukarıda abakütle gösterilen sayıları eşitlemek istemektedir.

2- Sıla aşağıdakilerden hangi işlemi yaparsa sayıları eşitlemiş olur?

A) Birinci sayıdan 1 onluk eksiltip , ikinci sayıya 2 birlik eklerse eşitler.

B) İkinci sayıya 1 onluk ekleyip , birinci sayıdan 3 birlik azaltırsa eşitler.

C) Birinci sayıdan 1 onluk ve 4 birlik azaltırsa eşitler.

$$19 + 36 = 27 + \bullet$$

3- Yukarıda verilen işleme göre eşitliğin sağlanması için \bullet işaretinin değeri kaç olmalıdır?

A) 28

B) 55

C) 82



MATEMATİK TESTİ



Ayşegül simitçi Ali Rıza Amca'ya kaç simit sattığını sorduğunda sabah 37, öğleden sonra ise sabahkinden 9 eksik cevabını almıştır.

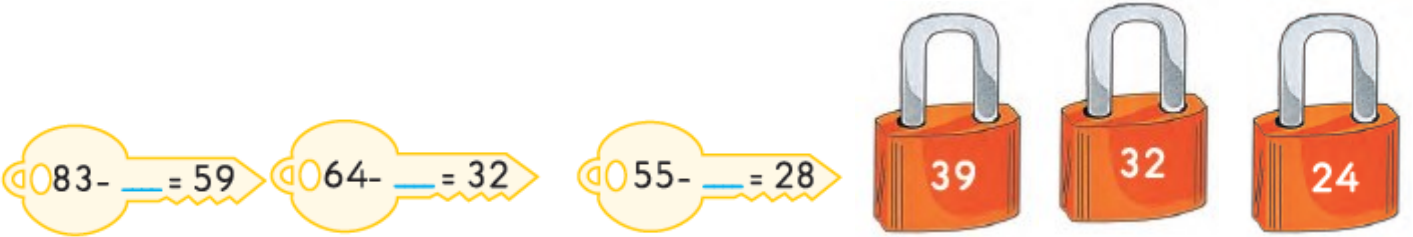
4- Yukarıda verilen bilgilere göre Ali Rıza amca kaç simit satmıştır?

- A) 46
- B) 55
- C) 65

$$\color{green}\blacklozenge - \color{magenta}\bullet = \color{blue}\blacksquare$$

5- Yukarıda verilen eşitliğe göre aşağıdakilerden hangisi doğrudur?

- A) $\color{blue}\blacksquare - \color{magenta}\bullet = \color{green}\blacklozenge$
- B) $\color{green}\blacklozenge - \color{blue}\blacksquare = \color{magenta}\bullet$
- C) $\color{magenta}\bullet + \color{green}\blacklozenge = \color{blue}\blacksquare$



Serap yukarıda anahtarlardaki çıkarma işlemlerinde verilmeyen çıkanları bularak doğru kilitleri açacaktır.

6- Yukarıda verilen açıklamaya göre Serap hangi kilidi açamaz?

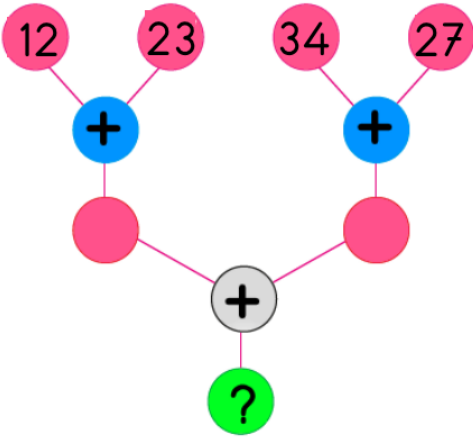
- A)
- B)
- C)

MATEMATİK TESTİ

$$\begin{array}{r} \blacktriangledown 3 \\ + 5 \bullet \\ \hline 81 \end{array}$$

7- Yukarıdaki toplama işlemine göre $\bullet + \blacktriangledown$ toplamı kaçtır?

- A) 9
- B) 10
- C) 11



8- Yandaki verilen toplama ağacında " ? " yerine yazılacak sayı kaçtır?

- A) 82
- B) 86
- C) 96

Simit



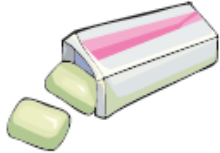
49 kuruş

Şeker



19 kuruş

Sakız



39 kuruş

9- Eslem cebindeki 85 kuruş ile hangisini alamaz?










- A)
- B)
- C)

$$\begin{array}{c} \boxed{38} + \boxed{27} \\ \diagdown \quad \diagup \\ \boxed{\text{Elma}} \end{array}$$

$$\begin{array}{c} \boxed{97} - \boxed{28} \\ \diagdown \quad \diagup \\ \boxed{\text{Elma}} \end{array}$$

$$\begin{array}{c} \boxed{45} + \boxed{26} \\ \diagdown \quad \diagup \\ \boxed{\text{Elma}} \end{array}$$




10- Verilen işlemlere göre  ,  ve  değerlerinin büyükten küçüğe sıralanışı nasıldır?

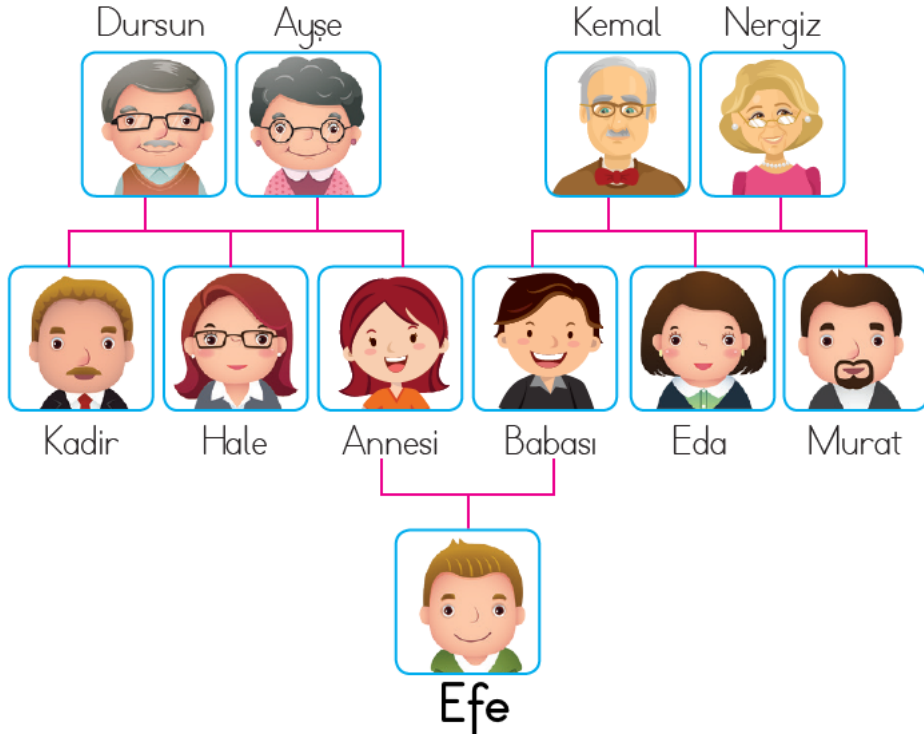
- A)  -  - 
- B)  -  - 
- C)  -  - 



Arkadaşları Hakan'ın oyunda yer alıp almaması ile ilgili görüş bildirmiştir.

1- Hangi arkadaşının gösterdiği tutum daha doğrudur?

- A)  Hakan bu oyunu oynayamıyor, onun için Hakan oynamasın.
- B)  Hakan bu oyunda zarar görebilir, onun için Hakan oynamasın.
- C)  Hakan'ın da oynayabileceği bir oyun oynayalım.



Yukarıda Efe'nin aile bireylerini gösteren şema verilmiştir. 2 ve 3. soruları şemaya göre cevaplayınız.

2- Efe'nin halasının adı nedir?

- A) Hale
B) Eda
C) Nergiz

3- Kadir Efe'nin nesidir?


- A) Efe'nin dayısıdır.
B) Efe'nin amcasıdır.
C) Efe'nin dedesidir.



HAYAT BİLGİSİ TESTİ

Oğuzhan , dengeli beslenmeyi göz önünde bulundurarak kendine yiyecek hazırlamak istiyor.

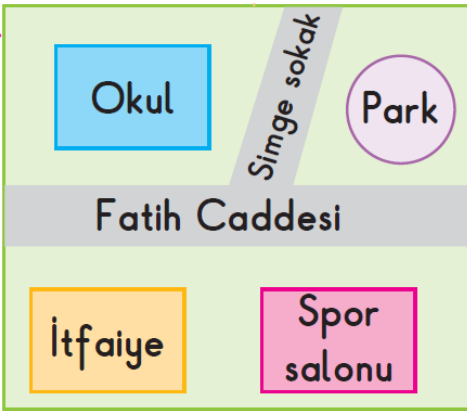
8- Aşağıdakilerden hangisi Oğuzhan'ın hazırlayacağı yiyecek olmamalıdır?



- Ömrünü tamamlamış pilleri, pil atık kutusuna atmak
- Geri dönüşümü olan maddeleri çöpe atmadan ayrıştırmak
- ◆ Çöplerimizi doğaya gelişini güzel atmamak.

9- Yukarıda verilenlerden hangileri çevremizi temiz tutmamıza katkı sağlar?

- A) ◆ ■ ●
- B) ■ ●
- C) ◆ ●



10- Yandaki verilen krokiye göre aşağıdaki verilen bilgilerden hangisi okulun yeriyle ilgili doğru bilgidir?

- A) Okul, parkın sağındadır.
- B) Okul, spor salonunun yanındadır.
- C) Okul, itfaiyenin karşısındadır.



fo_tbal_


1- Boş bırakılan yere uygun gelen harfler hangisidir ?

- A) o-k
- B) o-l
- C) a-l



2- Boş bırakılan yere hangi kelime gelmelidir?

- A) thank
- B) fine
- C) morning



3- Yandaki yapılan işi aşağıdakilerden hangi kelime ile ifade edebiliriz?

- A) cut
- B) say
- C) turn



Sit

4- Yukarıdaki boşluğa aşağıdakilerden hangisi gelmelidir?

- A) up
- B) right
- C) down



Şeyma is years old.

5- Boşluğa gelmesi gereken kelime aşağıdakilerden hangisidir?

- A) seven
- B) eight
- C) nine

İLKOKULA DAİR HER ŞEY BU SİTEDE

1. Sınıf



3. Sınıf

2. Sınıf

4. Sınıf

- * Konu Anlatımları
- * Konu Özetleri
- * Etkinlikler
- * Çalışma Kağıtları
- * Tarama Sınavları
- * Deneme Sınavları

- * Masal Köşesi
- * Hikaye Köşesi
- * Oyun Köşesi
- * Kitap Köşesi
- * Film Köşesi

Sevgili ÖĞRETMEN ve VELİLERİMİZ;
Deneme Sınavına Teşekkür Mahiyetinde
Sosyal Medya Sayfamızı Beğenirseniz
Çok Mutlu Oluruz.

Aşağıdaki Linklerden Bizlere Ulaşabilirsiniz.

www.ilkokulevim.com

www.instagram.com/ilkokulevim

www.facebook.com/ilkokulevim

www.facebook.com/groups/272489210266407/

t.me/ilkokulevim

2.SINIF KASIM AYI KAZANIM DEĞERLENDİRME SINAVI CEVAP ANAHTARI

TÜRKÇE	MATEMATİK	HAYAT BİLGİSİ	İNGİLİZCE
1-C	1-C	1-C	1-B
2-C	2-B	2-B	2-B
3-A	3-A	3-A	3-A
4-B	4-C	4-C	4-C
5-A	5-B	5-B	5-C
6-C	6-A	6-C	
7-B	7-B	7-B	
8-C	8-C	8-A	
9-B	9-C	9-A	
10-A	10-B	10-C	