

TÜRKÇE TESTİ

Bahar ayları gelmişti. Ayla hava durumuna baktı ve hafta sonu sıcaklığın 20 derece olacağını öğrenince bir piknik planı yaptı. Ailesine planı anlattı. Ayla'nın planı bütün ailenin çok hoşuna gitti. Cumartesi günü tüm hazırlıkları tamamlayıp ertesi gün piknik için şehrin dışındaki ormanlık alana gittiler. Ayla piknik alanında oyun oynarken ağaçtan gelen sesle irkildi. Başına kaldırıp baktığında dalların arasında minik bir sincap gördü.

(İlk 2 soruyu yukarıdaki metne göre cevaplayın)

1 - Ayla'nın planını gerçekleştirmek için nereye gidiyorlar?

- A) Alışveriş merkezine
- B) Stadyuma
- C) Şehrin dışında ormanlık alana

2 - Ayla ve ailesi, Ayla'nın planını hangi gün gerçekleştirdiler?

- A) Cumartesi
- B) Pazar
- C) Pazartesi

Ayşe — Sami — Alp — Kayra — Mehmet — ?

3 - Yukarıdaki hece sayısı örüntüsüne göre ? yerine hangi kelime gelmelidir?

- A) Ali
- B) Mert
- C) Esra



TÜRKÇE TESTİ

Küçük çocuk hızlı adımlarla yürüyordu.

4 - Yukarıdaki cümlede renkli verilen sözcüklerin eş anlamları hangi seçenekte doğru verilmiştir?

- A) İri - acele
- B) Minik - süratli
- C) Büyük - yavaş

ok-u-la

sa-bah

ge-ç

kal-dı

5 - Yukarıdaki kelimelerden kaç tanesi hecelerine doğru ayrılmıştır?

- A) 2
- B) 3
- C) 4

Akşam ablamla birlikte teyzemlere gideceğiz.


6 - Yukarıdaki cümlede hangi sorunun cevabı yoktur?

- A) Nereye?
- B) Ne zaman?
- C) Niçin?



TÜRKÇE TESTİ

7 - Aşağıdaki görseli verilen kelimeleri alfabetik sıraya göre sıralarsak en baştaki görsel hangisi olur?



Çok sıcak bir yaz günüydü. Evin balkonuna çıktım. Bahçede oynayan çocukları izlerken dalmış gitmişim.

8 - Altı çizili sözcüklerden kaç tanesinin zıt anlamlısı vardır?

A)2

B) 3

C)4


9 - Aşağıdaki cümlelerden hangisinde virgül yanlış kullanılmıştır?

A) Pazardan elma, kiraz ve muz aldık.

B) Bugün sınıfa Ali,Arda ve Sıla gelmedi.

C) Dedem, ve babaannem yarın bize gelecekler.

10 - Satır sonuna sığmayan kelimelerden hangisinde yanlışlık yapılmıştır?



TÜRKÇE TESTİ

■ Tariği

▲ Murat'a

★ Dilek'i

11 - Yukarıdaki kelimelerden hangisi yanlış yazılmıştır?

A) ★

B) ■

C) ▲



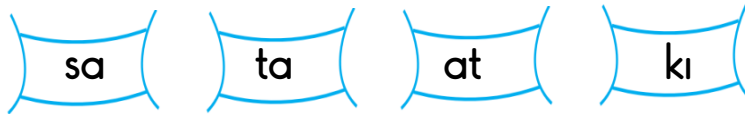
İpek hikaye okuyacaktır. Kitabın kapağında ise yandaki resim bulunmaktadır.

12 - Buna göre kitabın adı aşağıdakilerden hangisi olabilir?

A) Yardım Etmek Güzeldir

B) Trafik Kuralı Nedir?

C) Pazarda Bir Gün



13 - Yukarıdaki hecelerle hangi sözcük yazılamaz?

A) takı

B) saat

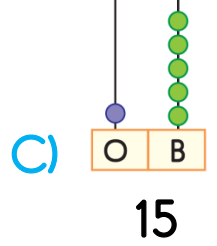
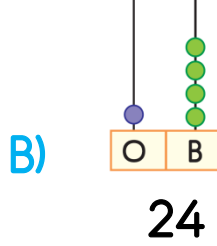
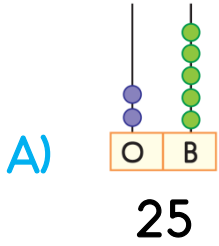
C) askı

$$12+8 = 27-\star$$

1 - Yukarıdaki işlemde " \star " yerine kaç gelmelidir ?

- A) 6 B) 7 C) 8

2 - Aşağıdaki sayılardan hangisinin onluk ve birlikleri yanlış gösterilmiştir?




3 - Geriye doğru 5'erli sayma yapan Kayra 4. saymada 50 dediğine göre 7. saymada hangi sayıyı söylemelidir?

- A) 40 B) 35
C) 30



4 - Yukarıdaki "?" olan yere aşağıdakilerden hangisi gelmelidir?

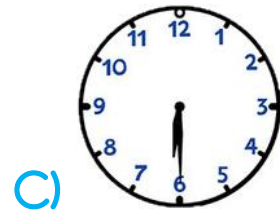
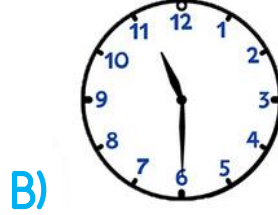
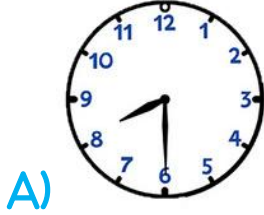




MATEMATİK TESTİ

Saat sekiz buçukta uyanan Gökçe 3 saat sonra meyve yemiştir.

5 - Yukarıdaki bilgiye göre aşağıdaki saatlerden hangisi Gökçe'nin meyve yediği saati göstermektedir?



6 - Yılın 5. ve 7. ayları hangi seçenekte doğru verilmiştir?

A) Mayıs-Temmuz

B) Nisan-Haziran

C) Haziran-Ağustos

20 TL parası olan Emir kırtasiyeden hikaye kitabı almış ve geriye 9 TL'si kalmıştır.

7 - Buna göre Emir hikayeye kaç TL ödemiştir?



MATEMATİK TESTİ



Yanda verilen ailede Sevinç 6 yaşında iken kardeşi Alp , Sevinç'ten 2 yaş küçüktür. Annelerinin yaşı ise çocukların yaşları toplamından 16 fazladır.

8 - Buna göre anne kaç yaşındadır?

A)22

B)24

C)26




9 - Yukarıdaki nesne için hangisi yanlıştır?


A)Köşeleri vardır.

B)Şekli kullanarak dikdörtgen çizilebilir.


C)Şekli kullanarak yuvarlak çizilebilir.



1



2



3

?


4

10 - Yukarıdaki şekiller belli bir sıraya göre dizilmiştir. 4. şeklin boyalı hali hangisidir?

A)



B)



C)



$11-6$

$16-9$



11 - Yukarıdaki verilen çıkarma işlemleri güneşin gösterdiği sayılarla eşleştirilirse hangi sayı boşa kalır ?

A) 7

B) 6

C) 5

$\square - 2 = 12$

$8 + \square = 11$

12 - Yukarıdaki işleme göre $\square + \square$ işleminin sonucunu kaçtır?

A) 11

B) 13

C) 17


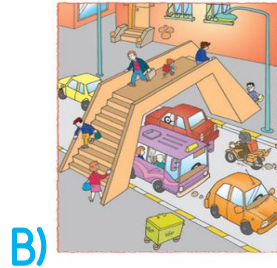



HAYAT BİLGİSİ TESTİ

1 - Yaşadığınız ili kim yönetmektedir?

- A) kaymakam
- B) muhtar
- C) vali

2 - Aşağıdaki yayalardan hangisinin davranışı yanlıştır?




3 - Yandaki görsele göre aşağıdakilerden hangisi yanlıştır?

- A) Evde herkes istediği gibi davranmalıdır.
- B) Aile içinde görev dağılımı olmalıdır.
- C) Evde dayanışma olmalıdır.

HAYAT BİLGİSİ TESTİ

4 - Aşağıdaki besinlerden hangisi bitkiden elde edilmiştir?



5 - Doğal güzellikleri olan bir yere gitmek isteyen Batu aşağıdaki yerlerden hangisine gitmelidir?



Eray :Meyve ve sebzeleri mevsiminde tüketmeliyiz.



Ersin:Ağaçtan kopardığımız elmayı yıkamadan yiyebiliriz.



Eray :Kış mevsiminde atkı ve bere kullanmalıyız.

6 - Yukarıdaki öğrencilerden hangisi yanlış bilgi vermiştir?

A) Egemen

B) Eray

C) Ersin



HAYAT BİLGİSİ TESTİ



- 7 - Bir ailede aşağıdakilerden hangisinin olması yanlıştır?
- A) kıskançlık
 - B) dayanışma
 - C) iş birliği



Burak bilgisayarında oyun oynarken birden yandaki bilgisayarda yazan mesaj çıkmıştır.

- 8 - Buna göre Burak ne yapmalıdır?
- A) Ailesine haber vermelidir.
 - B) Sadece adını yazmalıdır
 - C) Adını soyadını yazmalıdır.

Esmâ ve arkadaşları kantinde yanlışlıkla yere meyve suyu dökmüşlerdir.

9 - Aşağıdaki kişilerden hangisini yardım etmeleri için çağırmaları gerekir?

- A) Öğretmen
- B) Hizmetli
- C) Müdür

10 - Aşağıdakilerden hangisi doğru bir şekilde televizyon izleme şeklidir?

- A) 
- B) 
- C) 

İLKOKULA DAİR HER ŞEY BU SİTEDE

1. Sınıf



3. Sınıf

2. Sınıf

4. Sınıf

- * Konu Anlatımları
- * Konu Özetleri
- * Etkinlikler
- * Çalışma Kağıtları
- * Tarama Sınavları
- * Deneme Sınavları

- * Masal Köşesi
- * Hikaye Köşesi
- * Oyun Köşesi
- * Kitap Köşesi
- * Film Köşesi

SOSYAL MEDYA HESAPLARIMIZDAN

BİZLERE DESTEK OLMAYI

UNUTMAYINIZ 😊

2.SINIF HAZIR BULUNUŞLUK SINAVI CEVAP ANAHTARI

TÜRKÇE:	I-C	2-B	3-B	4-B	5-A
	6-C	7-C	8-A	9-C	10-B
	11-B	12-A	13-C		
MATEMATİK:	I-B	2-B	3-B	4-B	5-B
	6-A	7-B	8-C	9-C	10-B
	11-B	12-C			
HAYAT BİLGİSİ:	I-C	2-C	3-A	4-A	5-C
	6-C	7-A	8-A	9-B	10-C