

# 1.SINIF

## İLKOKULEVİM NİSAN AYI KAZANIM DEĞERLENDİRME SINAVI

[www.ilkokulevim.com](http://www.ilkokulevim.com)



TÜRKÇE

MATEMATİK

HAYAT  
BİLGİSİ

İLKOKULA DAİR HER ŞEY BU SİTEDE

[www.ilkokulevim.com](http://www.ilkokulevim.com)



## TÜRKÇE TESTİ

(Bu test 10 sorudan oluşmaktadır)

Bahar ayları gelmişti. Ali hava durumuna baktı ve hafta sonu sıcaklığın 20 derece olacağını öğrenince bir piknik planı yaptı. Ailesine planı anlattı. Ali'nin planı bütün ailenin çok hoşuna gitti. Pazar günü tüm hazırlıkları tamamlayıp piknik için şehrin dışındaki ormanlık alana gittiler. Ali piknik alanında oyun oynarken bir ağaçtan gelen seslerle irkildi. Başına kaldırıp baktığında dalların arasında minik bir sincap gördü.

(İlk 4 soruyu yukarıdaki metne göre cevaplayın)

1- Ali hafta sonu için ne planlıyor?

- A) Sinemaya gitmek
- B) Pikniğe gitmek
- C) Bisiklet sürmek

2- Ali'nin planını gerçekleştirmek için nereye gidiyorlar?

- A) Alışveriş merkezine
- B) Stadyuma
- C) Şehrin dışında ormanlık alana

3- Ali dalların arasında hangi hayvanı gördü?






4- Ali ve ailesi, Ali'nin planını hangi gün gerçekleştirdiler?

- A) Cumartesi
- B) Pazar
- C) Pazartesi

5- Görsellerdeki hangi hayvanın adında "ş" harfi yoktur?



- Anlamını bilmediğim kelimeleri sözlükten buldum.
- ▲ Anlamını bilmediğim kelimelerin altını çizdim.
- ★ Metni okudum.

6- Yukarıdaki cümleleri oluş sırasına dizersek şekillerin dizilimi nasıl olur?

- A) ★ ▲ ■
- B) ■ ▲ ★
- C) ▲ ★ ■

7- Aşağıdaki cümlelerden hangisinin sonuna farklı bir noktalama işareti konulmalıdır?

- A) Bu yıl 23 Nisan hangi gün kutlanacak
- B) Bu yıl 23 Nisan Perşembe günü kutlanacak
- C) 23 Nisan akşamı İstiklal Marş'ımızı okuyacağız



Ayşe – Sami – Alp – Kayra – Mehmet – ?

8- Yukarıdaki hece sayısı örüntüsüne göre ? yerine hangi kelime gelmelidir?

- A) Ali
- B) Mert
- C) Esra

9- Aşağıdaki kelimelerden hangisinin harf sayısı en azdır?

- A) Manisa
- B) Çanakkale
- C) Konya

Küçük çocuk hızlı adımlarla yürüyordu.

10- Yukarıdaki cümlede renkli verilen sözcüklerin eş anlamları hangi seçenekte doğru verilmiştir?

- A) İri - acele
- B) Minik - süratli
- C) Büyük - yavaş








## MATEMATİK TESTİ




(Bu test 10 sorudan oluşmaktadır)


1- 1 onluk 5 birlikten oluşan nesne sayısı hangi seçenekte verilmiştir?

- A) 
- B) 
- C) 

Saat sekiz buçukta uyanan Gökçe 3 saat sonra meyve yemiştir.

2- Yukarıdaki bilgiye göre aşağıdaki saatlerden hangisi Zeynep'in meyve yediği saati göstermektedir?

- A) 
- B) 
- C) 



3- Yukarıdaki elmalar kaç adet bütün elma eder?

- A) 4  
B) 3  
C) 2





$15 \square 17$

$*20 \square 22$

$*8 \square 10$

4- Yukarıdaki sayılar arasında kalan sayılar sırasıyla hangi seçenekte doğru verilmiştir?

A) 14 21 9

B) 16 21 9

C) 18 21 11

Canan hikaye kitabının 5 sayfasını okumuştur. Geriye okunacak 13 sayfası kalmıştır.

5- Yukarıdaki bilgilere göre Canan'ın kitabının tamamı kaç sayfadır?

A) 8

B) 12

C) 18

6- Emir kırtasiyeden hikaye kitabı almış. Hikaye kitabının etiketinde 7 lira yazdığına göre Emir aşağıdaki modellemelerden hangisini ücret olarak vermelidir?

A) 

B) 

C) 





$$\square - 2 = 12$$

$$8 + \square = 11$$

7- Yukarıdaki işleme göre  $\square + \square$  işleminin sonucunu kaçtır?

A) 11

B) 13

C) 17

8- Aşağıdaki geometrik şekillerden hangisi bir örüntü oluşturur?

A)

B)

C)

9- Yılın 5. ve 7. ayları hangi seçenekte doğru verilmiştir?

A) Mayıs-Temmuz

B) Nisan-Haziran

C) Haziran-Ağustos

10- Aşağıdaki cisimlerden hangisinin köşesi vardır?

A)



B)



C)





## HAYAT BİLGİSİ TESTİ

(Bu test 5 sorudan oluşmaktadır)

1- Aşağıdakilerden hangisi doğal turistik yer değildir?

A)



B)



C)



2- Aşağıdakilerden hangisi turistik yerdir?

A) Çocuk parkı

B) Pamukkale

C) Alışveriş merkezi

3- Yaşadığınız ili kim yönetmektedir?

A) kaymakam

B) muhtar

C) vali



4- Yukarıdaki yerleşim yerlerinden hangisi en küçüktür?

A) ▲

B) ●

C) ■

5- Ülkemizin başkenti neresidir?

A) Ankara

B) İstanbul

C) İzmir





ADI:-----

SOYADI:-----

SINIFI:-----

### TÜRKÇE

#### CEVAPLAR

- |    |     |     |     |
|----|-----|-----|-----|
| 1  | (A) | (B) | (C) |
| 2  | (A) | (B) | (C) |
| 3  | (A) | (B) | (C) |
| 4  | (A) | (B) | (C) |
| 5  | (A) | (B) | (C) |
| 6  | (A) | (B) | (C) |
| 7  | (A) | (B) | (C) |
| 8  | (A) | (B) | (C) |
| 9  | (A) | (B) | (C) |
| 10 | (A) | (B) | (C) |

### MATEMATİK

#### CEVAPLAR

- |    |     |     |     |
|----|-----|-----|-----|
| 1  | (A) | (B) | (C) |
| 2  | (A) | (B) | (C) |
| 3  | (A) | (B) | (C) |
| 4  | (A) | (B) | (C) |
| 5  | (A) | (B) | (C) |
| 6  | (A) | (B) | (C) |
| 7  | (A) | (B) | (C) |
| 8  | (A) | (B) | (C) |
| 9  | (A) | (B) | (C) |
| 10 | (A) | (B) | (C) |

### HAYAT BİLGİSİ

#### CEVAPLAR

- |    |     |     |     |
|----|-----|-----|-----|
| 1  | (A) | (B) | (C) |
| 2  | (A) | (B) | (C) |
| 3  | (A) | (B) | (C) |
| 4  | (A) | (B) | (C) |
| 5  | (A) | (B) | (C) |
| 6  | (A) | (B) | (C) |
| 7  | (A) | (B) | (C) |
| 8  | (A) | (B) | (C) |
| 9  | (A) | (B) | (C) |
| 10 | (A) | (B) | (C) |

## CEVAP ANAHTARI

### TÜRKÇE      MATEMATİK      HAYAT BİLGİSİ

- |      |      |     |
|------|------|-----|
| 1-B  | 1-A  | 1-A |
| 2-C  | 2-B  | 2-B |
| 3-A  | 3-C  | 3-C |
| 4-B  | 4-B  | 4-B |
| 5-C  | 5-C  | 5-A |
| 6-A  | 6-B  |     |
| 7-A  | 7-C  |     |
| 8-B  | 8-B  |     |
| 9-C  | 9-A  |     |
| 10-B | 10-B |     |

