



MATEMATİK TESTİ



1- Görsele göre aşağıdakilerden hangisi doğrudur?


- A) En alçakta kedi vardır.
- B) En yüksekte kartal vardır.
- C) Kedi , kartaldan daha yüksektedir.



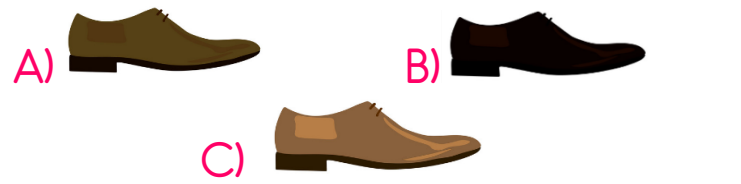
2- Yukarıdaki görselle ilgili verilen bilgilerden hangisi yanlıştır?

- A) Elma çocuğun sağ tarafındadır.
- B) Çocuğun sol tarafında 2 kitap bulunmaktadır.
- C) Çocuk masanın önündedir.

3- Aşağıdakilerden hangisi en hafiftir?



4- Yandaki ayakkabının eşi aşağıdakilerden hangisidir?



5- Yukarıdaki uğur böceklerinin sayısı hangi şıkta doğru verilmiştir?

- A) 16
- B) 17
- C) 18




MATEMATİK TESTİ

Önceki Sayı	Sayı	Sonraki Sayı
☀	13	◆

6- Tabloda ☀ ve ◆ yerine hangi sayılar gelmelidir?

	☀	◆
A)	11	12
B)	12	14
C)	14	15



Erdem 5'ten başlayıp 50'ye kadar 5'erli ritmik sayma yapıp yazmıştır.

7- Erdem "?" yerine kaç yazmalıdır?

- A) 35
- B) 40
- C) 45

8- Eren ileriye doğru onar ritmik sayma yaparken 3.saymada 70 sayısını söylemiştir. Buna göre saymaya hangi sayıdan başlamıştır?

- A) 40
- B) 50
- C) 60

9- 13 sayısından büyük 17 sayısından küçük sayı aşağıdakilerden hangisidir?


- A) 15
- B) 12
- C) 18

10- 19 sayısından önce gelen sayının onluk ve birlikleri aşağıdaki hangi seçenekte doğru verilmiştir?







- A) 1 birlik 8 onluk
- B) 1 onluk 8 birlik
- C) 1 onluk 9 birlik



MATEMATİK TESTİ



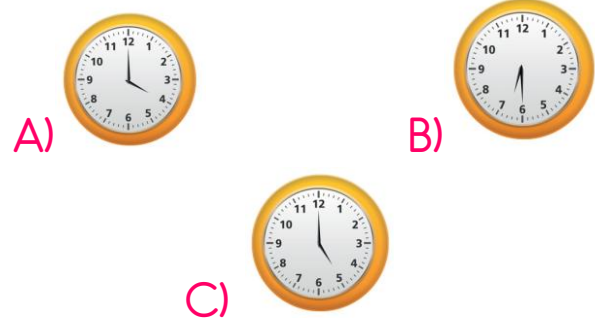
11- Hangi dikdörtgenlerin sayısı eşittir?

- A)  
- B)  
- C)  

13- Aşağıdakilerden hangisi doğrudur?







- A) Aralık 12. aydır.
- B) 1 yıl 7 aydır.
- C) Bir yıl 265 gündür.

14- Aşağıdaki saatlerden hangisi saat 4'ü göstermektedir?



$$\text{🌸} + \text{🌸} = 20$$

15- Yukarıda verilen işlemde 🌸 ve 🌸 yerine hangi sayılar yazılamaz?

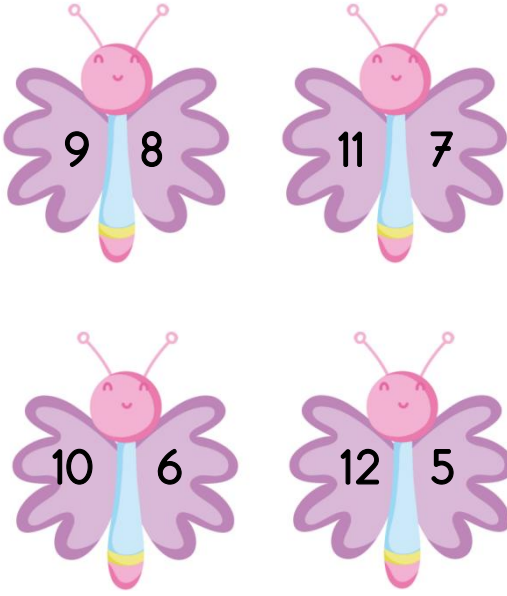
- A)  14  6
- B)  12  7
- C)  11  9



Ali ile Elif koşu yarışmasındaki sıralaması yukarıda verilmiştir.

12- Ali ile Elif arasında kaç yarışmacı vardır?

- A) 7
- B) 8
- C) 9



Kanatlarındaki sayıların toplamı 17 olan kelebekler uçabilecektir.

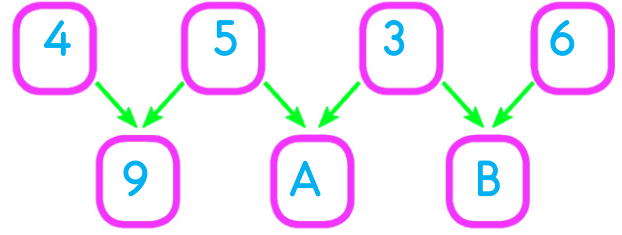
16- Buna göre yukarıdaki kelebeklerden kaç tanesi uçabilir?

- A) İki
- B) Üç
- C) Dört

$$\text{🌸} - \text{🌸} = 0$$

17- Yukarıda verilen işlemde 🌸 ve 🌸 yerine hangi sayılar yazılabilir?

- A) 12 9
- B) 10 9
- C) 9 9



18- Yukarıda verilen kutulardaki A ve B sayılarının yerine gelecek sayıların toplamı kaçtır?

- A) 15
- B) 16
- C) 17

$$14 - 5 = 9$$

19- Yukarıdaki işlemi aşağıdaki cümlelerden hangisi ifade eder?

- A) 14'ün 3 fazlası 9 eder.
- B) 14 sayısından 5 eksildi, 9 kaldı.
- C) 14 sayısının 9 eksiği 5 eder.

20- Furkan'ın 5 kalemı vardı. Babası Furkan'a 7 kalem hediye etti. Furkan babasının hediye ettiği kalemlerden 4 tanesini kardeşine verdiği göre geriye kaç kalemı kalmıştır ?

- A) 8
- B) 9
- C) 10

CEVAP ANAHTARI

I-B	2-C	3-B	4-B	5-B	6-B	7-A	8-B	9-A	10-B
11-C	12-B	13-A	14-A	15-B	16-A	17-C	18-C	19-B	20-A



MATEMATİK TESTİ

 Aşağıdaki problemleri çözünüz.



	11	6		3		9	
8		13	12		2		5
	15	7		8		3	5

Yukarıdaki arkadaşımızın ismi Kayra. Öğretmeninin verdiği ödevi yapması için ona yardımcı olmak ister misiniz? zaman tabloda verilen renkler ve renklerin içindeki sayılara göre yazılmış soruları çözünüz.

1 Pembe kutucuktaki en büyük sayı ile en küçük sayının toplamı kaçtır?

2 Mavi kutucuktaki en büyük sayıdan en küçük sayıyı çıkartırsak sonuç kaç olur?

3 Yeşil kutudaki en küçük sayıya 15 eklersek sonuç kaç olur?

4 Pembe kutucuktaki en büyük sayıdan 8 çıkarırsak sonuç kaç olur?

5 Mavi kutucuktaki en büyük sayı ile yeşil kutucuktaki en küçük sayının toplamı kaçtır?

6 Yeşil kutucuktaki en büyük sayıdan pembe kutucuktaki en büyük sayıyı çıkarırsak sonuç kaç olur?