




GEOMETRİK ÖRÜNTÜLER

Aşağıdaki örüntünün kurallarını örnekteki gibi yazıp örüntüdeki eksiklikleri tamamlayalım.




Örüntünün Kuralı:Küp-silindir-küre




Örüntünün Kuralı: _____



Örüntünün Kuralı: _____



Örüntünün Kuralı: _____



Örüntünün Kuralı: _____





👍 Tavşanları verilen örüntünün kuralına göre oklarla yürütüp havuçlara ulaştıralım.

